


	INSTITUCIÓN EDUCATIVA HÉCTOR ABAD GÓMEZ			
	Proceso: GESTION CURRICULAR	Grado: Aceleración embera	Código	
Nombre del Documento: examen de periodo- 2 Jerónimo Tascón			Versión 01	Página 1 de 1
Fecha:	Nombre del estudiante:			
Proyecto: cosmos madre tierra ser, matemáticas para la vida, arte y lúdica, lenguaje y comunicación				

AREA CIENCIAS NATURALES



1. El dibujo que aparece en la ilustración es una:
Nau dachi kuriaside kareba

- a) Bacteria espirilos
- b) Bacteria bacilos
- c) Bacteria muerta
- d) Bacteria coco



2. El dibujo que aparece en la ilustración es un:

- a) reino animal
- b) reino vegetal

- c) reino hongos
- d) reino monera



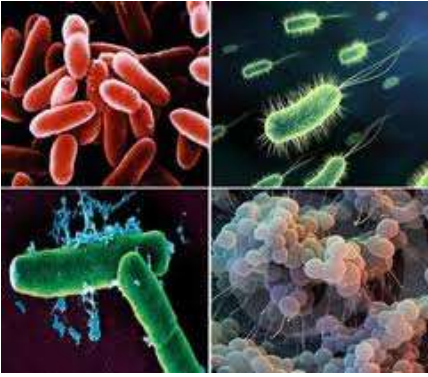
4. El dibujo que aparece en la ilustración es un:

- a) Reino vegetal
- b) reino monera
- c) reino animal
- d) ninguna de las anteriores




5. El dibujo que aparece en la ilustración es un:

- a) Reino vegetal
- b) reino animal
- c) reino de los hongos
- d) ninguno de las anteriores



6. El dibujo que aparece en la ilustración es un:

- a) Reino protista
- b) reino monera
- c) reino de los hongos
- d) ninguno de las anteriores



6. El dibujo que aparece en la ilustración es un:

- a) Reino hongos
- b) reino monera
- c) reino protista
- d) ninguno de las anteriores



7. el dibujo que aparece en la ilustración es un.

- a) Animal de agua dulce
- b) animal de agua salada
- c) animal de agua dulce y salada
- d) ninguna de las anteriores



8. el dibujo que aparece en la ilustración es un.

- a) animal de agua dulce y salada
- b) animal de agua salada
- c) animal de agua dulce
- d) ninguna de las anteriores



9. que es el sistema circulatorio

- a) apartar la sangre del cuerpo humano
- b) distribuir la sangre por todos los órganos y tejidos del cuerpo
- c) distribuir la sangre de los tejidos
- d) ninguna de las anteriores



10. de los siguientes animales responda cual es el invertebrado.

- a) el mariquita
- b) el perro
- c) el pájaro
- d) ninguna de las anteriores

	INSTITUCIÓN EDUCATIVA HÉCTOR ABAD GÓMEZ			
	Proceso: GESTION CURRICULAR	Grado: Aceleración embera	Código	
Nombre del Documento: examen de periodo- 2 Jerónimo Tascón			Versión 01	Página 3 de 1
Fecha:	Nombre del estudiante:			
Proyecto: cosmos madre tierra ser, matemáticas para la vida, arte y lúdica, lenguaje y comunicación				

AREA MATEMATICAS

- ¿qué es un conjunto?
 - A: agrupación de una sola persona
 - B: toda agrupación, colección o reunión de individuos (cosas, personas o números)
 - la escuela
 - ninguna de las anteriores
- el numero 1 575 467 escrito en el sistema de numeración romana es:
 - MDLXXVCDLXVII
 - MDLXXVCDLXVII
 - MDLXXVCDLXVII
 - MDLXXVCDLXVII
- El número de pantalones de Luis es el doble de las Álvaro, y el número de pantalones de Álvaro es el triple de las de Sonia. ¿Quién tiene el mayor número de pantalones?
 - Luis
 - Álvaro
 - Sonia
 - Luis y paco

Utiliza la tabla para responder las preguntas 4 y 5

En la tabla aparece el número de prendas de vestir en los distintos almacenes de Medellín

Almacén	Cantidad de prendas
Almacén A	20 467 788
Almacén B	20 387 988
Almacén C	20 687 890
Almacén D	17 876 876
Almacén E	16 587 876

- ¿en cuál almacén está el mayor número de prendas de vestir?
 - C
 - a
 - b
 - d
- que almacenes tienen más de 20 300 prendas de vestir
 - a y e
 - a y c
 - d y e
 - a y b
- Román compra \$ 1 8 876 bultos de abono y \$ 43 765 bultos de maíz ¿Cuánto dinero se gastó Román comprando los abonos y los bultos de maíz?
 - \$ 65 986
 - \$ 65 765
 - \$ 62 7 54
 - \$ 62 641
- Jaime vende 86 bultos de café a \$ 65 439 ¿Cuántos dinero realizo Jaime en su venta de café
 - \$ 4 543 765

- b) 4 876 876
- c) 5 627 754
- d) 5 576 876

8. Carlos tiene \$ 6 543 654 en dinero para repartir en sus dos hijos ¿Cuánto les toca a cada uno de sus hijos?



- a) 3 765 876
- b) 3 273 836
- c) 3 271 827
- d) 3 357 827

9. Jesús tenía \$ 76 654 987 para repartir en 23 familias ¿Cuánto dinero les toca a cada familia?

- a) 3 332 825
- b) 3 332 654
- c) 3 332 654
- 9) 3 546 546

10. María vende 36 kilos de cebolla y le pagan cada kilo a 1800 cuanto se gana maría en la venta de cebollas?

- a) 64 800
- b) 64 500
- c) 64 400
- d) 64 300

	INSTITUCIÓN EDUCATIVA HÉCTOR ABAD GÓMEZ			
	Proceso: GESTION CURRICULAR	Grado: Aceleración embera	Código	
Nombre del Documento: examen de periodo- 2 Jerónimo Tascón			Versión 01	Página 5 de 1
Fecha:	Nombre del estudiante:			
Proyecto: cosmos madre tierra ser, matemáticas para la vida, arte y lúdica, lenguaje y comunicación				

Área lengua castellano



1. El dibujo que aparece en la ilustración es un medio de comunicación:

- A) Familiar
- b) ancestral
- c) comunitario
- d) ninguno de los anteriores



2. El dibujo que parece en la ilustración es una:

- a) Carta
- b) una nota
- c) un testamento
- d) un periódico



3. El dibujo que aparece en la ilustración es un medio de transporte:

- a) acuático
- b) aéreo
- c) terrestre
- d) ninguno de los anteriores



4. el dibujo que aparece en la ilustración es un medio de transporte

- a) terrestre
- b) aéreo
- c) acuático
- d) ninguno de los anteriores



5. el dibujo que aparece en la ilustración es un medio de transporte

- a) aéreo
- b) terrestre
- c) acuático
- d) ninguno de los anteriores



6. el dibujo que aparece en la ilustración se les dice en ebera:

- a) dana y wawa
- b) dana y chacha
- c) chacha y wawa
- d) ninguno de los anteriores



7. el dibujo que aparece en la ilustración se le dice en ebera:

- a) Chacha y wawa
- b) dana y chacha

- c) chacha y wera kau
- d) ninguno de los anteriores



8. el dibujo que aparece en la ilustración es un:

- a) manilla
- b) okama
- c) mostacilla
- d) ninguno de los anteriores





9. el dibujo que aparece en la ilustración es un:

- a) pisia
- b) okama
- c) kurruma
- d) ninguno de los anteriores

10: como se le dice a la luna en eberabedeá

- a) jedako
- b) pisia
- c) imidau
- d) ninguno de los anteriores

	INSTITUCIÓN EDUCATIVA HÉCTOR ABAD GÓMEZ			
	Proceso: GESTION CURRICULAR	Grado: Aceleración embera	Código	
Nombre del Documento: examen de periodo- 2 Jerónimo Tascón			Versión 01	Página 7 de 1
Fecha:	Nombre del estudiante:			
Proyecto: cosmos madre tierra ser, matemáticas para la vida, arte y lúdica, lenguaje y comunicación				

1. Como se llama el rector de nuestro colegio
 - a) Jhon Jairo Mira
 - b) Jairo Orrego
 - c) Elkin Osorio
 - d) ninguno de los anteriores
2. Como se llama el alcalde de Medellín
 - a) Luis Pérez
 - b) Federico Gutiérrez
 - c) Gustavo petro
 - d) ninguno de los anteriores
3. Como se llama el presidente de Colombia
 - a) Federico Gutiérrez
 - b) Álvaro Uribe
 - c) Iván duque
 - d) ninguno de los anteriores
4. Como se llama el capital del departamento de Antioquia
 - a) Ibagué
 - b) Manizales
 - c) Medellín
 - d) ninguno de los anteriores
5. Como se llama el capital del departamento de caldas
 - a) Manizales
 - b) Medellín
 - c) Pereira
 - d) ninguno de los anteriores
6. El municipio de Envigado pertenece al departamento de
 - a) Caldas
 - b) Medellín
 - c) Antioquia
 - d) ninguno de los anteriores
7. El municipio de bello pertenece al departamento de
 - a) Risaralda
 - b) cauca
 - c) Antioquia
 - d) meta

8. El municipio de caldas pertenece al departamento de
- a) Magdalena
 - b) cauca
 - c) Antioquia
 - d) Cundinamarca
- 9.Cuál es el capital del departamento del cuaca
- a) Popayán
 - b) Santiago de Cali
 - c) Bogotá
 - d) ninguno de los anteriores
10. cuál es el capital Risaralda
- a) Manizales
 - b) Popayán
 - c) Pereira
 - d) ninguno de los anteriores