



INSTITUCIÓN EDUCATIVA
HECTOR ABAD GOMEZ



Proceso: CURRICULAR

Código

Nombre del Documento: pruebas de periodo

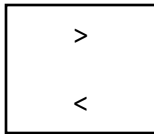
Versión 01

Página
1 de 1

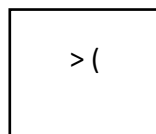
proyecto: matemática		GRADO:	PROCESOS BASICOS EMBERA
PERÍODO	Dos	AÑO:	2019
NOMBRE DEL ESTUDIANTE:			
NOMBRE DEL DOCENTE:	Argelia Tascon		

Tema: los números naturales permiten contar elementos, tener un orden de ubicación en las posiciones correspondidas, identificar cantidades y resolver problemas cotidianos utilizando operación matemática.

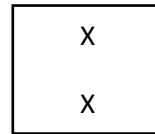
1: En las siguientes cuadros se puede observar signos matemáticos, interrogantes o signos simbólicos que transmiten una forma de comunicar o de identificar de ciertas cantidades responde de acuerdo a la gráfica que signo corresponde a mayor que y menor que



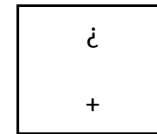
1



2



3



4

50 <input type="checkbox"/> 42	0 <input type="checkbox"/> 0	3 <input type="checkbox"/> 3
32 <input type="checkbox"/> 36	68 <input type="checkbox"/> 1	26 <input type="checkbox"/> 20
12 <input type="checkbox"/> 9	39 <input type="checkbox"/> 22	14 <input type="checkbox"/> 22
79 <input type="checkbox"/> 79	5 <input type="checkbox"/> 4	12 <input type="checkbox"/> 43
1 <input type="checkbox"/> 1	4 <input type="checkbox"/> 7	

A: figura 1 b: figura 2
c: figura 3 d: figura 4

2: En las siguientes tablas se observa los siguientes números y



INSTITUCIÓN EDUCATIVA
HECTOR ABAD GOMEZ



Proceso: CURRICULAR

Código

Nombre del Documento: pruebas de periodo

Versión 01

Página
2 de 1

3: maría salió al mercado y llevo 2000 pesos, pago 1500 pesos en una gaseosa, ¿cuánto le quedo a maría?

A: 700 pesos B: 500 pesos C: 250 pesos D: 100 pesos

4: Calor saco al mercado algunos productos para vender como naranja esta vale 150 pesos, verduras a 500 pesos y algunas especies menores como ganillas a 300 y pescado 2000 pesos

¿Cuál es el total de las ganancias de Carlos si vendió una gallina y 150 pesos de naranja?

A: 450 Pesos B: 4700 pesos C: 200 pesos D: 1000 pesos

5:



En la anterior imagen se puede observar una posicion relativa . reponda ¿ cual es la posicion relativa en la que se encuentra en gato?

A: encima de ,debajo de.

B: dentro de, fuera de .

C: izquierda y derecha



INSTITUCIÓN EDUCATIVA
HECTOR ABAD GOMEZ



Proceso: CURRICULAR

Código

Nombre del Documento: pruebas de periodo

Versión 01

Página
3 de 1

D:ningua de las anteriore