

Lee con atención y responde las siguientes preguntas de selección única

**1) que fue la revolución francesa**

Una guerra entre Francia e Inglaterra

Cuando los franceses se revelaron porque a su país estaban llegando muchos esclavos africanos

**Consistió en derribar el Régimen en el cual el rey representaba la autoridad absoluta para implantar un nuevo régimen en el cual quienes dominaron fueron los burgueses.**

2) La ilustración fue:

Un movimiento social integrado por dibujantes.

Un movimiento cultural que planteaba que la razón humana podía combatir la ignorancia, la superstición y la tiranía, para construir un mundo mejor.

La ideología que dio origen al cambio social durante el reinado de Luis XIII

3) El fenómeno acelerado de poblamiento de las ciudades a partir del siglo XVII se dio como consecuencia de:

- La revolución francesa
- La colonización de América
- La revolución industrial.

4) Al introducir nuevas técnicas de cultivo en la producción agrícola como consecuencia de los desarrollos de la revolución industrial, muchas personas que vivían del campo y dependían de las labores agrícolas quedaron sin trabajo. ¿Qué se pusieron a hacer la mayoría de estas personas ante dicha situación?

Se pusieron a trabajar en los semáforos.

Buscaron empleo en las fábricas

A y B son correctas.

5) analiza la información del siguiente cuadro y elige cuál de las afirmaciones posteriores es incorrecta:

TRANSFORMACIÓN DE LAS FORMAS DE PRODUCCIÓN A PARTIR DE LA REVOLUCIÓN INDUSTRIAL				
Espacio de producción	Con qué se trabaja	# de personas que laboran	tiempo invertido en una producción	Qué se produce
Taller	herramientas	100 obreros	10 días	10.000 metros de tela
Fabrica	Maquinas	50 obreros	5 días	10.000 metros de tela

Con la implementación de las maquinas se redujo a la mitad la cantidad de obreros y el tiempo requerido para culminar una producción.

Falsa Con la implementación de las maquinas se multiplico por dos la cantidad de obreros y el tiempo requerido para culminar una producción.

El tiempo requerido para concluir una producción y la cantidad de obreros empleados en los talleres eran superiores en un 50% al compararlos con el número de obreros y el tiempo requerido en las fábricas.

6) *Durante las tres primeras décadas del siglo xx, Medellín dejo de ser un pueblo grande de calles empedradas y estrechas, tan aislado por la geografía que la unica manera de llegar era a lomo de bestia, con una minima producción textil llevada a cabo en unos cuantos telares ubicados en un edificio pequeño y donde se cocinaba con leña.*

*Ya para 1930 se habia transformado en una pequeña ciudad ávida de desarrollo y progreso:*

*\*La población se habia duplicado.*

*\*Las calles se congestionaban con automoviles o tranvías.*

*\*Los trenes vajan llevando hasta el magdalena a las gentes ricas para que allí tomaran un barco de \*vapor y traian a la ciudad oleadas de campesinos en busca de trabajo.*

*\*Se estaba haciendo el aeropuerto y las grandes fabricas empleaban miles de trabajadores.*

*\*Las ferreterias estaban llenas de modernos aparatos eléctricos*

*\*En cualquier noche las personas podían disfrutar de funciones en las salas de cines.*

*\*Después de 1930 el crecimiento urbano se disparó y hoy Medellín es una caótica y efervescente ciudad de cerca de dos millones quinientos mil habitantes”*

**Si la rev industrial tuvo sus inicios a mediados del siglo XVIII, cuantos años se tardó en llegar el proceso de industrialización a medellín?**

Aproximadamente 170 años (cierto)

Aproximadamente 70 años

Aproximadamente 100 años

7) *Durante las tres primeras décadas del siglo xx, Medellín dejó de ser un pueblo grande de calles empedradas y estrechas, tan aislado por la geografía que la única manera de llegar era a lomo de bestia, con una mínima producción textil llevada a cabo en unos cuantos telares ubicados en un edificio pequeño y donde se cocinaba con leña.*

*Ya para 1930 se había transformado en una pequeña ciudad ávida de desarrollo y progreso:*

*\*La población se había duplicado.*

*\*Las calles se congestionaban con automóviles o tranvías.*

*\*Los trenes viajaban llevando hasta el Magdalena a las gentes ricas para que allí tomaran un barco de*

*\*vapor y traían a la ciudad oleadas de campesinos en busca de trabajo.*

*\*Se estaba haciendo el aeropuerto y las grandes fábricas empleaban miles de trabajadores.*

*\*Las ferreterías estaban llenas de modernos aparatos eléctricos*

*\*En cualquier noche las personas podían disfrutar de funciones en las salas de cines.*

*\*Después de 1930 el crecimiento urbano se disparó y hoy Medellín es una caótica y efervescente ciudad de cerca de dos millones quinientos mil habitantes”*

¿de acuerdo con lo aprendido respecto a los impactos de la revolución industrial, por qué empezaron a llegar a Medellín oleadas de campesinos en busca de trabajo?

Porque en los países vecinos había mucha pobreza y prefirieron venirse para acá.

Porque ante las limitaciones que se vivían en el campo, la ciudad era vista como el lugar donde las familias podrían progresar a través del trabajo en las fábricas.

Porque se presentó en el campo una epidemia de fiebre aftosa y las personas se sentían más seguras en la ciudad.

- 8) La revolución industrial constituyó quizá la más importante transformación en el mundo después de la revolución Neolítica (descubrimiento de la agricultura) sin ella no se habrían conformado las grandes ciudades, los desarrollos técnicos y tecnológicos que conocemos hoy en día no se habrían producido y las condiciones para el aumento de la población de las sociedades actuales tampoco se habrían presentado.

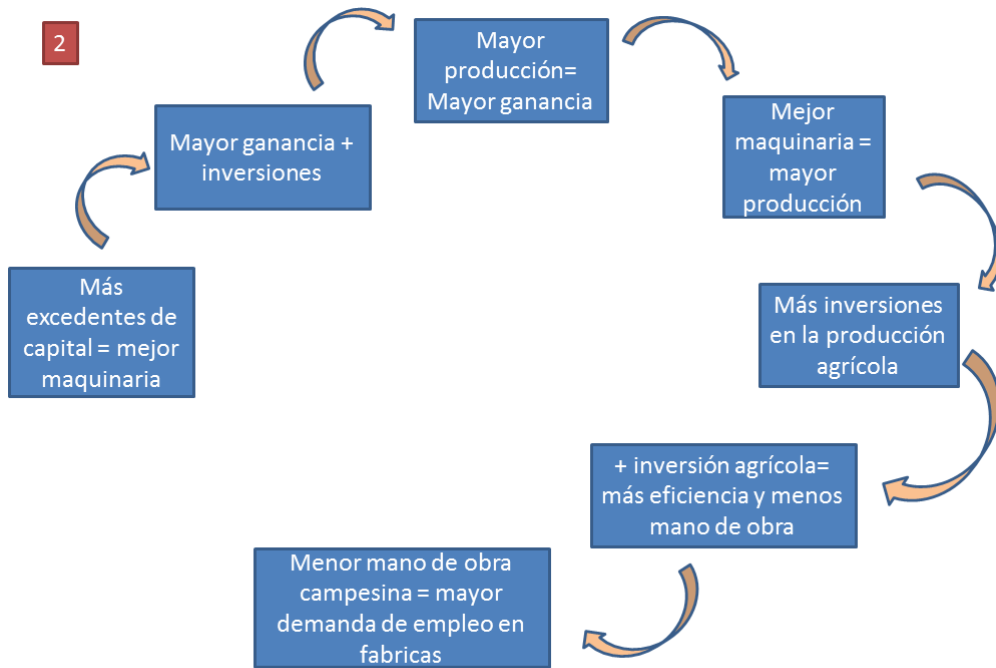
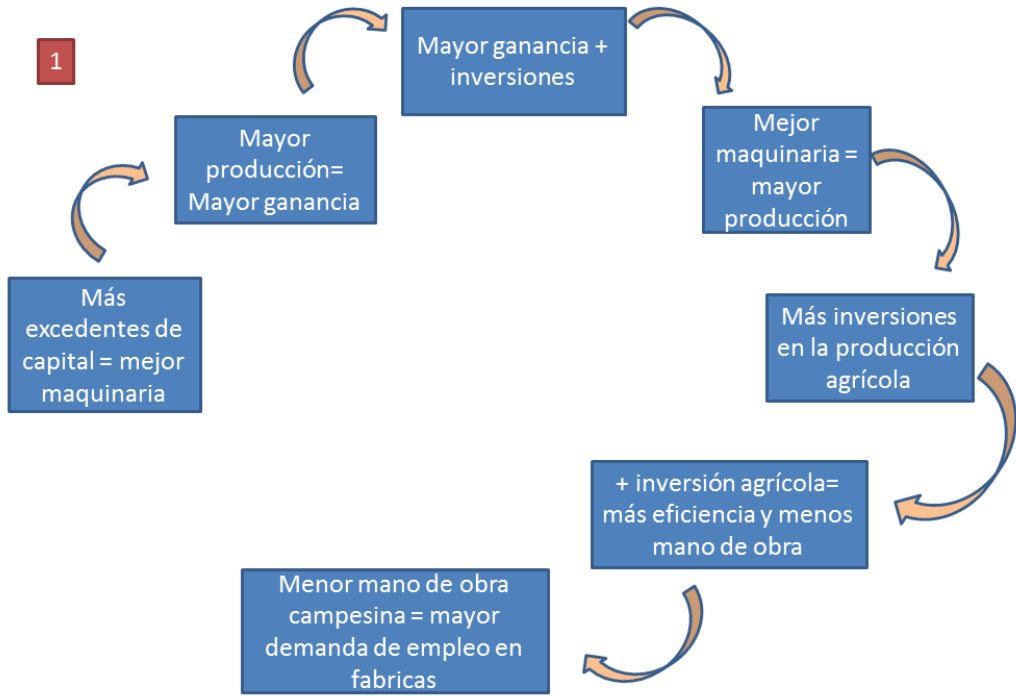
**De los siguientes enunciados, cual NO se corresponde con lo planteado en el texto:**

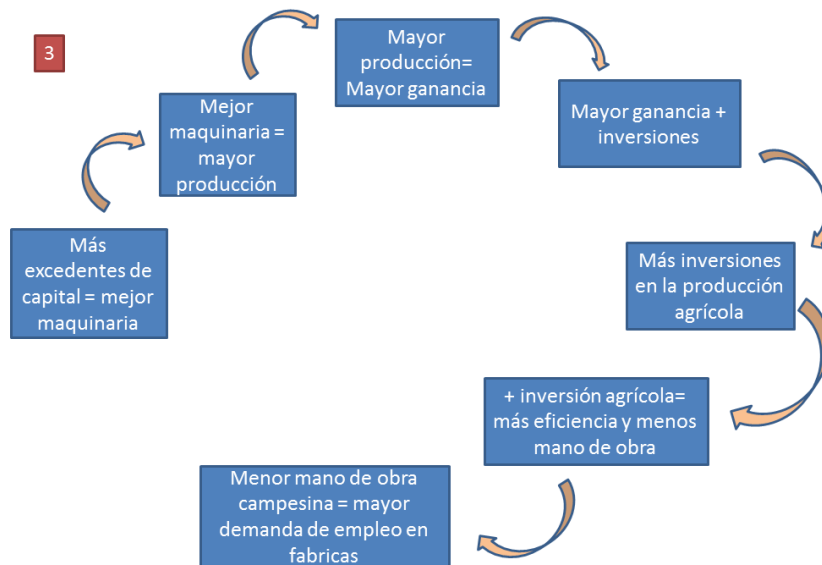
La revolución industrial también se conoce como revolución Neolítica.

La creación de las ciudades es una consecuencia de la revolución industrial.

El aumento de las poblaciones está estrechamente relacionado con la revolución industrial.

- 9) De los siguientes gráficos, cuál describe correctamente la secuencia de situaciones ocurridas como efecto de la revolución industrial?





El grafico # 1

El grafico # 2

El grafico # 3

De los siguientes personajes, cual no hizo parte del movimiento que se conoció comola ilustración:

Jean-Jacques Rousseau

Voltaire

Jean Paul Sartre.

10) Las ideas de los siguientes personajes:

**Rousseau:** afirmó que la autoridad del rey no procedía de Dios, que por el contrario es el pueblo el que decide otorgarle o negarle el poder a un gobernante

**Voltaire:** pensaba que las posiciones extremistas de la iglesia impedían el avance de las ciencias y el progreso de las naciones y proponía que la educación no fuera monopolizada por la iglesia.

**Montesquieu:** planteo que en un gobierno debe existir la siguiente separación de poderes.

- **Ejecutivo:** ejecución de acciones gubernamentales
- **Legislativo:** diseña de las leyes.
- **Judicial:** aplica las normas y principios jurídicos en la resolución de conflictos.

Fueron primordiales en el desarrollo de:

La revolución industrial

La revolución francesa

El cambio social

### 11) Las ideas de los siguientes personajes:

**Rousseau:** *quien afirmó que la autoridad del rey no procedía de Dios, que por el contrario es el pueblo el que decide otorgarle o negarle el poder a un gobernante*

**Voltaire:** *quien pensaba que las posiciones extremistas de la iglesia impedían el avance de las ciencias y el progreso de las naciones y proponía que la educación no fuera monopolizada por la iglesia.*

**Montesquieu:** *quien planteo que en un gobierno debe existir la siguiente separación de poderes.*

**Ejecutivo:** *ejecución de acciones gubernamentales*

**Legislativo:** *diseña de las leyes.*

**Judicial:** *aplica las normas y principios jurídicos en la resolución de conflictos.*

**Fueron fundamentales para impulsar un movimiento que se conoció como:**

El romanticismo.

La ilustración.

La reforma protestante.

### 12) Danton, Marat y Robespierre fueron personajes destacados durante:

La revolución industrial.

La revolución francesa.

Ninguna de las anteriores.

13) De las siguientes afirmaciones, cual NO se es coherente con los datos históricos sobre el personaje: Luis XVI.

Luis XVI fue un rey de Francia que se destacó por las eficaces decisiones que tomó durante su mandato para favorecer al pueblo.

Luis XVI y su esposa María Antonieta fueron guillotinado durante la revolución francesa

Luis XVI fue un impopular rey de Francia. Durante su reinado se originó la revolución francesa.

14) ¿qué relación existe entre la revolución francesa y la defensa los derechos humanos?

Ninguna porque durante esa revolución se vulneró el derecho a la vida de miles de personas que murieron durante la época del terror.

No tiene nada que ver una cosa con la otra.

Uno de los resultados de la revolución francesa fue la proclamación de los derechos del hombre y del ciudadano.

15) De los siguientes enunciados, cual no es coherente con lo trabajado en clase en relación al término proletariado.

El proletariado es la clase social integrada por aquellas personas que, de acuerdo con Carlos Marx, lo único que poseen es su prole, es decir, sus hijos.

El proletariado es la clase obrera.

El proletariado es un segmento de la población integrado por sindicalistas que exigen el cumplimiento de sus derechos laborales.

16) “Sistema económico y social basado en la propiedad privada de los medios de producción, en la importancia del capital como generador de riqueza y en la asignación de los recursos a través del mecanismo del mercado”.

El anterior texto constituye la definición del término:

Capitalismo.

Naturalismo.



colonialismo.

- 17) “A lo largo de la historia, las sociedades humanas han vivido una serie de transformaciones o cambios que modifican sustancialmente las relaciones entre los individuos y se expresan en un conjunto de aspectos sociales, económicos, culturales o políticos de una población. Pueden presentarse en periodos cortos o largos de tiempo e influyen notablemente en la cotidianidad de las personas”

De acuerdo con el anterior párrafo que hace referencia al cambio social, se puede concluir que:

La revolución francesa constituyo un cambio social.

La revolución industrial es un buen ejemplo de un cambio social.

A y B son correctas.

- 18) “Otro cambio que produjo la revolución industrial tuvo que ver con el uso del tiempo en las fábricas, ya no era la luz del sol o las lluvias las que regían el uso del tiempo, sino la necesidad de producir mayor cantidad en poco tiempo. Por eso en las fabricas se empezó a trabajar durante largas jornadas por un salario, sin importar quienes trabajaran. En los procesos de producción, había incluso niños, quienes debían adaptarse al ritmo y a la regularidad del proceso mecánico de las maquinas.”

De acuerdo con lo planteado en este párrafo, se puede afirmar qué:

- La revolución industrial hizo posible el surgimiento de relaciones sociales basadas principalmente en el reconocimiento de los derechos de cada persona.
- La revolución industrial dio lugar a un modelo para el cual era más importante la producción que el bienestar de las personas.
- De no haberse dado la revolución industrial, actualmente no se lucharía contra el trabajo infantil.

19) “Otro cambio que produjo la revolución industrial tuvo que ver con el uso del tiempo en las fábricas, ya no era la luz del sol o las lluvias las que regían el uso del tiempo, sino la necesidad de producir mayor cantidad en poco tiempo. Por eso en las fábricas se empezó a trabajar durante largas jornadas por un salario, sin importar quienes trabajaran. En los procesos de producción, había incluso niños, quienes debían adaptarse al ritmo y a la regularidad del proceso mecánico de las máquinas.”

Un conocido refrán sostiene que “el tiempo es oro”, si entendemos esta visión del tiempo como una herencia de la revolución industrial, podríamos afirmar que:

Como consecuencia de la revolución industrial, se asume que **el valor del tiempo** es proporcional a la cantidad de bienes que se produzcan durante el mismo.

Con el surgimiento de la revolución industrial, la eficiencia deja de ser importante.

A y B son correctas.