



INSTITUCION EDUCATIVA HECTOR ABAD GOMEZ
Núcleo de desarrollo educativo 928
Evaluación trimestral. Grado Primero


Nombre: _____

1. Observa con atención, luego encierra los dibujos con características comunes



2. identifica y une con una línea la forma geométrica con su nombre

Circulo



Cuadrado







Triangulo





INSTITUCION EDUCATIVA HECTOR ABAD GOMEZ
Núcleo de desarrollo educativo 928
Evaluación trimestral. Grado Primero

3. Escribe las siguientes palabras






INSTITUCION EDUCATIVA HECTOR ABAD GOMEZ
Núcleo de desarrollo educativo 928
Evaluación trimestral. Grado Primero

4. Escribe que está pasando en la imagen



5. Organiza la secuencia de la historia, escribe 1, 2, 3 o 4 según corresponda





INSTITUCION EDUCATIVA HECTOR ABAD GOMEZ
Núcleo de desarrollo educativo 928
Evaluación trimestral. Grado Primero

6. Identifica y colorea cuales son las normas correctas de clase



7. Identifica y colorea la imagen donde se cuide al medio ambiente







8. Observa las imágenes y une con una línea el ser vivo con el entorno al cual corresponde. Colorea



INSTITUCION EDUCATIVA HECTOR ABAD GOMEZ

Núcleo de desarrollo educativo 928

Evaluación trimestral. Grado Primero



9. Realiza las siguientes sumas y restas

$$5 + 4 =$$

$$6 + 2 =$$

$$9 + 1 =$$

$$4 + 5 =$$

$$10 - 3 =$$

$$7 - 4 =$$




INSTITUCION EDUCATIVA HECTOR ABAD GOMEZ
Núcleo de desarrollo educativo 928
Evaluación trimestral. Grado Primero

$$8 - 5 =$$

$$9 - 2 =$$

10. Calcula cual de los siguientes animales duerme **MENOS** y colorea



20 horas



16 horas



14 horas



4 horas



16 horas