



# INSTITUCIÓN EDUCATIVA HÉCTOR ABAD GÓMEZ



Proceso: GESTION CURRICULAR

Código

Nombre del Documento: Examen de periodo

Versión 01

Página 1 de 2

FECHA:

PERIODO: 3

GRADO: Procesos Básicos

Área: LOGICO MATEMATICAS

NOMBRE DEL ESTUDIANTE:

**OBJETIVO:** Comprobar los aprendizajes significativos de los estudiantes durante el tercer periodo del año escolar.

1Relaciona la imagen con el numero

Relacionamos.

2. Realizo la suma

$$\boxed{\quad} + \boxed{\quad} = \boxed{\quad}$$

$$\boxed{\quad} + \boxed{\quad} = \boxed{\quad}$$

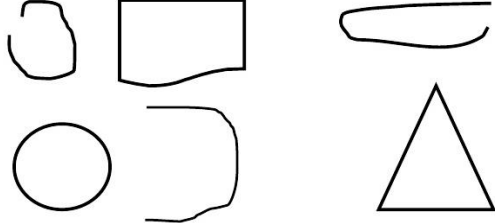
$$\boxed{\quad} + \boxed{\quad} = \boxed{\quad}$$

$$\boxed{\quad} + \boxed{\quad} = \boxed{\quad}$$

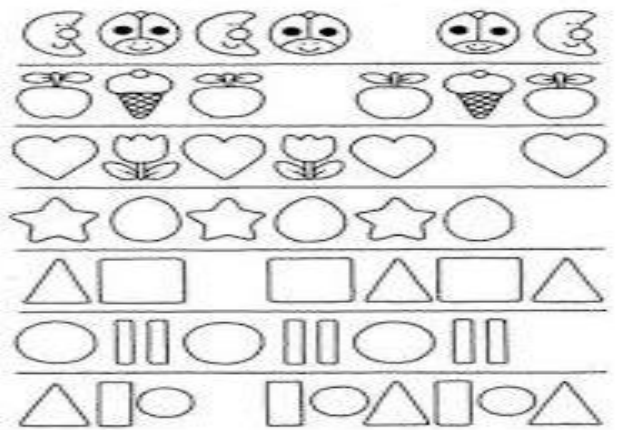
3. que numero falta

4. realiza las siguientes operaciones

Cuáles de estas líneas son abiertas?



Dibuja la figura que falta para seguir el patron



**¡Vamos a Multiplicar!**


$\begin{array}{r} 2 \\ \times 3 \\ \hline \end{array}$	$\begin{array}{r} 3 \\ \times 6 \\ \hline \end{array}$	$\begin{array}{r} 6 \\ \times 9 \\ \hline \end{array}$	$\begin{array}{r} 5 \\ \times 4 \\ \hline \end{array}$	$\begin{array}{r} 8 \\ \times 2 \\ \hline \end{array}$	$\begin{array}{r} 4 \\ \times 5 \\ \hline \end{array}$
--	--	--	--	--	--

$\begin{array}{r} 5 \\ \times 5 \\ \hline \end{array}$	$\begin{array}{r} 8 \\ \times 3 \\ \hline \end{array}$	$\begin{array}{r} 9 \\ \times 8 \\ \hline \end{array}$	$\begin{array}{r} 1 \\ \times 7 \\ \hline \end{array}$	$\begin{array}{r} 2 \\ \times 6 \\ \hline \end{array}$	$\begin{array}{r} 6 \\ \times 2 \\ \hline \end{array}$
--	--	--	--	--	--

$\begin{array}{r} 4 \\ \times 3 \\ \hline \end{array}$	$\begin{array}{r} 5 \\ \times 9 \\ \hline \end{array}$	$\begin{array}{r} 0 \\ \times 2 \\ \hline \end{array}$	$\begin{array}{r} 8 \\ \times 1 \\ \hline \end{array}$	$\begin{array}{r} 7 \\ \times 4 \\ \hline \end{array}$	$\begin{array}{r} 2 \\ \times 2 \\ \hline \end{array}$
--	--	--	--	--	--

Dibuja las manecillas del reloj según la hora indicada

**maicada y coloreada.**





# INSTITUCIÓN EDUCATIVA HÉCTOR ABAD GÓMEZ



Proceso: GESTION CURRICULAR

Código

Nombre del Documento: Examen de periodo

Versión 01

Página 2 de 2

<b>FECHA:</b>	<b>PERIODO:</b> 3	<b>GRADO:</b> Procesos Básicos
<b>Área:</b> LOGICO MATEMATICAS		
<b>NOMBRE DEL ESTUDIANTE:</b>		

15	5	33	15	4
<u>+1</u>	<u>+16</u>	<u>-14</u>	<u>+3</u>	<u>-1</u>

2	3	7	26	13
<u>+18</u>	<u>-1</u>	<u>+13</u>	<u>-14</u>	<u>-3</u>

5. Escibe el numero anterior y posterior

## anterior y posterior

ESCRIBE el número anterior y posterior:

<input type="text"/>	300	<input type="text"/>
<input type="text"/>	480	<input type="text"/>
<input type="text"/>	793	<input type="text"/>
<input type="text"/>	568	<input type="text"/>

<input type="text"/>	141	<input type="text"/>
<input type="text"/>	236	<input type="text"/>
<input type="text"/>	400	<input type="text"/>
<input type="text"/>	998	<input type="text"/>



Descubre la figura

