


	<b>INSTITUCIÓN EDUCATIVA HÉCTOR ABAD GÓMEZ</b>		
	<b>Proceso:</b> GESTION CURRICULAR	<b>Código</b>	
<b>Nombre del Documento:</b> taller		<b>Versión 01</b>	Página 1 de 1

## Plan de mejoramiento período 1



### CIENCIAS NATURALES

1. Define que son seres bióticos
2. Que le sucede a un ser vivo si lo sacan de su hábitat?
3. Es una comunidad biológica.
  - a. Seres vivos de diferentes especies
  - b. Seres que no tienen vida
  - c. Seres vivos de la misma especie
4. Que funciones realizan los seres vivos?
5. Dibuja 2 animales ovíparos
6. Dibuja 2 animales carroñeros
7. En qué consiste la depredación entre los seres vivos
8. Dibuja 3 cosas abióticas
9. Que es el hábitat?
10. Los seres vivos.
  - a. Nacen y mueren
  - b. crecen y se relacionan
  - c. nacen, crecen, se relacionan y mueren

	<b>INSTITUCIÓN EDUCATIVA HÉCTOR ABAD GÓMEZ</b>		
	<b>Proceso:</b> GESTION CURRICULAR	<b>Código</b>	
<b>Nombre del Documento:</b> taller		<b>Versión 01</b>	Página 2 de 1

## Plan de mejoramiento período 1 sociales

1. Que función desempeña el personero estudiantil
2. Que función desempeña el contralor estudiantil
3. Enumera 3 aspectos contemplados en el manual de convivencia
4. Es la capital de Colombia
  - a. Antioquia
  - b. Medellín
  - c. Bogotá
5. Escribe el nombre de 3 departamentos de Colombia
6. Cómo se llama el presidente de Colombia?
7. Es la máxima autoridad en la ciudad
  - a. El ministro
  - b. El alcalde
  - c. El secretario
8. Escribe un breve resumen sobre los primeros pobladores.
9. Por qué se dice que los muisca eran nómadas.
10. Que es el voto popular

	<b>INSTITUCIÓN EDUCATIVA HÉCTOR ABAD GÓMEZ</b>		
	<b>Proceso:</b> GESTION CURRICULAR	<b>Código</b>	
<b>Nombre del Documento:</b> taller		<b>Versión 01</b>	Página 3 de 1

## Plan de mejoramiento período

### 1 LENGUA CASTELLANA

#### LA RANA Y LA GALLIN

Desde su charco una rana, oyó cacarear una gallina. ¡Vaya! – le dijo, no creyera, hermana que fueras tan incómoda vecina. Y con toda esa bulla ¿Qué hay de nuevo?

- Nada, sólo anuncio que pongo un huevo.

- ¿Un huevo solo?

- Sí, señora mía ¿Te espantas de eso? Como yo no me espanto de oírte graznar noche y día. Yo, porque sirvo de algo lo público; tú que de nada sirves calla el pico

1. En el texto anterior

- A. Se narra un suceso
- B. Se propone una discusión
- C. Se explica una noticia o suceso real

2. Qué clase de texto es el que acabas de leer ?

3. De acuerdo al texto, el escenario o lugar donde sucede la narración es:

A. En un galpón donde se encuentra la gallina

B. en una pocilga

C. Desde el charco de la rana

4. La palabra incómoda en el texto anterior por que otro sinónimo podrías reemplazarla?

5. Según las formas del texto, en este caso, la rana y la gallina es un:

- A. texto escrito
- B. texto oral
- C. texto en inglés

6. Tú que de nada sirves calla el pico. Estas palabras las dijo:

- A. La gallina
- B. La rana
- C. La señora



7. ¿El graznido, en la lectura anterior, es emitido por qué animal?

Realiza el dibujo de ese animal.

8. Escríbele 3 antónimos a la palabra bulla.

9. ¿Qué hay de nuevo? ¿Un huevo solo? Estas 2 frases son:

- A. Enunciativa negativa
- B. Interrogativa

	<b>INSTITUCIÓN EDUCATIVA HÉCTOR ABAD GÓMEZ</b>		
	<b>Proceso:</b> GESTION CURRICULAR	<b>Código</b>	
<b>Nombre del Documento:</b> taller		<b>Versión 01</b>	Página 4 de 1

C. Exclamativas

6. Escribe 10 números impares

**Plan de mejoramiento período 1  
MATEMÁTICAS**

1. Escribe los números dígitos

7. Para qué sirven las líneas de tiempo ?

2. Resuelve el problema.

Juan recibió de cumpleaños 236.768 \$ pero de ese dinero sacó para pagar una deuda 23.495 \$ ¿ Con cuánto dinero quedó Juan ?

8. V x CIII SON NÚMEROS.

a. Dígitos.

b. romanos

c. arábigos

3.  $3+20$     $23$     $20+3$     $23$  Esto se aplica para la propiedad.

a. Modulativa

b. Conmutativa

c. Asociativa

9. Escribe los números pares que le anteceden al número 20

4. Si Camilo es mayor 3 veces que su hermana y ella tiene 6 años, entonces camilo tiene.

a. 21 años

b. 28 años

c. 18 años

10. Escribe los números impares que le anteceden al 23

5. Que dice la ley modulativa de la suma ?