

TERCER PERIODO - PRUEBA DE EMPRENDIMIENTO - GRADO 6-7 - AULAS FLEXIBLES

1 Los factores externos que afectan mi personalidad los podemos encontrar en:

- A. Las opciones B y C son correctas.
- B. La ciudad, el país, el barrio.
- C. El colegio, la universidad, el país.
- D. Todas las opciones son incorrectas.

2 Una persona innovadora es:

- A. Cautelosa
- B. Creativa
- C. Ordenada
- D. Conservadora

3 Un compromiso que debo hacer conmigo mismo cada día para seguir adelante y ser excelente Emprendedor es:

- A. Pensar en los demás
- B. Nunca dejar de soñar
- C. Estar siempre listo al cambio.
- D. Ninguna opción es correcta.

En la imagen siguiente se muestra una reunión en la cual se está hablando de un Proyecto.

4



Según el contexto de la conversación, en qué etapa del proyecto se encuentran?

- A. Diagnóstico.
- B. Planeación.
- C. Ejecución.
- D. Definición de Objetivos.

5

En la imagen siguiente se muestra una reunión en la cual se está hablando de un Proyecto.



Cuáles son las TAREAS, que se mencionan para la ejecución del Proyecto?

- A. Análisis - Diseño - Evaluación - Pruebas
- B. Análisis - Diseño - Desarrollo.
- C. Montaje - Evaluación - Pruebas
- D. Ninguna Opción es correcta.

En la imagen siguiente se muestra una reunión en la cual se está hablando de un Proyecto.

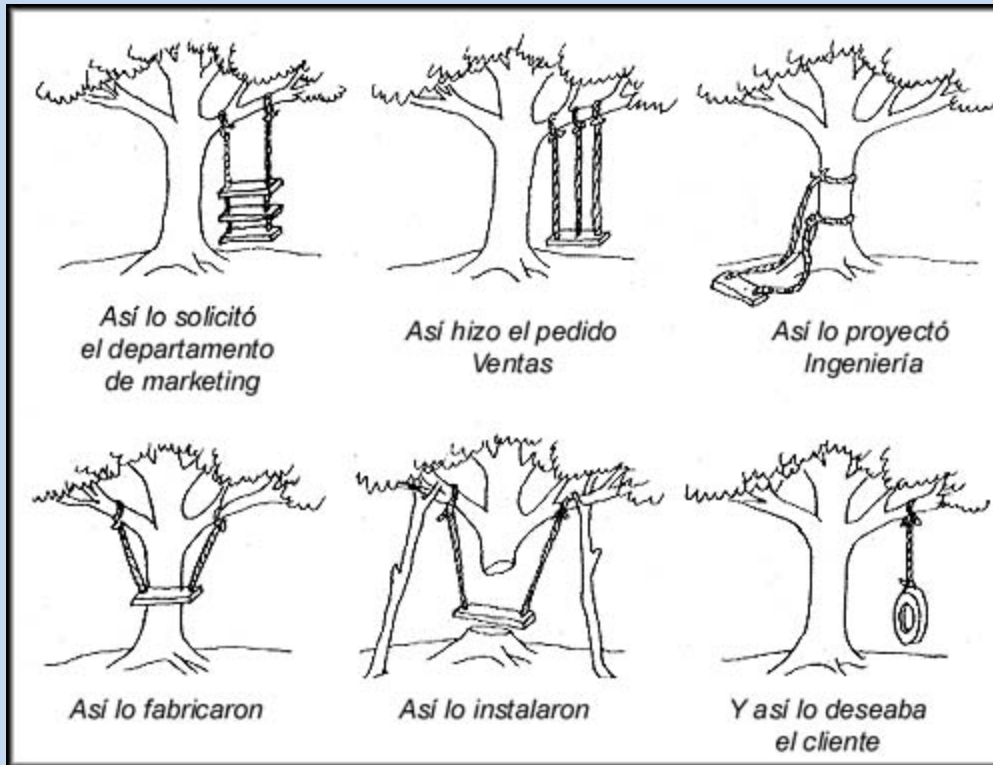
6



Según el contexto, Cuánto tiempo se requiere para la ejecución del Proyecto?

- A. 10 Semanas.
- B. 5 Semanas.
- C. 4 Semanas.
- D. 2 Semanas.

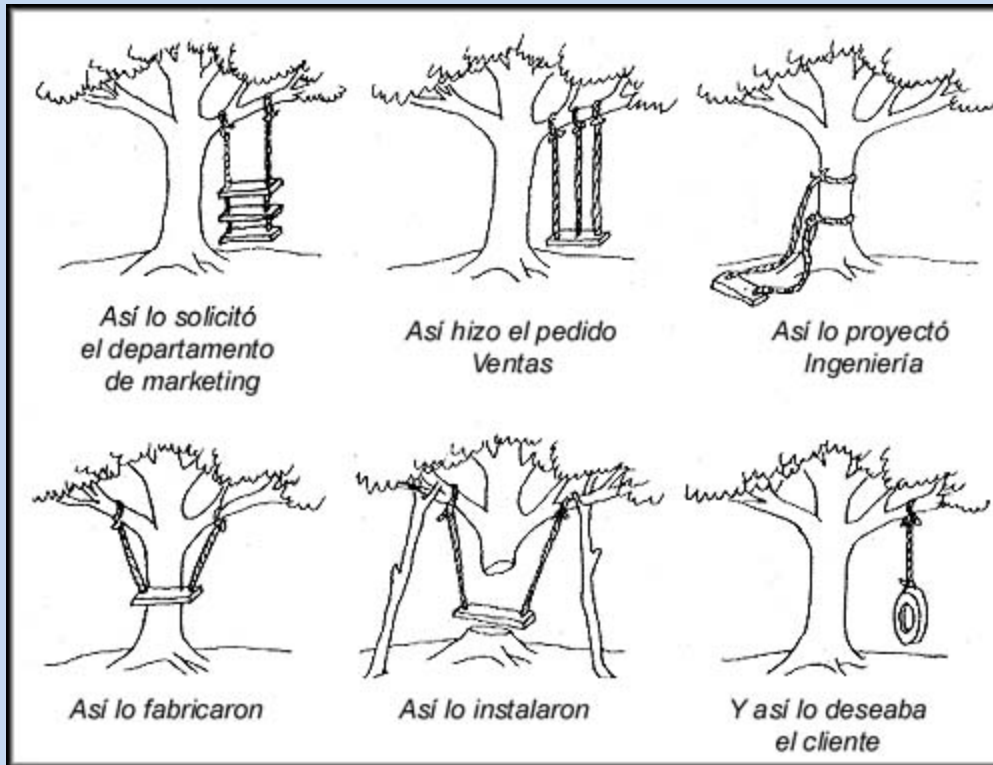
7 Observe la siguiente Imagen y responda:



Qué podemos concluir del resultado obtenido en el Proyecto?

- A. Faltó comunicación y planeación entre los diferentes grupos (Departamentos) que participaron en la ejecución del Proyecto.
- B. No se entendió claramente que era lo que el Cliente deseaba.
- C. Cuando se ejecutó el proyecto no se tenían claros los requerimientos y necesidades del Cliente.
- D. Todas las opciones son correctas.

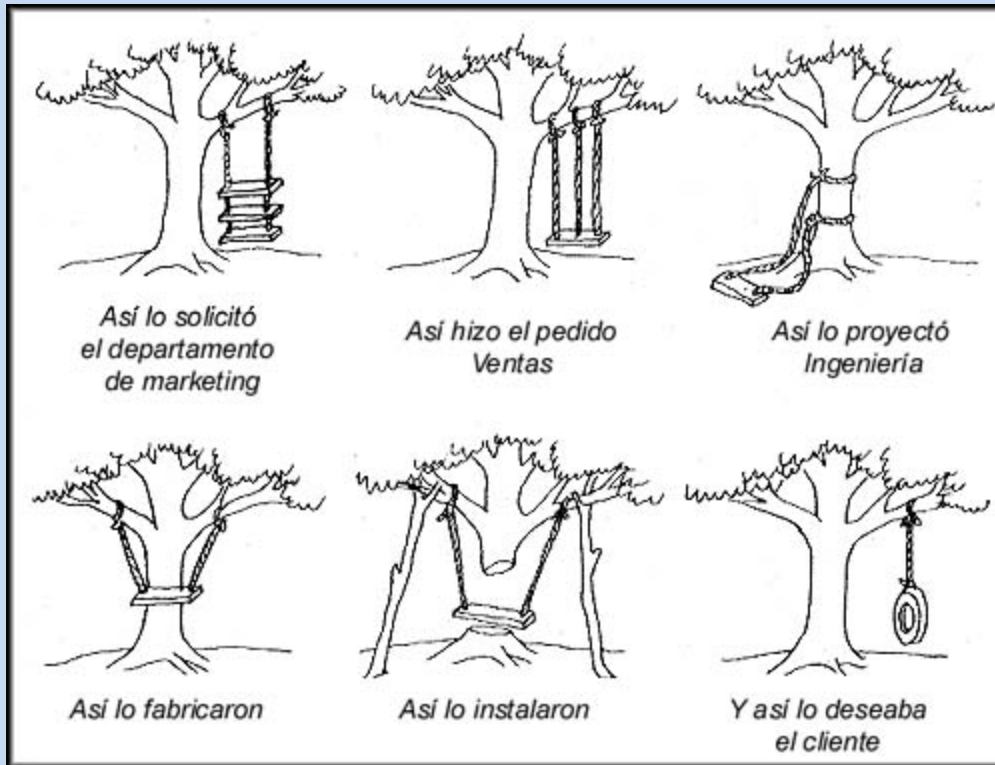
8 Observe la siguiente Imagen y responda:



Qué crees que hizo falta para obtener el resultado esperado en el Proyecto?

- A. Personal para ejecutar el proyecto.
- B. Planeación y liderazgo.
- C. Materiales para ejecutar el proyecto.
- D. Los planos para ejecutar el proyecto.

9 Observe la siguiente Imagen y responda:

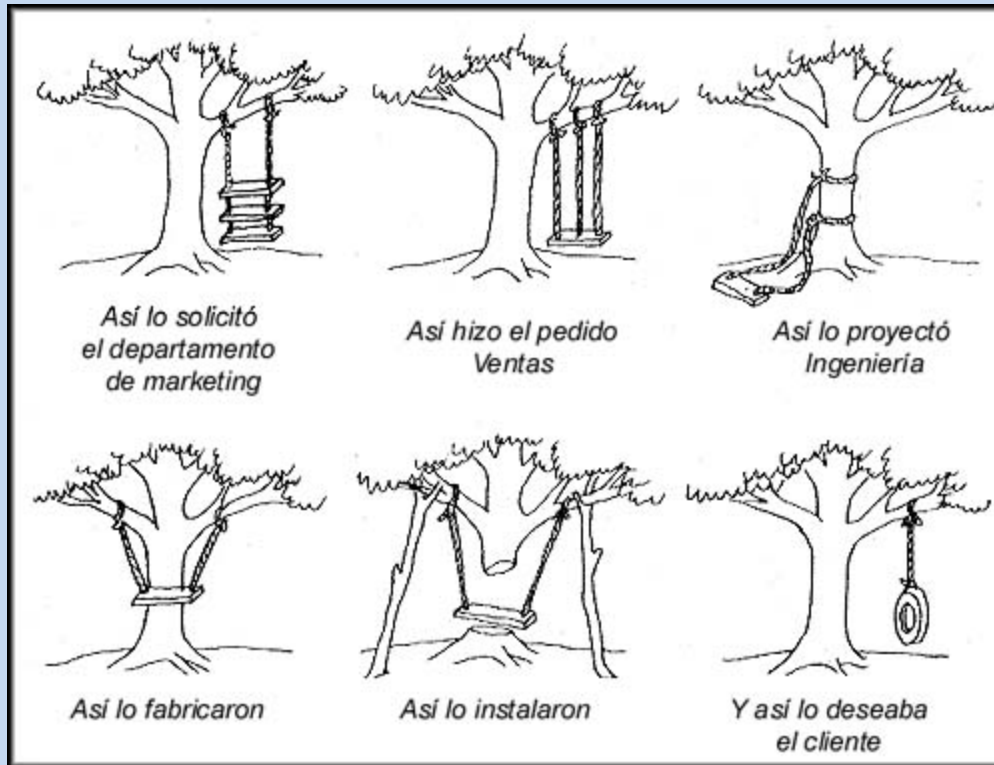


Los materiales utilizados para la ejecución del proyecto fueron:

- A. Cuerda o lazo - Tabla de Madera.
- B. Llanta - Tabla de Madera.
- C. Plastilina - Tabla de Madera.
- D. Ninguna de las opciones es correcta.

Observe la siguiente Imagen y responda:

10



Los materiales con los cuales se debió realizar el proyecto, según el pedido del Cliente son:

- A. Lazo o cuerda - Tabla de madera.
- B. Lazo o cuerda - LLanta o neumático.
- C. Tres cuerdas y una tabla de Madera.
- D. Dos cuerdas y tres tablas de madera.

En la imagen siguiente se muestra una reunión en la cual se está hablando de un Proyecto.

11



Cuál de los dos personajes es el Cliente?

- A. El de gafas.
- B. El personaje que está escribiendo.
- C. Ninguno de los dos es el Jefe.
- D. Ninguna opción es correcta.

En la etapa de **Planeación** de un proyecto, se deben definir las diferentes TAREAS a realizar.

12



Para cada una de las tareas se debe determinar la persona responsable y el tiempo que durará la tarea. Con esta información se construye lo que llamamos:

- A. Tabla de recursos.
- B. Tabla de Materiales.
- C. Cronograma de Actividades.
- D. tabla de personal.

13 En la Imagen siguiente se muestra el resultado de un Proyecto:



Qué producto crees que se deseaba obtener con este Proyecto?

- A. Un triciclo.
- B. Un equipo para hacer gimnasia.
- C. Una bicicleta.
- D. Un equipo pasamontañas.

14 Todo proyecto emprendedor tiene que tener unos recursos para su ejecución y desarrollo, como:

Recursos Humanos, físicos, intelectuales y económicos.

En el proyecto que se muestra en la figura:



Qué tipo de recurso Identificas?

- A. Físicos - Económicos.
- B. Humanos - Económicos.
- C. Humanos - Intelectuales
- D. Ninguna opción es correcta.

En la siguiente Imagen:



Hay un compromiso muy Grande para todo Emprendedor . . **Nunca dejar de ???*******

Qué es lo mas importante que identificas, para un Emprendedor?

- A. Soñar.
- B. Columpio.
- C. Niña.
- D. Entrénate.

16 En la siguiente Imagen:



Qué tipo de recurso identificas, para un Proyecto Emprendedor?

- A. Recurso Humano.
- B. Económico.
- C. Físico.
- D. Ninguna opción es correcta.

17 Según la Imagen que se muestra:



En qué etapa del proyecto están los personajes?

- A. Gestión.
- B. Construcción.
- C. Planeación.
- D. Entrega del proyecto.

18 Según el Emoticon, Me puedo definir como una persona:

- A. Todas las opciones son correctas.
- B. Simpática.
- C. Alegre.
- D. Feliz.

19 Son factores que me afectan en mi entorno FAMILIAR:

- A. El amor de mis padres y tíos.
- B. La compañía de mis amigos del colesio.
- C. El alcalde de mi ciudad.
- D. El presidente de la república.

20 Son factores que me afectan en mi entorno ESCOLAR:

- A. Los Docentes de mi colegio y el Señor Coordinador.
- B. El Alcalde de mi ciudad.
- C. El conductor del bus.
- D. Todas las opciones son correctas.

21 Las Empresas pueden catalogarse, según su influencia y cobertura de mercado en:

- A. Local, regional, departamental, nacional, internacional.
- B. Extranjera, nacional, Diplomática.
- C. Deportiva, financiera.
- D. Gubernamental, Deportiva.

22 Los símbolos o figuras con los que se identifican las Empresas y sus productos se denominan:

- A. Logotipo
- B. Eslogan
- C. Escudo.
- D. Bandera.

23 La frase o palabra/s con la que se caracterizan o hacen propaganda las Empresas para identificarse se denomina:

- A. Eslogan
- B. Logotipo.
- C. Escudo.
- D. Bandera.

24 Cuando decimos que una Empresa tiene cobertura Local es porque:

- A. Atiende el mercado y presta servicios en el sitio donde está ubicada.
- B. Porque presta sus servicios a nivel regional.
- C. Porque presta sus servicios en todo el País al cual pertenece.
- D. Ninguna de las opciones es correcta.

25 Cuando decimos que una Empresa tiene cobertura Nacional es porque:

- A. Presta sus servicios a en todas las regiones y ciudades del país al cual pertenece.
- B. Presta servicios regionales.
- C. Presta sus servicios en varios Países.
- D. Presta sus servicios en Todo el mundo.