


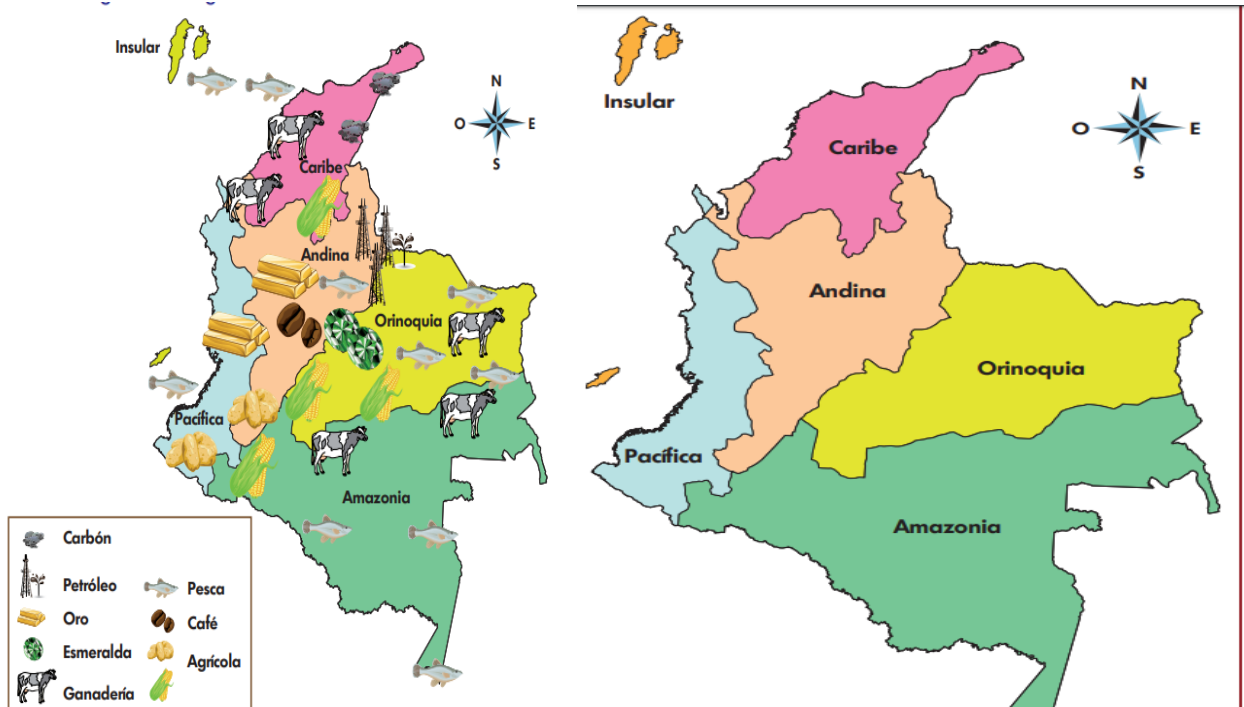
	<b>INSTITUCIÓN EDUCATIVA HECTOR ABAD GOMEZ</b>		
	<b>Proceso: GESTIÓN CURRICULAR</b>	<b>Código</b>	
<b>Nombre del Documento: TAREAS VIRTUALES PARA LA ATENCIÓN DE ESTUDIANTES DE FORMA FLEXIBLE EN CASAS</b>		<b>Versión 01</b>	<b>Página 1 de 5</b>

<b>DOCENTE: Flor María Vargas, José Ancizar Bedoya, Yesica Saavedra, Joanna Borja</b>		<b>NÚCLEO DE FORMACIÓN: Desarrollo Humano</b>	
<b>GRADO: Sextos</b>	<b>GRUPOS: 605-606- 607-608</b>	<b>PERIODO: 2</b>	<b>FECHA:</b>
<b>NÚMERO DE SESIONES:</b>	<b>FECHA DE INICIO.</b>	<b>FECHA DE FINALIZACIÓN</b>	
<b>Temas :</b>	¿Cómo se organiza nuestra región?		
<b>Propósito de la actividad</b>			
<ul style="list-style-type: none"> <li>● Conocer nuestra región, así como algunos elementos conceptuales. Este taller nos permitirá sistematizar lo que conocemos del territorio en el que vivimos y estudiar algunos aspectos relacionados con los tipos y las características de las regiones de nuestro país.</li> </ul>			
<b>ACTIVIDADES</b>			
<b>ACTIVIDAD 1 DE INDAGACIÓN</b>			
<p>Las regiones naturales de Colombia</p> <p>Juan Carlos y su familia visitan cada año la feria de las colonias, ya que se divierten mucho y conocen personas de diferentes partes del país, quienes exponen sobre sus costumbres, tradiciones y trabajos artesanales.</p> <ol style="list-style-type: none"> <li>1. Escribe cómo es o cómo te imaginas el paisaje en la selva, la costa y la montaña.</li> <li>2. Escribe cómo vive o cómo crees que vive una persona de la costa y una de Bogotá.</li> </ol> <p>Ubicación de las regiones naturales de Colombia</p> <p>El territorio colombiano se ha dividido en regiones, según las características de su paisaje natural. Como se observa en el mapa, en el país se distinguen seis regiones.</p> <p>OBSERVO CON DETENIMIENTO LOS MAPAS DE LA PAGINA SIGUIENTE Y RESPONDO</p> <ol style="list-style-type: none"> <li>1. Describe una región que te haya llamado la atención por sus recursos naturales.</li> <li>2. Explica con una frase por qué debemos conocer las regiones naturales de Colombia.</li> <li>3 ¿Cómo puedes ahora fortalecer los valores que te permiten alcanzar tus metas, en el lugar donde estás y con las personas que te rodean?</li> <li>4 ¿Qué has aprendido de las personas que te rodean?</li> <li>5 Desde ahora, ¿cómo puedes comenzar a trabajar por alcanzar tus metas teniendo como apoyo las fortalezas de otras personas?</li> </ol>			
<b>ACTIVIDAD 2 DE CONCEPTUALIZACIÓN</b>			

	<b>INSTITUCIÓN EDUCATIVA HECTOR ABAD GOMEZ</b>		
	<b>Proceso: GESTIÓN CURRICULAR</b>	<b>Código</b>	
<b>Nombre del Documento: TAREAS VIRTUALES PARA LA ATENCIÓN DE ESTUDIANTES DE FORMA FLEXIBLE EN CASAS</b>		<b>Versión 01</b>	<b>Página 2 de 5</b>

Observa los mapas y escribe tres departamentos que pertenecen a cada región.





### CÓMO SE CARACTERIZAN LAS REGIONES NATURALES DE COLOMBIA

1. Escribe el nombre de los océanos que bañan las costas colombianas.
2. Explica por qué se le da el nombre de Andina a una de nuestras regiones.

#### regiones naturales

- ◆ La región Caribe: ubicada al norte, corresponde a una llanura, interrumpida por la Sierra Nevada de Santa Marta, que tiene todos los pisos térmicos. Es una región cálida y húmeda; sin embargo, se torna seca hacia el nororiente, donde se encuentra la zona árida de La Guajira.
- ◆ La región del Pacífico: corresponde a una llanura angosta que se extiende al occidente del país, caracterizada por ser húmeda con presencia de manglares, pantanos y una extensa zona selvática. Posee importantes riquezas minerales y una rica biodiversidad.
- ◆ La región de la Amazonia: esta región se encuentra al sur del país y se caracteriza por tener una vegetación de selva, un clima cálido y húmedo y ríos caudalosos.
- ◆ La región Andina: se ubica en el centro del territorio y la conforman los tres ramales de la cordillera de los Andes. Su clima, vegetación y fauna está determinada por los pisos térmicos. Posee gran cantidad de ríos. En ella vive la mayor parte de la población del país.



	<b>INSTITUCIÓN EDUCATIVA HECTOR ABAD GOMEZ</b>		
	<b>Proceso: GESTIÓN CURRICULAR</b>	<b>Código</b>	
<b>Nombre del Documento: TAREAS VIRTUALES PARA LA ATENCIÓN DE ESTUDIANTES DE FORMA FLEXIBLE EN CASAS</b>		<b>Versión 01</b>	<b>Página 3 de 5</b>

- ◆ La región de la Orinoquía: se ubica al oriente del país y se caracteriza por una amplia llanura y algunas zonas selváticas. Sus suelos son aptos para la agricultura y posee ríos en zonas inundables y con bosques de galería.
- ◆ Región Insular: la forman el conjunto de islas, islotes, cayos y archipiélagos en el mar Caribe y el océano Pacífico. Tiene gran variedad de ecosistemas marinos. En el Pacífico están Malpelo y Gorgona; en el Caribe el archipiélagos de San Andrés y Providencia, entre otros.

1. Relaciona las siguientes imágenes con cada una de las regiones naturales de Colombia.



2. Escribe una característica que diferencia a cada región de las demás.
3. Escribe lo más destacado de la región donde vives.
4. Elabora un paralelo entre tus valores y los de otras personas que pueden enriquecer tu vida.

	<b>INSTITUCIÓN EDUCATIVA HECTOR ABAD GOMEZ</b>		
	Proceso: GESTIÓN CURRICULAR	Código	
Nombre del Documento: TAREAS VIRTUALES PARA LA ATENCIÓN DE ESTUDIANTES DE FORMA FLEXIBLE EN CASAS		Versión 01	Página 4 de 5

**Mis valores**

---

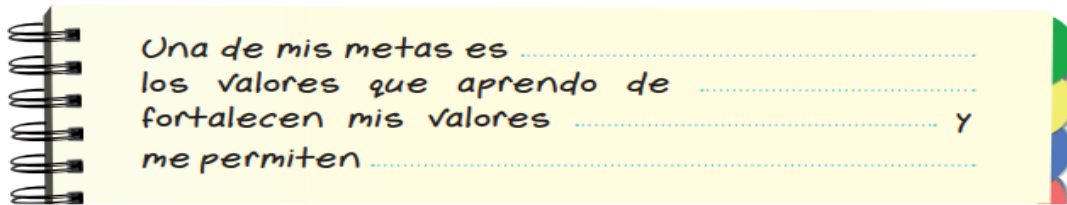
**Valores de otras personas**

---

**¿Por qué los valores de esa persona me ayudan en mi vida?**

---

2. Completa la siguiente expresión. Realiza la actividad en tu cuaderno.



Una de mis metas es .....

los valores que aprendo de .....



fortalecen mis valores ..... Y

me permiten .....

### ACTIVIDAD 3: APLICACIÓN Y EVALUACIÓN

Observa el mapa político de Colombia que aparece en la página 39 del texto **Aprendamos Haciendo 1 de Caminar En Secundaria**, texto incluido en el Kit escolar (si no tienes este texto, revisa cualquier mapa político de Colombia que encuentres en internet o en cualquier texto de ciencias sociales o de geografía)

\*observa detenidamente la ubicación de cada uno de los departamentos, posteriormente completa la siguiente información.

	<b>INSTITUCIÓN EDUCATIVA HECTOR ABAD GOMEZ</b>		
	<b>Proceso: GESTIÓN CURRICULAR</b>	<b>Código</b>	
<b>Nombre del Documento: TAREAS VIRTUALES PARA LA ATENCIÓN DE ESTUDIANTES DE FORMA FLEXIBLE EN CASAS</b>		<b>Versión 01</b>	<b>Página 5 de 5</b>

**Practiquemos lo aprendido sobre los departamentos de Colombia**  
**Escribe los nombres de algunos de esos departamentos siguiendo las siguientes instrucciones**

Limitan con el mar Caribe

No limitan con el mar  
ni con ningún país

Limitan con el océano  
pacífico

#### FUENTES DE CONSULTA

[http://redes.colombiaaprende.edu.co/ntg/men/archivos/Referentes\\_Calidad/Modelos\\_Flexibles/Caminar%20en%20Secundaria/Guias\\_del\\_estudiante/PDF\\_Grados%206\\_7/Ap%20Haciendo1\\_Grados\\_6\\_7.pdf](http://redes.colombiaaprende.edu.co/ntg/men/archivos/Referentes_Calidad/Modelos_Flexibles/Caminar%20en%20Secundaria/Guias_del_estudiante/PDF_Grados%206_7/Ap%20Haciendo1_Grados_6_7.pdf)

<file:///C:/Users/COMPAQ/Downloads/LIBRO%204%20GUIA%20SEMANAL%2012.pdf>