
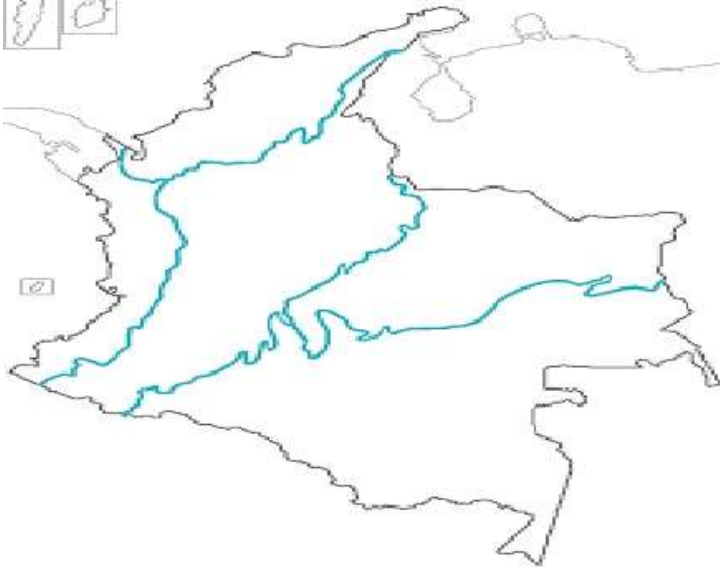
	INSTITUCIÓN EDUCATIVA HÉCTOR ABAD GÓMEZ		
	Proceso: GESTION CURRICULAR	Código	
Nombre del Documento: Examen de periodo		Versión 01	Página 1 de 4

FECHA:	PERIODO: 2	GRADO: Programa Brújula
Área: CIENCIAS SOCIALES		
NOMBRE DEL ESTUDIANTE:		

Estudiantes durante el segundo periodo del año escolar.

INSTRUCCIONES: Rellenar el avalo según la respuesta que escojas en cada pregunta

- 1- Identifique y escriba las regiones naturales Pacífico y Andina



2. .Cuál de las siguientes no pertenece a las 6 Regiones Naturales de Colombia:

- A.. Andina
- B. Oriental.
- C. Caribe.
- D. Pacífica.

3. El municipio donde vivo es:

- A. Antioquia.
- B. Medellín.
- C. Colombia.
- D. Boston.

4. El municipio donde vivo es:

- a. Antioquia.
- b. Medellín.
- c. Colombia.
- d. Boston.

ANTIOQUIA, es mi departamento, tiene gran cantidad de recursos naturales como: cerros, volcanes, montañas, mesetas. Ríos, quebradas, arroyos y mucho más.

5. ¿Qué harías para conservar el agua recurso vital para la vida?

- A. Regar las plantas todos los días
- B. Consultar por internet sobre los recursos naturales
- C. Apagar los incendios
- D. No arrojar basura a las fuentes de agua.

6. Si alguien me pregunta cuál es la ciudad capital de Antioquia, mi respuesta es:

- A. Bogotá
- B. Medellín
- C. Cali
- D. Cartagena

7. Antioquia es:

- A. Una ciudad
- C. Un país.
- C. Un mapa
- D. Un departamento.

8. Es un rio importante del departamento de Antioquia

- A. Amazonas
- B. Cauca
- C. Atrato
- D. San Juan

9. La población de un lugar está formada por:

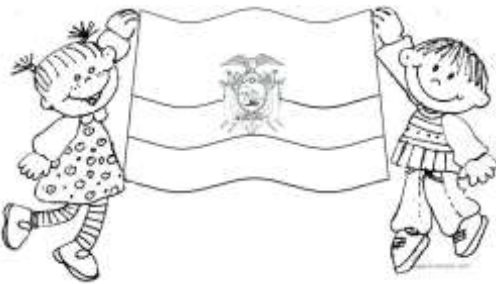
- A. Niños, niñas y jóvenes
- B. Solo personas adultas
- C. Todas las personas menos niños
- D. Todas las personas

10. El siguiente símbolo indica que:



- A. Prohibido comer.
- B. Prohibido jugar.
- C. Prohibido fumar.

11. La bandera y el escudo pertenecen a:



- A. Colombia
- B. Antioquia.
- C. Medellín.

11. El rector de mi colegio se llama:

- A. Jairo Molina
- B. Elkin Osorio
- C. Guillermo Jiménez
- D. Eduardo Osorio

12. El gobernador de Antioquia se llama:

- a. Elkin Osorio
- b. Jaime Betancur
- c. Sergio Fajardo
- d. Luis Pérez Gutiérrez.

13. El departamento de Antioquia tiene variedad de productos debido a:

- A. La variedad de climas
- B. La gente trabajadora
- C. Hay muchas fabricas
- D. Variedad de animales

14. De acuerdo a la imagen cual es el nombre del instrumento que nos ayuda para orientarnos y tiene una aguja imantada que siempre señala el norte magnético:



- A. El G.P.S.
- B. El mapa.
- C. El faro.
- D. La brújula.

15. Los niños tienen derecho a.

- A un nombre
- B. Una familia
- C. Educación y disfrutar juegos
- D. Todas las anteriores

16. No es un derecho fundamental en Colombia.

- A. Derecho a tener educación.
- B. Derecho a tener una vivienda digna.
- C. Derecho a tener un nombre.
- D. Derecho a irse de viaje.

17. .La discriminación en el colegio nos perjudica porque:

- A. Les causa daños a las relaciones entre compañeros.
- B. Frena la violencia dentro del salón de clase.
- C. Aumenta el intercambio de conocimientos.
- D. Impide el desarrollo económico.

Cuando estás en la calle y vas a cruzarla, debes observar siempre:

- A. Los autos.
- B. Las personas.
- C. El semáforo.
- D. Ninguna de las anteriores.

. La imagen muestra a dos niños



- A. peleando
- B. compartiendo
- C. comiendo

¡Es maravilloso ser único!

En el mundo no hay ninguna persona que sea exactamente como yo. Eso quiere decir que soy especial y no hay otra persona que sea igual que yo.

De acuerdo a la lectura encierro la respuesta que corresponda a la pregunta.

. De quien habla la lectura:

- A. mis hermanos
- B. mis padres
- C. yo

. ¿Por qué eres especial?

- A. no hay otra persona igual a mí.
- B. Soy igual a todos
- C. Me parezco a mis padres

5. Para ser respetados cuales valores debo practicar

- A. Amor y comprensión
- B. egoísmo
- C. agresividad

El agua es fuente de vida porque:

- A. Alimenta personas, animales y plantas
- B. Llena piscinas.
- C. Sirve para bañarse d. Hago el aseo de mi casa.

--	--