
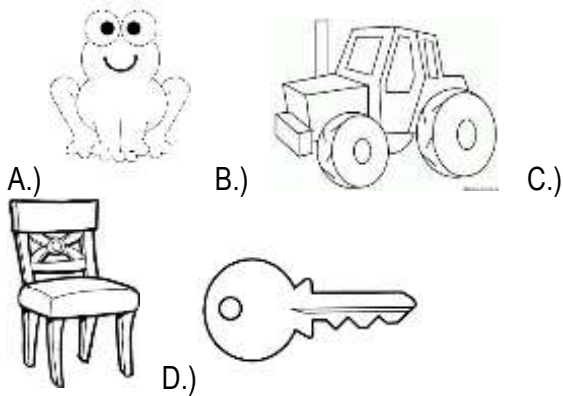
	INSTITUCIÓN EDUCATIVA HÉCTOR ABAD GÓMEZ		
	Proceso: GESTION CURRICULAR	Código	
Nombre del Documento: Examen de periodo		Versión 01	Página 1 de 3

FECHA:	PERIODO: 2	GRADO: Programa Brújula
Área: CIENCIAS NATURALES		
NOMBRE DEL ESTUDIANTE:		

Estudiantes durante el segundo periodo del año escolar.

INSTRUCCIONES: Rellenar el avalo según la respuesta que escojas en cada pregunta

1. Entre las siguientes opciones marque la que corresponda a un ser vivo.



2. Según el ciclo de la vida los seres vivos:

- A. Cantan, crecen, mueren
- B. Caminan, nacen, lloran
- C. Nacen, crecen, se reproducen y mueren
- C. Bailan, mueren, se alimentan

3. Hay un ser vivo que fabrica su propio alimento:

- A. Los perros
- B. La planta
- C. Los leones
- D. Las personas


4. Identifico las partes del cuerpo humano

- A. Cabeza, pantalón, piernas
- B. Tronco, zapatos, camisa
- C. Pico, boca, ojos
- D. Cabeza, tronco, extremidades

5. Son partes del sistema digestivo:

- Estomago-tráquea-laringe-intestino delgado
- Boca-riñones-pulmones-faringe
- Esófago-hígado-estomago-nariz
- Esófago-estomago-intestino grueso-boca.

6. Los animales tienen algunas características comunes que nos permiten agruparlos en un mismo reino a pesar de ser diferentes entre ellos. Uno de estos animales es diferente a los demás.



- A) Pez, Pájaro, Pingüino
- B) Ballena, pájaro, pez
- C) Ballena, pingüino, pez

12. El órgano que se encuentra en el tronco y que

7. Los seres vivos son los que cumplen con un ciclo de vida. Nacen, crecen, se reproducen y mueren. Los seres no vivos nunca han tenido vida, aparecen como fueron creados. Los seres que se encuentran en la naturaleza y que tienen vida son?

- Las plantas-los animales-el ser humano
- Las aves-los peces-las rocas
- Las plantas-los peces- y el plástico
- Las plantas-el hombre-el viento-el tigre

8. Algunos de los seres vivos que encontramos en la naturaleza son:

- A. El agua, los árboles, las piedras.
- B. Las plantas, la mariposa, el cocodrilo.
- C. El aire, la tierra, las hojas.
- D. Los mosquitos, el pantano, la arena.

9. Los animales que viven el agua son:

- A. terrestres.
- B. Aéreos.
- C. Subterráneos.
- D. Acuáticos.

10. Los animales son parte de la creación de Dios. ¿Cómo los debemos de cuidar?

- A. Dejándolos sin comida.
- B. Brindándoles amor y alimentación.
- C. Golpeándolos.
- D. Botándolos a la calle.

11. El oso polar VIVE en

- A. polo Norte.
- B. Sendero.
- C Selva.
- D. Desierto.

18. La raíz tiene la función de.

impulsa la sangre para que circule por todo nuestro cuerpo se llama

- A. El pulmón
- B. El estómago
- C. El corazón

13. Los pulmones son los órganos principales del sistema

- A. Digestivo
- B. Circulatorio
- C. Respiratorio

14. Nuestro cuerpo está constituido por células, las cuales se agrupan en tejidos para formar órganos. Los músculos en los seres humanos nos facilitan, principalmente.

- A. La digestión.
- B. El pensamiento.
- C. La respiración.
- D. El movimiento.

15 ¿Cuál de estas comidas consideras saludable?

- Hamburguesa
- Pastel
- Dulces
- Ensalada de frutas.

16. Uno de los siguientes no es saludable para nuestro cuerpo

- A. Tomar agua
- B. Jugar video juegos
- C. Hacer ejercicio

17. Una forma de reciclar es:

- A. Mezclar todo en una caneca
- B. Llevarla a un basurero
- C. Clasificarla en canecas

20. ¿Diga cuáles de las siguientes plantas se reproducen por semillas?

- Todas las anteriores
- Fijar la planta al suelo
- Sostener la planta
- Absorber el agua, nutrientes y minerales.

19. la hoja es el órgano encargado de:

- Llevar el agua de la raíz al tallo
- Adornar la planta
- Elaborar el alimento captar el oxígeno
- Estar en toda la planta.

- Naranja-yuca-café
- Yuca-café-orquídea.
- Rosa – cartucho-orquídea
- Cartucho-café-naranja.

21. Plantas que sirven como alimento para el hombre.

- Clavel-helecho-maní-yuca
- Plátano-naranja-pasto-helecho
- Helechos-geranio-arroz-maíz
- Arroz-maíz-frijol-yuca.