	INSTITUCIÓN EDUCATIVA VILLA FLORA	CÓDIGO: ED-F-30	VERSIÓN 2
	Taller	FECHA: 23-02-2019	

Marque el tipo de taller: Complementario _____ Permiso _____ Desescolarización X Otro _____
 Asignaturas: SOCIALES y RELIGIÓN Grado: 5 Fecha: Semanas 1 y 2 2P

Docente: LINA MARCELA NARANJO MONTOYA

Nombre y Apellidos de estudiante: _____

Propósito (indicador de desempeño):

SOCIALES: PROCEDIMENTAL: Explica y caracteriza las formas de división territorial en Colombia, diferenciándolas de las regiones geográficas del país.

RELIGION: CONCEPTUAL: Expresa testimonio de vida con actitudes de respeto hacia los demás.

Pautas para la realización del taller: El taller se realizará así:

Todo el taller se debe realizar en el cuaderno de Sociales, tomar la foto y enviar el documento por la plataforma Edmodo en la asignación de semana 1 y 2 de sociales, los estudiantes que no pueden en forma virtual deben realizarlo en hojas y entregarlo en la secretaría de la institución.

Describir ítems de evaluación del taller para el estudiante:

1. Trabajo en el cuaderno, orden, buena presentación 90%
2. Motivación e interés para él envió de las actividades físicas o virtuales. 10%

ACTIVIDADES:

Exploración:

1. Si tiene facilidad observa el siguiente video: <https://www.youtube.com/watch?v=entj3nSuAdY> de lo contrario lo puede omitir.
2. Realiza detenidamente las siguientes lecturas

¿SABIAS QUE?

El territorio continental de la República de Colombia se encuentra ubicado en la esquina noroccidental de América del Sur, sobre la línea ecuatorial, en plena zona tórrida. A pesar de que la mayor parte de su extensión territorial, se encuentra en el hemisferio norte, Colombia es equidistante con los dos extremos del continente americano.

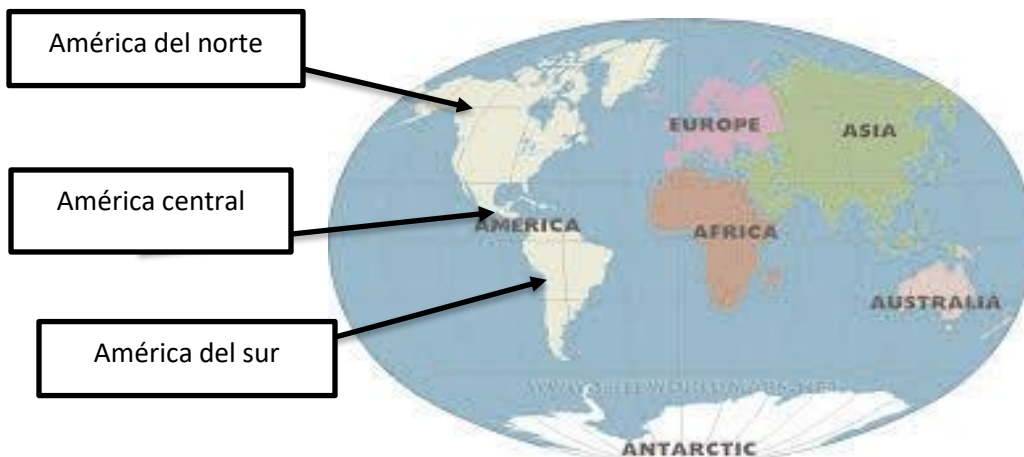
El territorio de Colombia cuenta con una superficie terrestre de 1.141.748 km², que abarca desde la gran selva amazónica hasta el istmo de Panamá, siendo atravesado por la gran cordillera de los Andes que en Colombia se divide en tres ramas (Oriental, Central y Occidental); adicionalmente Colombia es el único país de Suramérica que cuenta con costas en el océano Pacífico y el océano Atlántico (Mar Caribe), lo que le añade una extensión marítima de 928.660 km².

MAPA UBICACIÓN GEOGRÁFICA DE COLOMBIA



REPASEMOS UN POCO:

Colombia está localizada en el continente americano, en el extremo noroccidental de América del sur. América es uno de los cinco continentes que conforma el planeta Tierra y ocupa el segundo lugar en extensión des pues de Asia. El continente americano, a su vez esta dividido en tres masas continentales (América del norte, América central, América del sur).

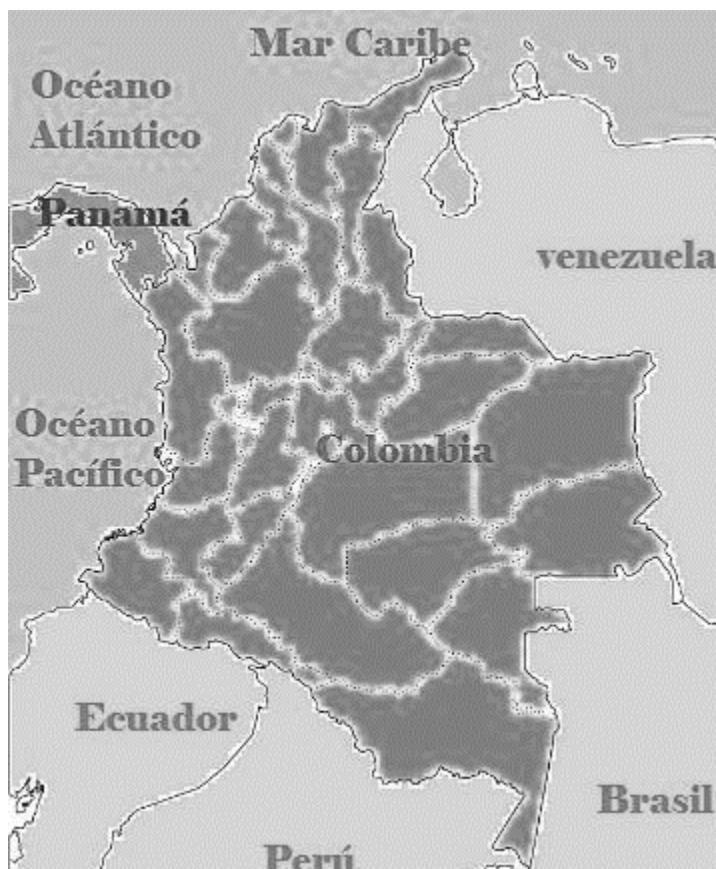


La posición geográfica de un país se establece localizando los territorios que rodean en los cuatro puntos cardinales: Norte, Sur, Oriente, Occidente. Colombia se encuentra ubicada al noroccidente de Suramérica, su posición geográfica privilegiada le permite tener áreas continentales y marítimas que le permiten apropiar mejor el espacio geográfico.

NUESTRO PAIS LIMITA:

Al norte con el océano atlántico.
Al sur con Ecuador, Perú, y Brasil.
Al oriente con Venezuela y Brasil.
Al occidente con el océano pacífico y Panamá.

3. Has observado que en Colombia tenemos diferentes religiones, razas, costumbres, es decir, gran diversidad cultural, la cual es una característica esencial de la humanidad y un factor clave de su desarrollo. Colombia es un país reconocido por su compleja y rica diversidad cultural que se expresa en una gran pluralidad de identidades y de expresiones culturales de los pueblos y comunidades que forman la nación



Estructuración:

4. Realiza el mapa de Colombia con sus límites, utiliza papelitos de colores y cubre cada uno de sus límites recortando y pegando los papelitos con colbón, solo el mapa quedara en blanco, pero tú le darás un toque diferente ¿Cómo? Juega con tu creatividad
5. Responde las siguientes preguntas:
 - A. ¿Cuáles son los países que limitan con Colombia?
 - B. ¿Cuál es el único país de América del sur que tiene costas en los dos océanos?
 - C. Menciona 3 ventajas que tiene Colombia al poseer áreas marítimas.
 - D. ¿Por qué se dice que Colombia tiene una posición geográfica privilegiada?
 - E. ¿Cuáles son los dos océanos que bordean el territorio colombiano?
 - F. ¿Cuál es la comida típica de las regiones que limitan con los océanos?
 - G. ¿Cuáles son etnias que predominan en Colombia?
 - H. Menciona 3 costumbre de las personas que viven cerca al océano y 3 costumbres de las personas que vivimos en el interior.
 - I. ¿Cómo se manifiesta la diversidad cultural en Colombia?
6. De acuerdo con el video <https://www.youtube.com/watch?v=NOpERyqHipp>
 - A. Escribe qué valores se observan allí
 - B. Escribe qué debemos agradecer a Dios, por nuestro país,
 - C. Dibujas una chiva como en el video y le pegas cada una de esas cosas que le quieres agradecer a Dios por su país, y los valores bonitos que se reflejan en su gente.

7. Dibuja el mapa de América del sur y escribe cada uno de los límites de Colombia.



mundonets.com

8. Realiza lo siguiente en el cuaderno.

Completa el texto con la palabra clave.

PALABRA CLAVE


- Atmosférica
- Continental
- Océano pacífico
- Islas
- Aguas
- Océano atlántico
- Extensión

La superficie colombiana está compuesta por una parte _____ y otra insular. La primera es la porción de tierra unida al continente la otra comprende el conjunto de _____. La superficie terrestre colombiana tiene una _____ de 1'141. 748KM. Las _____ territoriales que están en las costas del _____ y del _____ y por ultimo el espacio aéreo, formado por una capa _____ hacen parte del territorio colombiano.

Transferencia

9. Realiza la siguiente sopa de letras y escribe al finalizar 3 diferencia culturales de cada país.

Busca en la sopa de letras países y mares con los cuales limita Colombia. Luego, escríbelos.



10. Elabora un collage sobre el mapa con las cosas más lindas que posee Colombia en cada una de sus regiones (mínimo 10 diferentes) y por las cuales debemos que agradecer a Dios. Animo tu eres muy creativo(a).

