


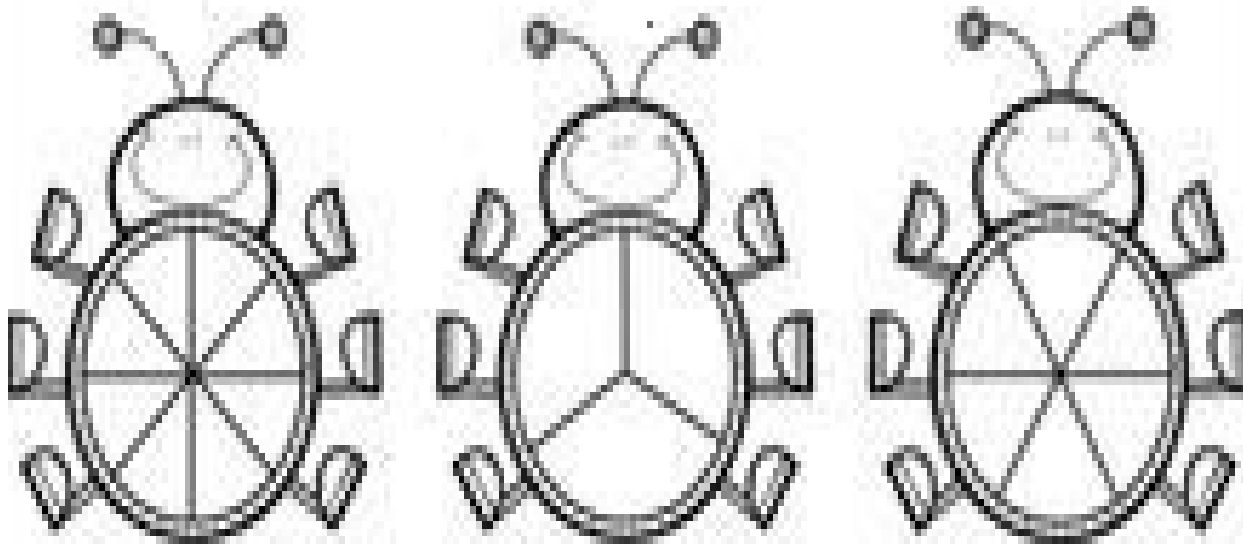
	INSTITUCIÓN EDUCATIVA VILLA FLORA		CÓDIGO: ED-F-27	VERSIÓN 3
	PLAN DE APOYO			FECHA: 18-09-2020
Área y/o Asignatura: MATEMATICAS		Grado: 5°	Periodo: 1	
Docente (s): MARILUZ VIVIANA MARTINEZ CORTÉS DENNYS HOYOS Nombre:				
INDICADOR(ES) DE DESEMPEÑO:				
<ul style="list-style-type: none"> • Determina criterios para ordenar fracciones y decimales de mayor a menor o viceversa; y las operaciones suficientes y necesarias para solucionar problemas con patrones de medida asociados a un número natural o a un racional (fraccionario). • Registra, organiza y presenta la información recolectada usando tablas, gráficos de barras, gráficos de línea y gráficos circulares y escribe informes sencillos en los que compara la distribución de dos grupos de datos. 				
FECHA DE PRESENTACIÓN	ACTIVIDAD A REALIZAR			
2 de mayo.	1.Resolver TALLER			
OBSERVACIONES:				
<ul style="list-style-type: none"> • Realizar el taller en hojas de block bien organizado. • Criterio de evaluación: Taller completo bien realizado y terminado. • Repasar los temas del periodo para la debida sustentación. • Repasar las operaciones básicas. • Manejar las tablas de multiplicar. 				

ACTIVIDADES PARA REALIZAR




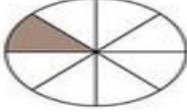


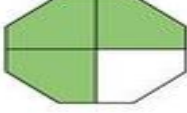

1. Relaciona cada multiplicación con su resultado

4×5		81
6×3		18
9×7		32
8×6		10
9×9		35
8×4		63
5×7		20
2×5		48

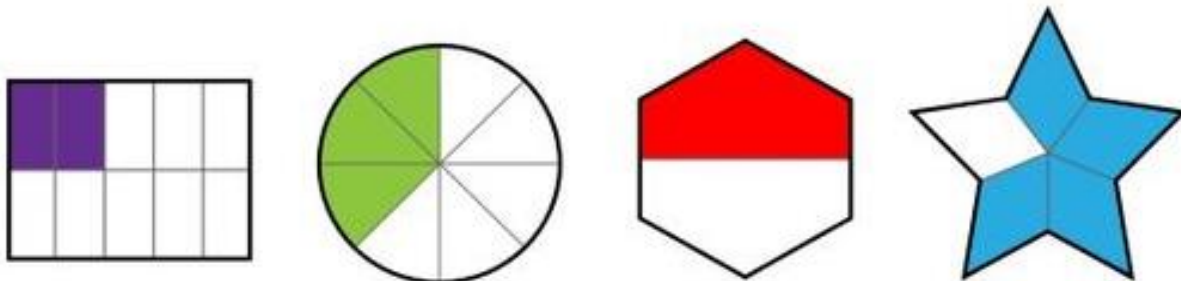
2. Colorea las siguientes fracciones según tu imaginación y escribe la fracción correcta



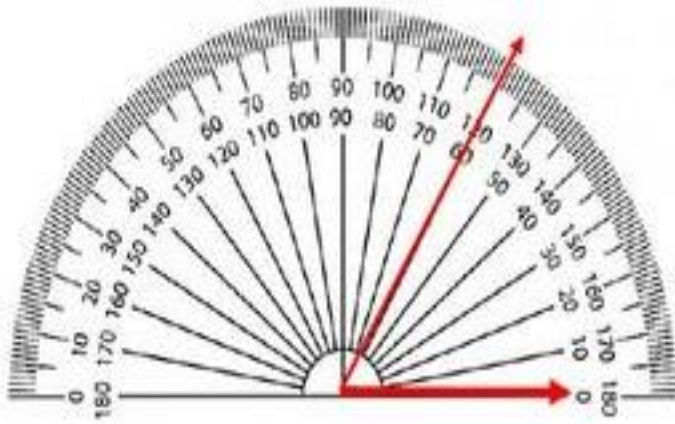
3. Relaciona las siguientes fracciones.

	•	•	$\frac{1}{8}$
	•	•	$\frac{2}{6}$
	•	•	$\frac{1}{4}$
	•	•	$\frac{1}{2}$
	•	•	$\frac{3}{4}$
	•	•	$\frac{1}{3}$
	•	•	$\frac{3}{8}$
	•	•	$\frac{1}{6}$

4. Escribe debajo el nombre las siguientes fracciones.



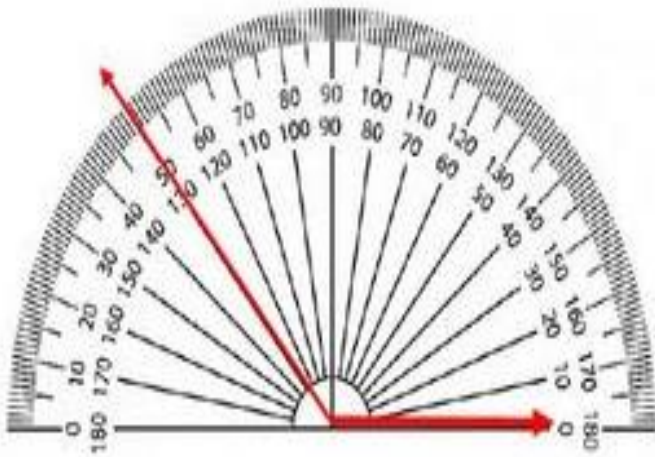
5. Busca cuanto mide cada ángulo y colorea la respuesta correcta



120°

60°

180°



130°

50°

130

6. Realiza un ángulo de:

- a. 90 grados
- b. 45 grados

