



INSTITUCIÓN EDUCATIVA MANUEL URIBE ÁNGEL

Resolución 16727 de diciembre 20 de Diciembre de 2010
Modificada mediante Resolución N° 201850018639 de febrero 23 del 2018
CODIGO DANE 105001005380 NIT 900412664-3 NUCLEO EDUCATIVO 915

¡La Excelencia comienza con la convivencia!

PLAN DE APOYO Y PROFUNDIZACIÓN PERIODO: III
NOMBRE DEL DOCENTE: DOCENTES GRADO PRIMERO

FECHA: AGOSTO 2019

AREA: Sociales


GRADO: 1º

INDICADORES DE DESEMPEÑO:


- Identificación y descripción de cambios y aspectos que se mantienen en sí mismo y en las organizaciones de su entorno.
- Reconocimiento y descripción de las características físicas de las principales formas del paisaje.
- Comparación de las formas de organización propias de los grupos pequeños (familia, salón de clases colegio) con las de los grupos más grandes (resguardo, territorios afrocolombianos y municipio).

DESCRIPCIÓN DE LAS ACTIVIDADES PEDAGÓGICAS A DESARROLLAR:


1. Todos los seres vivos evolucionan y se desarrollan. En la siguiente imagen señala con una flecha la cría que corresponde a cada uno de los animales.



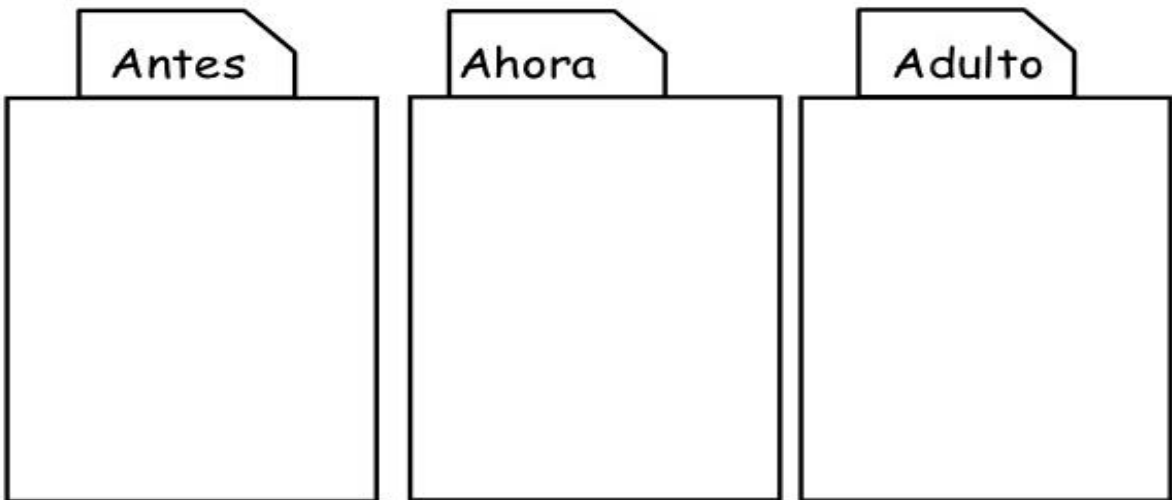
2. Enumere del 1 al 4 las etapas de crecimiento y desarrollo del ser humano





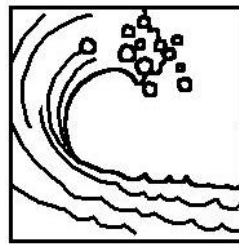

3. Realice el dibujo que continúa con el proceso de crecimiento de la planta:



4. Realiza tu dibujo según la indicación:



5. Una con una línea a cada especie con el hábitat al que pertenece:



6. Entre algunos de los hábitats que encontramos están el desierto, los polos, la selva. Escriba dos características para cada uno de ellos:

DESIERTO:

- _____
- _____

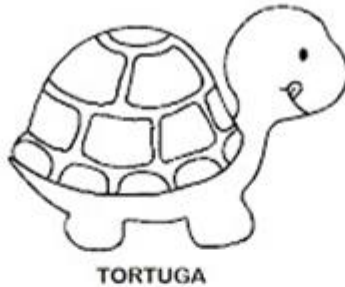
POLOS:

- _____
- _____

SELVA:

- _____
- _____

7. Coloree los animales que habitan en la sabana:




TORTUGA



JIRAFa



LEÓN




ELEFANTE



CAMELLO

8. Une cada hábitat con su imagen:



Hábitat aéreo

Hábitat acuático

Hábitat terrestre

9. Marque con una X el animal que habita en el hábitat aéreo y terrestre:



10. Marque con una X el animal que habita en el hábitat acuático:




11. Realice el dibujo del hábitat donde vives:



12. En el dibujo identifique las diferentes formas del relieve y escriba en cada espacio el nombre que corresponda:

valle volcán mar meseta cordillera río montaña costa



13. Escriba 3 personas que haga parte de cada una de las siguientes organizaciones sociales

ESCUELA:

- _____
- _____
- _____

FAMILIA:

- _____
- _____
- _____

BARRIO:

- _____
- _____
- _____

14. Piense y explique claramente ¿cuál debe ser el aporte que cada persona hace en las diversas organizaciones sociales donde se desenvuelve: familia, colegio, barrio, comunidad religiosa, artística o deportiva, para que exista un ambiente de paz y san convivencia? Y ¿Por qué?

Porcentaje evaluación:

20% TRABAJO ESCRITO y 80% SUSTENTACIÓN

ELEMENTOS A EVALUAR

- Presentación del trabajo en la fecha acordada
- Sustentación en clase

FECHAS: (definir según cronograma)

FIRMA DEL DOCENTE: