



Institución Educativa Diego Echavarría Mías

Aprobado por Resolución Departamental Nº. 16217 de Noviembre 27 de 2002
Modificada por Resolución Municipal # 201850050021 del 16 de Julio de 2018 – Resolución Municipal # 325 de 2016
Resolución # 201750001208 del 17 de Julio de 2017 - Resolución # 50001208 de 2017
y Resolución Municipal #201850055483 del 8 de Agosto de 2018.
DANE: 105001000931 / Nit. Nº 811019723-2
Núcleo 919 - MEDELLÍN

GUÍA DIDÁCTICA No 1

Fecha:

Docente: Sally Jiménez Herrera Luz Amparo Corrales Monsalve Joyce Zenyth Orozco Murillo Diana Cecilia Vargas Lopera	Área/ asignatura:	Grupo PRIMERO
Correo electrónico: sallyjuliettejimenezherrera@yahoo.es lamparocorrales@yahoo.es universojoys@hotmail.com dianacecilia101@hotmail.com	Ciencias Naturales	

Esta guía es un recurso que permite afianzar los procesos de aprendizaje. Realízala con responsabilidad, si es necesario con el acompañamiento de tu familia. Devuélvela a tu maestro en las fechas establecidas a través del correo electrónico (o de la manera que el docente te indique).

Propósito:

Detectar los cambios físicos que ocurren en nuestro cuerpo durante el crecimiento y el reconocimiento y cuidado del mismo en las diferentes etapas de la vida.

Competencia (s) a desarrollar:

Cognitiva:

Registra cambios físicos ocurridos en su cuerpo durante el crecimiento, tales como peso, talla, longitud de brazos, piernas, pies y manos, así como algunas características que no varían como el color de ojos, piel y cabello.

Procedimental:

- Describe y caracteriza utilizando el sentido apropiado, sonidos, sabores, olores, colores, textura y formas.
- Describe su cuerpo y predice los cambios que se producirán en un futuro, a partir de los ejercicios de comparación que realiza entre un niño y un adulto.

Actitudinal:

Asume hábitos de vida saludable en la cotidianidad.

Actividades:

Nuestro cuerpo sufre grandes cambios conforme vamos creciendo y nos permite conocer el mundo a través de los sentidos.



Institución Educativa Diego Echavarría Misas

Aprobado por Resolución Departamental N° 16217 de Noviembre 27 de 2002
Modificada por Resolución Municipal # 201850050021 del 16 de Julio de 2018 – Resolución Municipal # 325 de 2016
Resolución # 201750001208 del 17 de Julio de 2017 - Resolución # 50001208 de 2017
y Resolución Municipal #201850055483 del 8 de Agosto de 2018.
DANE: 105001000931 / Nit. N° 811019723-2
Núcleo 919 - MEDELLÍN

1. Ficha: Marca con una X la letra con la respuesta correcta y luego colorea el dibujo.



Institución Educativa Diego Echavarría Mías

Aprobado por Resolución Departamental N° 16217 de Noviembre 27 de 2002
Modificada por Resolución Municipal # 201850050021 del 16 de Julio de 2018 – Resolución Municipal # 325 de 2016
Resolución # 201750001208 del 17 de Julio de 2017 - Resolución # 50001208 de 2017
y Resolución Municipal #201850055483 del 8 de Agosto de 2018.
DANE: 105001000931 / Nit. N° 811019723-2
Núcleo 919 - MEDELLÍN

1. Laura desea saber la textura que tienen las piedras. ¿Cuál es el sentido que debe utilizar para saberlo?

(A)



(B)



(C)



2. Para mantener sano nuestro cuerpo debemos realizar algunas acciones. ¿Cuál es una de ellas?

(A)



(B)



(C)



5. Elena y Samuel investigaron sobre un satélite de la Tierra que no tiene luz propia. ¿Cuál es?

(A)



(B)



(C)



6. En esta estación del año hace más calor y los rayos del Sol iluminan por más tiempo el día.


(A)



(B)



(C)



7. Escribe en el círculo el número que corresponde a la etapa del ciclo de vida de un pollo.

○




○




○



○



8. Escribe en la línea una característica que comparten los animales de las imágenes.



2. Ficha:



Institución Educativa Diego Echavarría Mías

Aprobado por Resolución Departamental N° 16217 de Noviembre 27 de 2002
Modificada por Resolución Municipal # 201850050021 del 16 de Julio de 2018 – Resolución Municipal # 325 de 2016
Resolución # 201750001208 del 17 de Julio de 2017 - Resolución # 50001208 de 2017
y Resolución Municipal #201850055483 del 8 de Agosto de 2018.
DANE: 105001000931 / Nit. N° 811019723-2
Núcleo 919 - MEDELLÍN

Marca con una X la respuesta correcta

1 ¿Cuáles hábitos sirven para mantener la salud?

Bañarse diariamente.
Beber agua simple potable.
Lavarse las manos después de ir al baño

(A)

Ponerse ropa ajustada.
Usar las uñas largas.
Bañarse cada tres días.

(B)

Lavarse los dientes solo en las noches.
Jugar con la basura.
Dormirse con la ropa puesta.

(C)

2 ¿Cuáles días de la semana ~~no~~ vas a la escuela?

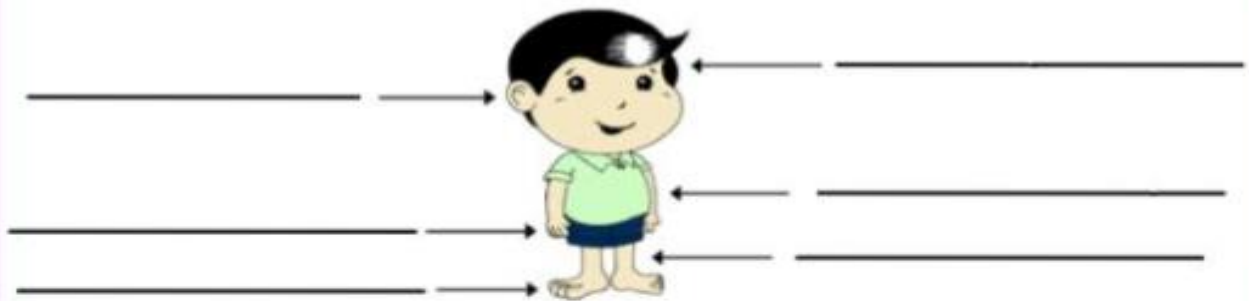
(A) Sábado y domingo

(B) Miércoles y jueves

(C) Viernes y sábado

Observa las imagen y completa

3 Escribe en las líneas el nombre de las partes del cuerpo.



4 Escribe tu nombre y tu fecha de nacimiento.

Escribe el nombre del documento donde consta que así te llamas.

Nombre _____

Fecha de nacimiento _____

Documento _____

Valoración:

El desarrollo adecuado de las actividades corresponderá al 100% de la calificación.

Instrucciones para el desarrollo de la guía:

Los padres deberán acompañar a sus hijas en el desarrollo de las actividades con el fin de leer las instrucciones y aclarar dudas frente a la actividad.