



TALLER # 5 SOCIALES-GRADO TERCERO

Sede Ramón Vélez Isaza

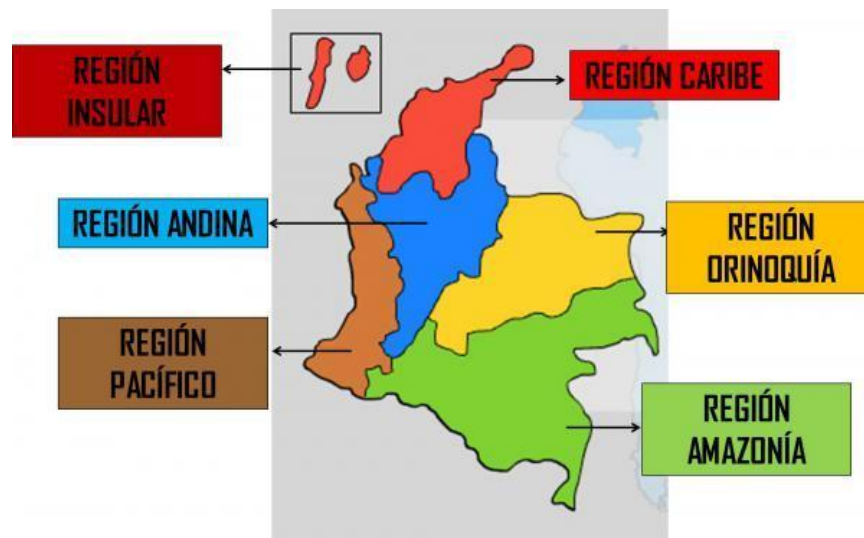
¡HAGAMOS UN VIAJE POR LAS REGIONES NATURALES DE COLOMBIA!

Completa la información de la lectura.


En el taller #3 conocimos que Colombia está formada por ___ regiones naturales: Andina, _____, _____, _____ y _____. Cada región posee unas características de paisaje y de gentes que las hacen únicas.

Responde:


- ¿En cuál municipio estamos ubicados?
- ¿En cuál departamento estamos ubicados?
- ¿En cuál región está ubicado el departamento de Antioquía?
- Observa la imagen de la división de Colombia en sus regiones Naturales y responde:



1. ¿Cuál región es más grande, es decir, cuál tiene mayor extensión?
2. ¿Por qué crees que la Región Amazonía se caracteriza con color verde?
3. ¿Cuál es la región natural de menor tamaño o de menor extensión?
4. Teniendo en cuenta los puntos cardinales, completa.
La región _____ está ubicada al norte del país
La región Amazonía está ubicada al _____ del país
La región _____ está ubicada al oeste del país



5. Completa el crucigrama con el nombre de la región natural que corresponde.



Vertical

- 1. REGION COSTERA DEL OCCIDENTE
- 2. REGION SELVATICA
- 3. COMPRENDE LAS ISLAS DE COLOMBIA

Horizontal

- 4. CONTIENE LAS TRES CORDILLERAS
- 5. REGION MAS PLANA
- 6. REGION COSTERA DEL NORTE

6. Relaciona con una línea cada plato típico con la región a la que le corresponde

PLATO TÍPICO



Bandeja paisa



mojarra



Bandeja llanera



cazuela de mariscos



cazuela de pollo



Mamona



Rondon

REGIONES DE COLOMBIA

