




*INSTITUCIÓN EDUCATIVA "JULIO RESTREPO"*

NIT. 811.020.306-6 REG. DANE: 105642000019 Reconocimiento de fusión

Según Resolución Departamental No. 0661 de Febrero 3 de 2003 y

068505 del 17 Diciembre de 2012.



**SOCIALES GRADO CUARTO  
SEDE SIMÓN BOLÍVAR  
TALLER 5**

**Región Orinoquia**

Tiene una extensión de 310.000 k<sup>2</sup> y se encuentra al oriente de Colombia, y comprende la zona del piedemonte de la cordillera Oriental hasta el río Orinoco, y hacia el sur, hasta los límites de la selva de la región de la Amazonía. Pertenecen a esta región los departamentos de Arauca, Casanare, Meta y Vichada.

**Características generales.**

**Relieve:** la región posee el piedemonte andino y extensas planicies o llanuras. Además, allí se encuentra la serranía de La Macarena, que es un sistema montañoso periférico con una gran biodiversidad.

**Hidrografía:** los ríos de la región nacen en la cordillera Oriental, descienden a la llanura y desembocan en el río Orinoco. Se destacan los ríos Arauca, Casanare, Meta y Vichada.

**Clima:** es cálido y semihúmedo con temperaturas superiores a los 24 °C. Se presenta una temperatura de tiempo seco, que va de noviembre a marzo, y otra de lluvias, de abril a octubre.

**Actividades económicas**

El cultivo de productos como el arroz, la palma africana, la yuca, el sorgo y el plátano han tenido gran importancia en el desarrollo de la región. La ganadería extensiva, también es una actividad económica que se facilita por los vastos pastizales de la zona, lo que la convierte en un primordial proveedor de carne de res para la región central del país. Otro recurso económico de la Orinoquia, es la extracción de petróleo en los territorios de: Cravo Norte y Tame, en el departamento de Arauca, y en los pozos más productivos del país como Cusiana y Cupiagua en el departamento de Casanare, Castilla y Rubiales en el departamento del Meta.


**Población y cultura**

Los mayores núcleos poblacionales se concentran en las ciudades capitales e intermedias de los departamentos, como Villavicencio, Yopal y Arauca. Cuenta con una importante presencia indígena, especialmente en el departamento del Vichada, donde alcanza a ser el 89%. Sin embargo, la figura más representativa de la región la personifica el llanero, un jinete cuya tarea más importante es el cuidado del ganado. Las principales muestras



## INSTITUCIÓN EDUCATIVA "JULIO RESTREPO"

NIT. 811.020.306-6 REG. DANE: 105642000019 Reconocimiento de fusión  
Según Resolución Departamental No. 0661 de Febrero 3 de 2003 y  
068505 del 17 Diciembre de 2012.



culturales de esta región es el joropo, música acompañada por el arpa y las maracas; y el coleo, competencia en el cual el llanero demuestra sus destrezas con el caballo y el control sobre el ganado. El plato típico de los Llanos es la carne a la llanera o mamona. (Rivera Rodríguez & Buitrago Piñeros, Los Caminos del Saber 4, 2014, págs. 64, 65)

### Actividad

Teniendo como referente el texto anterior, realizo las siguientes preguntas.

1. Identifico algunas actividades económicas de la región de la Orinoquia. Relaciono algunas de ellas.

---

---

---

---

---

2. Relaciono los departamentos que hacen parte de la región de la Orinoquia.

---

---

---

---

---

3. Identifico y relaciono los ríos que se destacan de la región de la Orinoquia y dónde nacen.

---

---


---

---

---



**INSTITUCIÓN EDUCATIVA "JULIO RESTREPO"**  
NIT. 811.020.306-6 REG. DANE: 105642000019 Reconocimiento de fusión  
Según Resolución Departamental No. 0661 de Febrero 3 de 2003 y  
068505 del 17 Diciembre de 2012.



4. Identifico y relaciono dónde se encuentra la región de la Orinoquia.

---

---

---

---

---

## **Bibliografía**

Rivera Rodríguez, C. A., & Buitrago Piñeros, C. A. (2014). *Los Caminos del Saber 4*. Bogotá, Colombia: Santillana.