




**INSTITUCIÓN EDUCATIVA "JULIO RESTREPO"**  
NIT. 811.020.306-6 REG. DANE: 105642000019 Reconocimiento de fusión  
Según Resolución Departamental No. 0661 de Febrero 3 de 2003 y  
068505 del 17 Diciembre de 2012.



**SOCIALES GRADO TERCERO**  
**SEDE SIMÓN BOLÍVAR**  
**TALLER 5**

**¿Cómo influye el relieve en la vida de las personas?**

El relieve influye directamente en la forma de vida de algunas costumbres de las personas. Los lugares ubicados a mayor altura sobre el nivel del mar presentan temperaturas menores que los que están a menor altura. Esto hace que los productos utilizados para la alimentación, la forma de vestir y los tipos de viviendas varíen según el lugar. Veamos cómo se presenta esto en nuestro país.

El relieve y la alimentación.

La forma del relieve influye en la alimentación, pues ella depende los productos agrícolas que se cultivan en determinadas zonas. En los lugares alejados y fríos, la alimentación se basa en productos como la papa y las hortalizas.

Es común que la gente de estas zonas tome bebidas como el agua de panela o el chocolate para mantenerse caliente.

En las zonas planas y cálidas, la alimentación se basa en productos como el plátano y la yuca, y es común que la gente tome bebidas frías como los jugos de frutas para refrescarse.

Por otra parte, el consumo de carnes también varía con respecto a la zona donde estamos ubicados:

En las zonas costeras cálidas, se consume principalmente pescado, mariscos y demás productos que se obtengan de la pesca.

En las zonas montañosas y frías, la carne de ganado bovino (vacas) o porcino (cerdos) es la que más se consume. (Rivera Rodríguez & Buitrago Piñeros, 2014, pág. 68)


**Actividad**

Teniendo como referente la información anterior, realizo el siguiente ejercicio.



**INSTITUCIÓN EDUCATIVA "JULIO RESTREPO"**

NIT. 811.020.306-6 REG. DANE: 105642000019 Reconocimiento de fusión  
Según Resolución Departamental No. 0661 de Febrero 3 de 2003 y  
068505 del 17 Diciembre de 2012.



1. En la siguiente tabla, realizo la comparación del tipo de alimentación entre las zonas cálidas y zonas frías.

<b>Zonas cálidas</b>	<b>Zonas frías</b>

2. De acuerdo al texto, ¿en cuál de las zonas se encuentra el municipio de Salgar y cómo es el tipo de alimentación que presenta?

---

---

---

---

---

---

---

---

---

---


3. Gran parte de los productos que se consumen en los hogares del municipio de Salgar tanto en la zona urbana como rural como verduras, frutas, hortalizas, entre otras, son productos traídos de otra región. Explico con mis propias palabras el por qué se requiere conseguirlos en otras regiones?

---

---



*INSTITUCIÓN EDUCATIVA "JULIO RESTREPO"*  
NIT. 811.020.306-6 REG. DANE: 105642000019 Reconocimiento de fusión  
Según Resolución Departamental No. 0661 de Febrero 3 de 2003 y  
068505 del 17 Diciembre de 2012.



---

---

---

---

---

---

---

---

4. Dibujo algunos alimentos que se encuentran en el municipio, es decir, alimentos producidos en el territorio.

## **Bibliografía**

Rivera Rodríguez, C. A., & Buitrago Piñeros, C. A. (2014). *Los Caminos del Saber Sociales 3*. Bogotá, Colombia: Santillana.