



INSTITUCIÓN EDUCATIVA LA SIERRA

Creada por Resolución N°012065 del 05 de octubre de 2015 y 014399 del 20 de noviembre de 2015.

DANE: 105001026581 NIT:900935808-1

ie.lasierracolegiomaestro@gmail.com

EVALUACIÓN FINAL DEL PERIODO

Nombre del estudiante:	
Nombre del docente: yenny Rodas, Ayde Agudelo, Yudy Blandon	
Área: matemáticas y geometría	
Tema: Evaluación de periodo	
Grado: tercero	Periodo: 2

observa la tabla y responde las preguntas 1, 2 y 3

La tabla 1 muestra lo que compraron 2 niños en la cafetería. La tabla 2 muestra el precio de dos productos.

Tabla 1

Nombre	compro
Olivia	2 jugos 1 pastel
Mateo	3 jugos 4 pasteles

Tabla 2

Producto	Precio
jugo	1500
Pastel	1300

1. ¿Cuánto le costó a Olivia lo que compró?

- A. \$1.500
- B. \$ 4.300
- C. \$2.500
- D. \$3.000

2. ¿cuánto le costó a Mateo lo que compro?

- A. \$ 9.400
- B. \$5.600



INSTITUCIÓN EDUCATIVA LA SIERRA

Creada por Resolución N°012065 del 05 de octubre de 2015 y 014399 del 20 de noviembre de 2015.

DANE: 105001026581 NIT:900935808-1

ie.lasierracolegiomaestro@gmail.com

C. \$ 8.500

D. \$ 9.700

3. ¿Cuánto dinero gastaron Olivia y Mateo?

A. \$ 14.000

B. \$13.000

C. \$12.500

D. \$14.500

Carlos fue en compañía de su amiga Sara a comprar comida. Observa la imagen y responde la pregunta 4, 5 y 6



4. Carlos y su amiga Sara compraron una hamburguesa y una malteada ¿cuánto dinero gastaron?

A. \$ 7.000

B. \$ 1.000



INSTITUCIÓN EDUCATIVA LA SIERRA

Creada por Resolución N°012065 del 05 de octubre de 2015 y 014399 del 20 de noviembre de 2015.

DANE: 105001026581 NIT:900935808-1

ie.lasierracollegiomaestro@gmail.com

C. \$ 4.500

D. 15.000

5. si entre los dos tenían 10.000 pesos ¿cuánto dinero les sobro?

A. \$ 500

B. \$ 400

C. \$ 3.000

D. \$ 2.000

6. ¿con el dinero que les sobro cuantos jugos se pueden comprar, si cada uno vale 1.000?

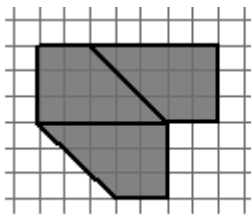
A. 1

B. 2.

C. 3

D. 4

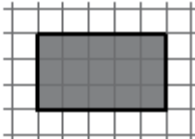
7. Nicolás armo la siguiente figura usando tres piezas iguales. Observa



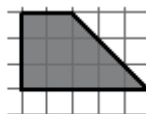
Figura

¿Qué forma tienen las piezas usadas por Nicolás para armar la figura?

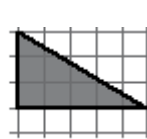
A.



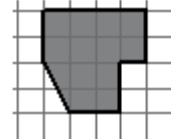
B.



C.



D.



8. Daniela tiene 525 láminas si le regalo a su amiga Laura 342 ¿cuantas laminas le quedan a Daniela?

A. 190

B. 175

C. 183



INSTITUCIÓN EDUCATIVA LA SIERRA

Creada por Resolución N°012065 del 05 de octubre de 2015 y 014399 del 20 de noviembre de 2015.

DANE: 105001026581 NIT:900935808-1

ie.lasierracolegiomaestro@gmail.com

D. 185

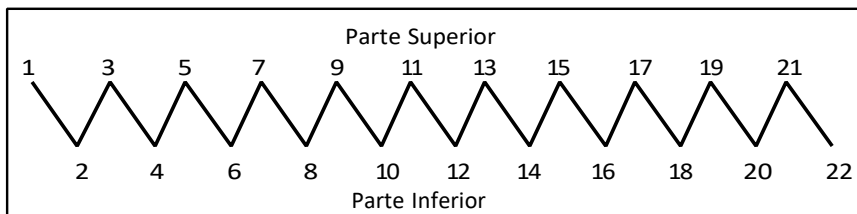
9. Observa la siguiente secuencia de números

Primer termino	Segundo termino	Tercer termino	Cuarto termino	Quinto termino	Sexto termino
7	14	21	28		42

¿Cuál de los siguientes números es el quinto término de la secuencia?

- A. 29
- B. 30
- C. 34
- D. 35

10. Fíjate en la parte inferior de la tabla



Figura

En la parte inferior todos los números marcados son

- A. menores que 14.
- B. mayores que 11.
- C. múltiplos de 3.
- D. múltiplos de 2.