

## Formando personas, creciendo en valores.



### INSTITUCIÓN EDUCATIVA LA SIERRA

Creada por Resolución N°012065 del 05 de octubre de 2015 y 014399 del 20 de noviembre de 2015.

DANE: 105001026581 NIT:900935808-1

[ie.lasierracolegiomaestro@gmail.com](mailto:ie.lasierracolegiomaestro@gmail.com)

## Formando personas, creciendo en valores

### Actividades de trabajo en casa

#### Grado 1°

<b>Nombre de los docentes:</b> Migdonia Eugenia Villegas Echavarría, Helda Lucía Pineda Aguirre y Cristian Andres Maya Poveda	
<b>Asignaturas articuladas:</b> Matemáticas y artística, lengua castellana e inglés, ciencias naturales y sociales, ética y religión, educación física y tecnología. <b>Estrategia:</b> Por tu vida y la de todos, quédate y aprende en casa	
Tema: Afianzamiento de conceptos y práctica de los mismos.	
<b>Grado</b>	Primero 1-2-3
<b>Periodo</b>	1
<b>Objetivo</b>	Estimular los procesos lecto escriturales y lógico-matemáticos a partir de diferentes actividades escolares que articulen las diferentes áreas del conocimiento
<b>DBA</b>	Interpreta diversos textos a partir de la lectura de palabras sencillas y de las imágenes que contienen  Utiliza diferentes estrategias para contar, realizar operaciones (suma y resta) y resolver problemas aditivos
<b>Competencias</b>	Interpretación de textos Formulación y resolución de situaciones problema

Completa el texto reemplazando el dibujo por la palabra

Formando personas, creciendo en valores.



INSTITUCIÓN EDUCATIVA LA SIERRA

Creada por Resolución N°012065 del 05 de octubre de 2015 y 014399 del 20 de noviembre de 2015.

DANE: 105001026581 NIT:900935808-1

[ie.lasierracolegiomaestro@gmail.com](mailto:ie.lasierracolegiomaestro@gmail.com)

En un día de  en el  
Fondo del mar, el   
Fue visitar a su amiga  
La  que vivía en  
un  de   
Cuidado con las   
Dijo un  cuando se  
acercaba al  te  
pueden robar el 



En un día de sol en el fondo del mar, el \_\_\_\_\_ fué a visitar a su amiga la  
\_\_\_\_\_ que vivía en un \_\_\_\_\_ de roble  
Cuidado con las \_\_\_\_\_ dijo un \_\_\_\_\_ cuando se acercaba al  
\_\_\_\_\_ te pueden robar el \_\_\_\_\_

## Formando personas, creciendo en valores.



**INSTITUCIÓN EDUCATIVA LA SIERRA**

Creada por Resolución N°012065 del 05 de octubre de 2015 y 014399 del 20 de noviembre de 2015.

DANE: 105001026581 NIT:900935808-1

[ie.lasierracolegiomaestro@gmail.com](mailto:ie.lasierracolegiomaestro@gmail.com)

Goles anotados en 4 partidos	
1° partido	
2° partido	
3° partido	
4° partido	
Cada  = 1 gol	

Responde las siguientes preguntas según el cuadro:

- 1- ¿En qué partido se anotaron más goles?
- 2- ¿En qué partido se anotaron menos goles?
- 3- ¿Cuántos goles se anotaron en total en todos los partidos?

Escribe el total de las sumas y restas que hay a continuación

$6 + \begin{matrix} \star \star \\ \star \star \end{matrix} =$	$\begin{matrix} \heartsuit \heartsuit \\ \heartsuit \heartsuit \end{matrix} + 7 =$
$\begin{matrix} \square \square \\ \square \square \end{matrix} - \begin{matrix} \triangle \\ \triangle \end{matrix} =$	$\begin{matrix} \star \star \\ \star \end{matrix} - \heartsuit =$
$\begin{matrix} \star \star \\ \star \end{matrix} + \begin{matrix} \heartsuit \heartsuit \\ \heartsuit \heartsuit \end{matrix} =$	$\begin{matrix} \heartsuit \heartsuit \\ \heartsuit \end{matrix} + 9 =$
$\begin{matrix} \triangle \\ \triangle \end{matrix} - 2 =$	$\begin{matrix} \triangle \\ \triangle \end{matrix} - \begin{matrix} \smile \\ \smile \end{matrix} =$
$8 - \begin{matrix} \heartsuit \heartsuit \\ \heartsuit \heartsuit \end{matrix} =$	$\begin{matrix} \star \star \\ \star \star \end{matrix} - \star =$

Así se escriben los números del 0 al 10 en inglés. Coloréalos

# Formando personas, creciendo en valores.



INSTITUCIÓN EDUCATIVA LA SIERRA

Creada por Resolución N°012065 del 05 de octubre de 2015 y 014399 del 20 de noviembre de 2015.

DANE: 105001026581 NIT:900935808-1

[ie.lasierracollegiomaestro@gmail.com](mailto:ie.lasierracollegiomaestro@gmail.com)

Nombre: \_\_\_\_\_

Numbers



[www.edufichas.com](http://www.edufichas.com)

## Los Derechos de las Niñas y los Niños

1

• Escribe con cual de estos derechos de los niños y las niñas se relaciona cada una de estas imágenes.

Derecho al amor

Derecho a la igualdad

Derecho a la protección

Derecho a la salud

Derecho a la educación

Derecho a la diversión

Derecho a la paz

Derecho al amor



## Formando personas, creciendo en valores.



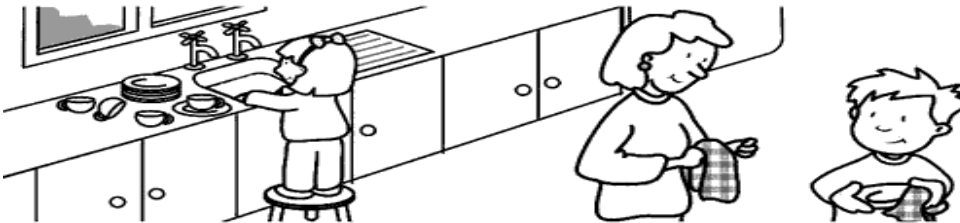

INSTITUCIÓN EDUCATIVA LA SIERRA

Creada por Resolución N°012065 del 05 de octubre de 2015 y 014399 del 20 de noviembre de 2015.

DANE: 105001026581 NIT:900935808-1


[ie.lasierracollegiomaestro@gmail.com](mailto:ie.lasierracollegiomaestro@gmail.com)

Así como tienes unos derechos también tienes unos deberes para cumplir. Observa la imagen.



Escribe que deberes están cumpliendo esos niños en casa  
Escribe 3 deberes que tu debas cumplir en casa  
Escribe 3 deberes que tu debas cumplir en la escuela  
Escribe 3 deberes que tu debas cumplir en el barrio

**SERES VIVOS  
SON AQUELLOS QUE NACEN,  
CRECEN, SE ALIMENTAN, DE  
REPRODUCEN Y MUEREN**



**SERES INERTES  
SON AQUELLOS QUE NO  
TIENEN VIDA**



rosafernandezsalamanca vocabulario

Después de observar el ejemplo de arriba, encierra con un círculo rojo los seres vivos y con un círculo azul los seres inertes en la siguiente gráfica



## Formando personas, creciendo en valores.



**INSTITUCIÓN EDUCATIVA LA SIERRA**

Creada por Resolución N°012065 del 05 de octubre de 2015 y 014399 del 20 de noviembre de 2015.

DANE: 105001026581 NIT:900935808-1

[ie.lasierracolegiomaestro@gmail.com](mailto:ie.lasierracolegiomaestro@gmail.com)



## Formando personas, creciendo en valores.



### INSTITUCIÓN EDUCATIVA LA SIERRA

Creada por Resolución N°012065 del 05 de octubre de 2015 y 014399 del 20 de noviembre de 2015.

DANE: 105001026581 NIT:900935808-1

[ie.lasierracollegiomaestro@gmail.com](mailto:ie.lasierracollegiomaestro@gmail.com)

## Colorea según el número

7= morado

8= morado

9=café

10= café

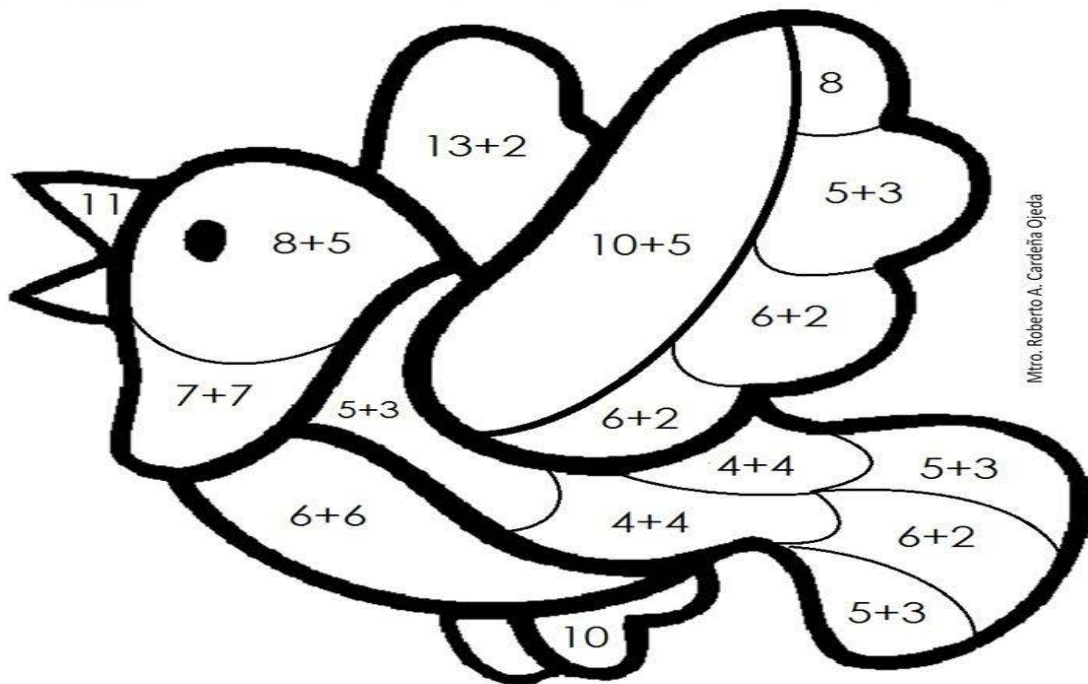
11= amarillo

12= amarillo

13= rojo

14= rojo

15 =azul



Mtro. Roberto A. Cardena Ojeda

### Resuelve los problemas

1. Juan tiene 3 bombones, 5 confites y 8 chicles.

Cuántos dulces tiene en total? \_\_\_\_\_

2. Catalina tenía 15 galletas y le regaló 4 a su hermanito

Con cuántas galletas quedó Catalina? \_\_\_\_\_

3. Felipe vió en una pecera 4 peces rojos, 6 azules y 3 verdes

Cuántos peces vió en total?

4. Camila tenía 18 confites y le regaló 7 a su mamá

Cuántos dulces le quedaron a Camila?

5. Andrés tiene 12 colores y su primo tiene 20

**Formando personas, creciendo en valores.**



**INSTITUCIÓN EDUCATIVA LA SIERRA**

Creada por Resolución N°012065 del 05 de octubre de 2015 y 014399 del 20 de noviembre de 2015.

DANE: 105001026581 NIT:900935808-1

[ie.lasierracolegiomaestro@gmail.com](mailto:ie.lasierracolegiomaestro@gmail.com)

Cuántos colores le faltan a Andrés para tener la misma cantidad de colores que su primo?

**Escribe la vocal que falta para completar la palabra y colorea los dibujos.**



## Formando personas, creciendo en valores.



INSTITUCIÓN EDUCATIVA LA SIERRA

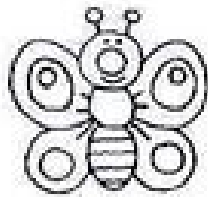
Creada por Resolución N°012065 del 05 de octubre de 2015 y 014399 del 20 de noviembre de 2015.

DANE: 105001026581 NIT:900935808-1


[ie.lasierracollegiomaestro@gmail.com](mailto:ie.lasierracollegiomaestro@gmail.com)

¿A - E - I - O - U?

- ESCRIBE LAS VOCALES QUE FALTAN EN CADA PALABRA.
- LEE EN VOZ ALTA CADA PALABRA.
- COLOREA LOS DIBUJOS.



M \_ R \_ P \_ S \_




G \_ S \_ N \_



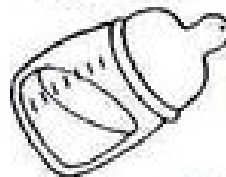
M \_ N Z \_ N \_




P \_ C \_ R \_




\_ L \_ F \_ N T \_



M \_ M \_ D \_ R \_




\_ R \_ Ñ \_



L \_ P \_ Z \_




B \_ L L \_ N \_




L \_ M \_ N \_



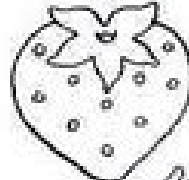
C \_ R \_ C \_ L \_



\_ B \_ J \_



G \_ T \_



FR \_ T \_ LL \_



P \_ L \_ T \_



T \_ N \_ D \_ R \_

**Formando personas, creciendo en valores.**



**INSTITUCIÓN EDUCATIVA LA SIERRA**

Creada por Resolución N°012065 del 05 de octubre de 2015 y 014399 del 20 de noviembre de 2015.

DANE: 105001026581 NIT:900935808-1

[ie.lasierracolegiomaestro@gmail.com](mailto:ie.lasierracolegiomaestro@gmail.com)

**Realiza un collage para decorar la flor. Puedes emplear mirella, colores, vinilo, papel, semillas, algodón, o todos los materiales que desees.**

**Formando personas, creciendo en valores.**




**INSTITUCIÓN EDUCATIVA LA SIERRA**

Creada por Resolución N°012065 del 05 de octubre de 2015 y 014399 del 20 de noviembre de 2015.

DANE: 105001026581 NIT:900935808-1

[ie.lasierracolegiomaestro@gmail.com](mailto:ie.lasierracolegiomaestro@gmail.com)



**Formando personas, creciendo en valores.**



**INSTITUCIÓN EDUCATIVA LA SIERRA**

Creada por Resolución N°012065 del 05 de octubre de 2015 y 014399 del 20 de noviembre de 2015.

DANE: 105001026581 NIT:900935808-1

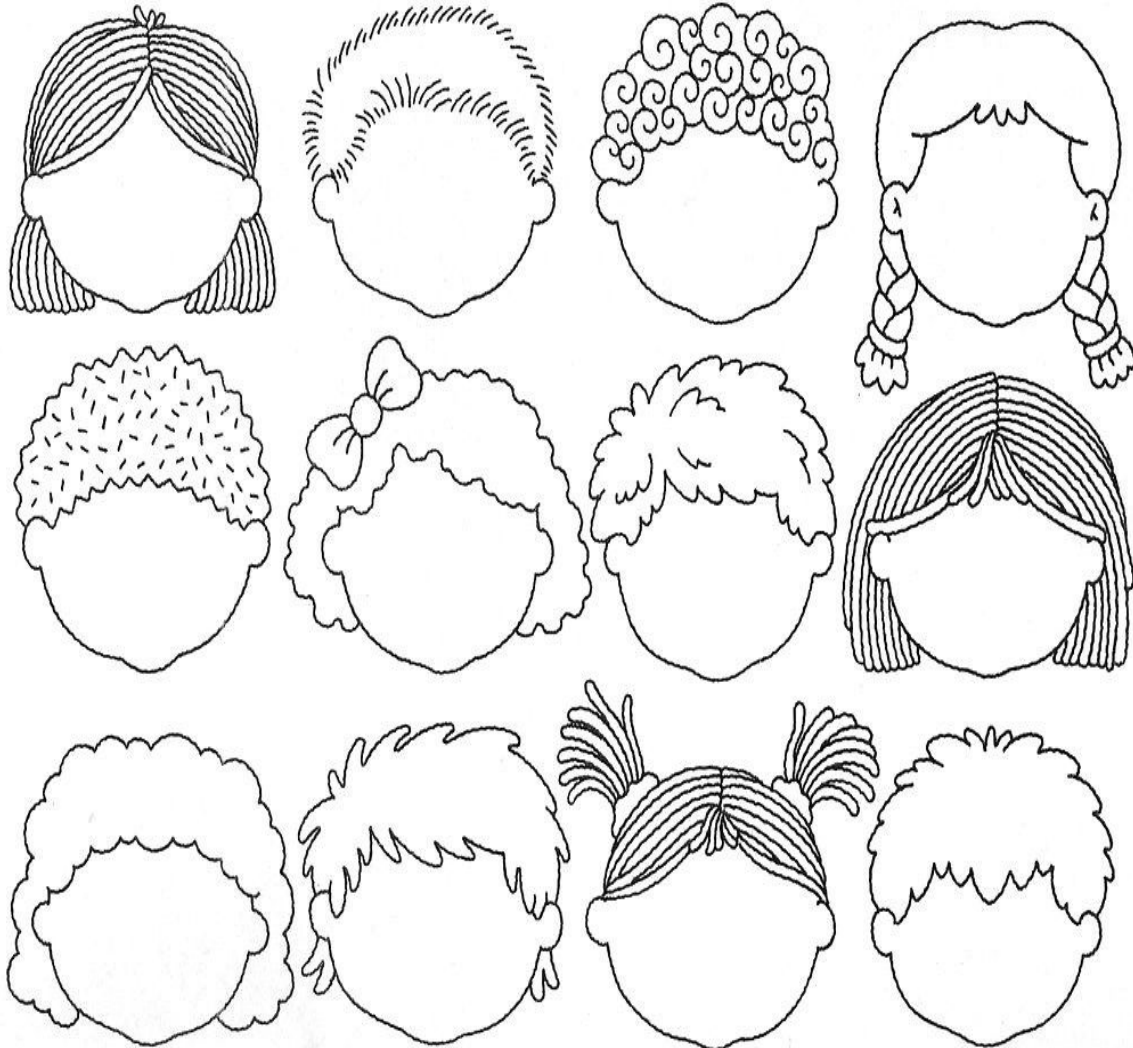
[ie.lasierracollegiomaestro@gmail.com](mailto:ie.lasierracollegiomaestro@gmail.com)

### **Las emociones**

Son reacciones que todos experimentamos frente a algo o alguien y que las expresamos a través de nuestro cuerpo y nuestro rostro.

### **¡CUÁNTAS CARAS DISTINTAS!**

COMPLETA LAS CARAS DE ESTOS CHICOS CON LAS EXPRESIONES QUE MÁS TE GUSTEN.



**Puedes ponerle a las caras las siguientes expresiones:**

Feliz

Triste

Enojado

Pensativo

**Formando personas, creciendo en valores.**



**INSTITUCIÓN EDUCATIVA LA SIERRA**

Creada por Resolución N°012065 del 05 de octubre de 2015 y 014399 del 20 de noviembre de 2015.




DANE: 105001026581 NIT:900935808-1

[ie.lasierracollegiomaestro@gmail.com](mailto:ie.lasierracollegiomaestro@gmail.com)

Desesperado  
Rabioso  
Tranquilo  
sorprendido. Puedes repetir las

# LA CREACION

Colorea lo que Dios ha creado



[www.manualidadesbiblicas.blogspot.com](http://www.manualidadesbiblicas.blogspot.com)

Escribe el nombre de las cosas que hay en el dibujo creadas por Dios

1. \_\_\_\_\_

2. \_\_\_\_\_

## Formando personas, creciendo en valores.



### INSTITUCIÓN EDUCATIVA LA SIERRA

Creada por Resolución N°012065 del 05 de octubre de 2015 y 014399 del 20 de noviembre de 2015.

DANE: 105001026581 NIT:900935808-1

[ie.lasierracolegiomaestro@gmail.com](mailto:ie.lasierracolegiomaestro@gmail.com)

3. \_\_\_\_\_

4. \_\_\_\_\_

5. \_\_\_\_\_


6. \_\_\_\_\_

### Los artefactos tecnológicos

Son dispositivos o aparatos creados por el hombre que ayudan al desarrollo de nuestras actividades diarias y a la creación de nuevas clases de inventos en la tecnología.

Además nos facilitan el trabajo.

Colorea los dibujos y encierra con un círculo verde los artefactos tecnológicos



Escribe el nombre de los artefactos tecnológicos que hay

1. \_\_\_\_\_

2. \_\_\_\_\_



## Formando personas, creciendo en valores.



### INSTITUCIÓN EDUCATIVA LA SIERRA

Creada por Resolución N°012065 del 05 de octubre de 2015 y 014399 del 20 de noviembre de 2015.

DANE: 105001026581 NIT:900935808-1

[ie.lasierracolegiomaestro@gmail.com](mailto:ie.lasierracolegiomaestro@gmail.com)

3. \_\_\_\_\_

4. \_\_\_\_\_

5. \_\_\_\_\_

6. \_\_\_\_\_

7. \_\_\_\_\_