
	INSTITUCIÓN EDUCATIVA LA ESPERANZA	
NOMBRE DEL ESTUDIANTE		

NODO: científico

Asignatura: ciencias naturales

Docente:

Grado: Segundo

Fecha _____

Calificación:

Alcanzo:

ACTIVIDAD

1. Dibuja los implementos de aseo que utilizas para el baño.
2. Dibuja un niño sucio y un niño limpio ¿cuál eres tú?
3. que enfermedades puede contraer un niño que se acuesta sucio a la cama.
- 4 Completa la información según la **Exploración del siguiente video**
<https://youtu.be/ru6rZNQg3eM>

La nutrición de las plantas es _____, es decir, fabrican su propio alimento mediante la _____.

Para ello necesitan _____, _____, _____ y _____.

Los gases penetran por los _____. La _____ permite a las plantas captar la energía lumínica. El agua y las sales minerales son absorbidas por las _____.

sol	autótrofa	agua
clorofila	fotosíntesis	estomas
dióxido de carbono	raíces	sales minerales

5. Retroalimentación <https://youtu.be/pc6UondCrJg>

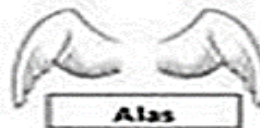
Encierra en un círculo al animal que se desplace nadando. (1pto)




¿Cuál de estos animales se desplace reptando? Marca con una X. (1pto)



Une el animal a la estructura que utiliza para desplazarse. (3ptos.)



1. Une cada animal con su forma de desplazarse.



vuela

nada

anda

