



Secretaría de Educación del Municipio de Medellín
Institución Educativa Barrio Olaya Herrera

Aprobada por resolución Municipal N° 156 del 23 de septiembre de 2003 y modificada por Resolución 01920 de febrero 14 de 2013 y Resolución 201850065981 de 14 de septiembre de 2018 y Resolución 202250110089 de 24 de octubre de 2022

NIT. 811.042.295-8 DANE: 305001022232 CÓDIGO ICFES: 113431



Alcaldía de Medellín
Secretaría de Educación

Plan de apoyo tercer periodo
Asignatura
Geometría
Nombre del docente o los docentes
Nancy Stella Posada Rivera – Maritza Marin Ruiz - Jennifer Montoya
Grupo
1°
Nombre del estudiante
Estándar
Los estudiantes deben experimentar con transformaciones geométricas básicas como rotación y desplazamiento de figuras Los estudiantes deben clasificar figuras geométricas de acuerdo con el número de lados y otras propiedades (simetría, tamaño)
Competencia
Construir figuras geométricas con materiales concretos. Descomponer figuras complejas en figuras más simples (por ejemplo, dividir un rectángulo en dos triángulos). Comparar y clasificar figuras geométricas según sus propiedades.
Indicadores de desempeño
Reconoce y describe las transformaciones geométricas simples (desplazamiento, rotación) en figuras geométricas. Clasifica las figuras geométricas según el número de lados, la simetría o la forma (por ejemplo, triángulo equilátero, cuadrado). Comprende las posiciones espaciales de las figuras: dentro de, fuera de, sobre, debajo. Describe figuras en relación con otras (por ejemplo, el círculo está dentro del cuadrado).
Contenidos
Transformaciones Geométricas: Desarrollar actividades con material manipulativo para que los estudiantes apliquen traslaciones y rotaciones de figuras. Reflexión y Rotación: Trabajar con actividades que involucren la reflexión (simetría) y la rotación de figuras.
Descripción de las actividades a desarrollar por el estudiante

CARRERA 101C NRO 58-44


MEDELLÍN. NÚCLEO EDUCATIVO 923
“Educamos en valores para amar la vida”

1. Completa el siguiente cuadro de las formas geométricas realizando el dibujo y contando sus lados.

Forma	Dibujo	N° de lados
Cuadrado		
Rectángulo		
Triángulo		
Rombo		

2. Observa la posición de los diferentes juguetes, colorea y responde:

- ¿Cuál juguete se encuentra en medio y encima de la mesa?: _____
- ¿Cuántos se encuentran encima de la mesa?: _____
- ¿Cuáles se encuentran debajo de la mesa?: _____



3. Completa las siguientes secuencias.





Secretaría de Educación del Municipio de Medellín
Institución Educativa Barrio Olaya Herrera

Aprobada por resolución Municipal N° 156 del 23 de septiembre de 2003 y modificada por Resolución 01920 de febrero 14 de 2013 y Resolución 201850065981 de 14 de septiembre de 2018 y Resolución 202250110089 de 24 de octubre de 2022




Alcaldía de Medellín
Secretaría de Educación

NIT. 811.042.295-8 DANE: 305001022232 CÓDIGO ICFES: 113431



4. Completa el siguiente dibujo de forma simétrica.



Indicaciones para los estudiantes: Forma de entrega y fecha máxima de entrega

El presente plan de apoyo se debe entregar a la docente directora del grupo en la semana del 18 al 21 de noviembre, se debe entregar impreso y resuelto.