



# INSTITUCION EDUCATIVA REINO DE BELGICA

Planeación de actividades

Página 1 de 3


NOMBRE DEL DOCENTE: Juan Manuel Flórez WHATSAAP 315 308 50 94 Correo electrónico [jhuarez2004@yahoo.es](mailto:jhuarez2004@yahoo.es)  
TALLER NUMERO 4

ÁREA O ASIGNATURA: INTEGRADAS GRADO 3 GRUPO (S): 1,2

TEMA(S): LAS NORMAS EN LA FAMILIA

Semana del 8 al 19 de junio AÑO 2020

INDICADOR(ES) A DERSARROLLAR: FORTALECER la construcción de normas en mi hogar



## Cómo puedo participar de la construcción de normas en mi hogar

Aunque las normas en una casa las establecen por lo general los adultos responsables, tú y todos los niños pueden participar en su planteamiento, en su negociación y en los ajustes en las normas, siempre que esto contribuya a mejorar la convivencia entre todos los integrantes de la familia y a proteger derechos de cada miembro.

Enlaces en youtube . <https://youtu.be/hLZUfcJHQ4o>

## PASO 2 GEOMETRIA

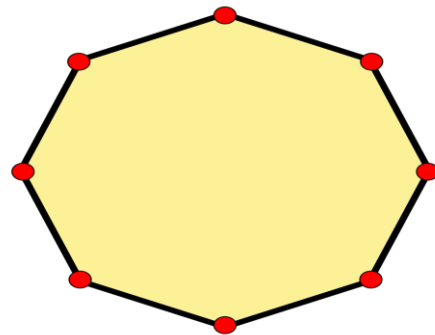
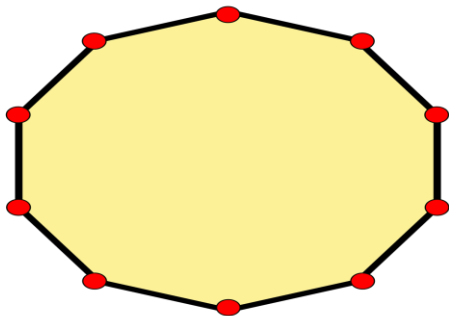
OCTAGONOS Y DECAGONOS.  
VEHICULOS DE CARRETERAS



Las carreteras de automóviles dieron un gran impulso a la industria del automóvil. Debido a que los automóviles deben ser impulsados a gran velocidad, los fabricantes realizan mejoras en los motores, en los neumáticos, en la suspensión y en todos los elementos mecánicos de los vehículos, gracias a la formación que recopilan continuamente.



El polígono regular de 8 lados se llama OCTAGONO REGULAR. El octágono regular está formado por 8 lados y 8 ángulos iguales.

El polígono regular de 10 lados se llama DECAGONO REGULAR. El decágono regular está formado por 10 lados y 10 ángulos iguales.



**EL PRIMERO ES UN DECAGONO Y EL SEGUNDO ES UN OCTAGONO.**

**Ahora vamos a trabajar.**



1. En tu cuaderno, cuéntanos quiénes conforman tu hogar (el lugar donde vives). Luego, imagina una conversación entre los miembros de dicho lugar sobre las normas necesarias para usar la televisión en casa. Dibújalos, y escribe la conversación sobre las normas propuesta por cada miembro de la familia.
2. Ajustando normas: escribe tres normas que existan en tu hogar que creas que deben ser modificadas.
3. **Observa la ilustración del carro y responde: ¿qué polígono regular se encuentra en las ruedas del carro?**
4. **observa la secuencia de las figuras ordenadas a, b, c, d, e. ¿encuentra las dos figuras que son idénticas?**

