

ALUMNO \_\_\_\_\_

AREA. Matemáticas, Geometría, estadística, artística

1. Une los puntos en orden ascendente, comienza por el número 1 termina en el número 50. Y forma la figura




2. Resuelve los siguientes problemas.


## Ficha de trabajo - Problemas de sumas

\*Lee los problemas. Subraya con rojo los datos y con azul la pregunta que te ayudará a descubrir la operación que vas a realizar.

1. Mateo tiene 3 canicas rojas y 5 canicas verdes.  
¿Cuántas canicas tendrá Mateo en total?

Dibujo	Operación	Respuesta
		Mateo tiene en total ____ canicas

2. En el salón hay 4 cuadernos verdes y 3 cuadernos rojos.  
¿Cuántos cuadernos hay en total?

Dibujo	Operación	Respuesta
		En total hay ____ cuadernos.

3-Resuelve las sustracciones o restas.

4	5
- 3	1

6	4
- 2	2

6	9
- 1	1

4	6
- 2	3

7	5
- 2	2

5	5
- 3	0

4-Resuelve las siguientes adiciones o sumas.

$$\begin{array}{r} 49 \\ + 10 \\ \hline \end{array}$$

$$\begin{array}{r} 25 \\ + 12 \\ \hline \end{array}$$

$$\begin{array}{r} 23 \\ + 72 \\ \hline \end{array}$$

$$\begin{array}{r} 30 \\ + 27 \\ \hline \end{array}$$

$$\begin{array}{r} 61 \\ + 15 \\ \hline \end{array}$$

$$\begin{array}{r} 34 \\ + 13 \\ \hline \end{array}$$

$$\begin{array}{r} 70 \\ + 19 \\ \hline \end{array}$$

$$\begin{array}{r} 45 \\ + 32 \\ \hline \end{array}$$

$$\begin{array}{r} 27 \\ + 61 \\ \hline \end{array}$$

$$\begin{array}{r} 10 \\ + 89 \\ \hline \end{array}$$

$$\begin{array}{r} 78 \\ + 20 \\ \hline \end{array}$$

$$\begin{array}{r} 14 \\ + 13 \\ \hline \end{array}$$



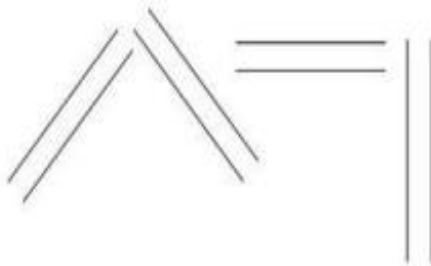
# Líneas paralelas verticales y horizontales



Líneas verticales



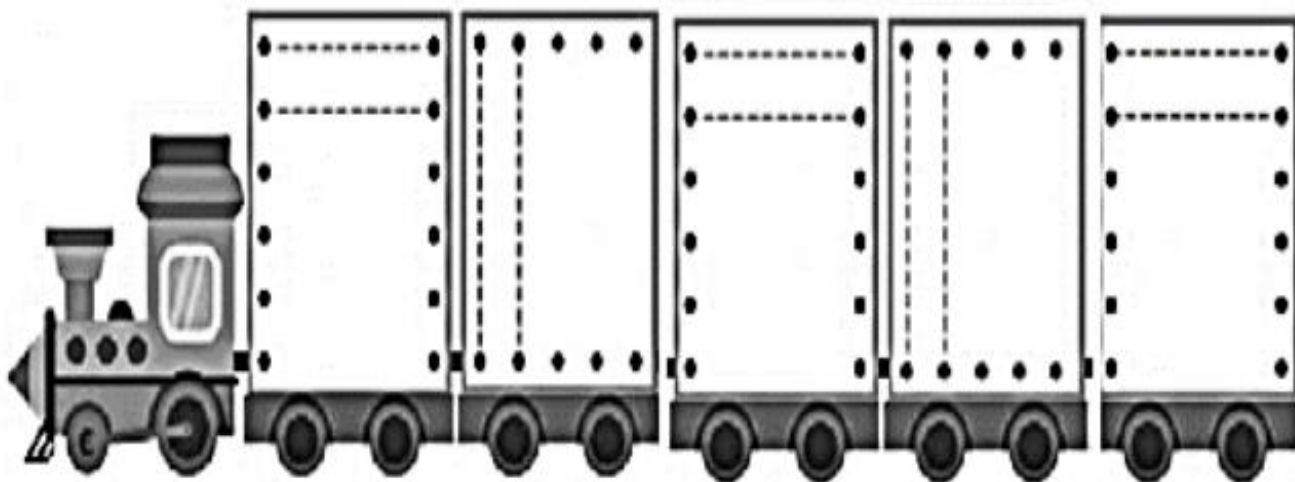
Líneas horizontales



Líneas paralelas





Son las que no se cruzan aunque se prolonguen.

Termina las líneas de cada vagón del tren



# Graficando

Recorta las figuras de abajo y pégalas en el gráfico, según corresponda. Luego, responde las preguntas.

1) ¿De cuál compraste más que 4?




2) ¿De cuál compraste menos cantidad?



3) ¿Cuántos  y

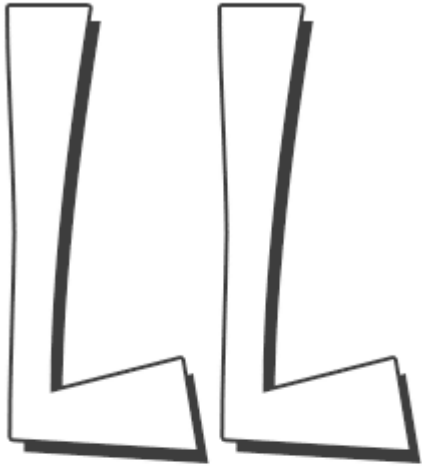
 compraste en total?



NOMBRE DEL DOCENTE: LILIANA MORENO, TEL:3104023480, BETTY MELEDEZ, TEL:3053472865,  
LINA PALACIOS TEL:310406 8582.  
ESPAÑOL.

TALLER # 13

1.Repasa los trazos de la letra LI



lla lle  
lli  
llo llu

lla lle lla lle lla lle lla lle

lle lle lle lle lle lle

lli lli lli lli lli lli

llo llo llo llo llo llo

llu llu llu llu llu llu



LL

llaves



ll

lla

lle

lli

llo

llu

bello

lluvia

billete

rollo

calle

llama

millón

palillo

semilla

camello




sillón

rodilla

Allí está un caballo.



La botella tiene pastillas.




4. Conozcamos la R

Realiza los trazos y colorea la imagen.



Ratón



R r



R R R R

R R R R

r r r r r

r r r r r


5. Escribe la sílaba inicial de cada nombre, observando el dibujo.




6. Relaciona cada imagen con el nombre que corresponde y colorea la imagen.



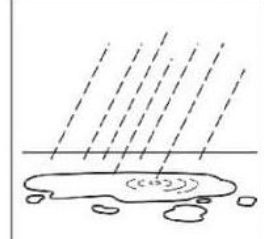
ratón




charco



regalo




dolor




rueda



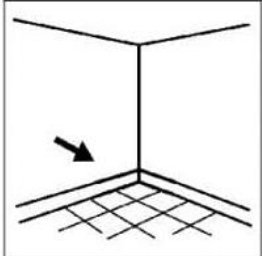
ramo



rincón



rosa



marco



parque




Planeación de actividades virtuales

NOMBRE DEL ALUMNO \_\_\_\_\_  
AREA \_\_\_\_\_ GRADO \_\_\_ GRUPO \_\_\_\_\_ AÑO \_\_\_\_\_  
2021 NOMBRE DEL DOCENTE: Liliana Moreno 3104023480  
Lina Palacios 31040668582  
Betty Meléndez 305347286

# La Planta y sus Partes

- Escribe el nombre de cada parte de la planta y colorea.



# Había una vez...


\* Busca en la ruleta la respuesta y escríbela en el lugar correcto.

Yo soy la \_\_\_\_\_.  
4 5  
Gracias a mí, la planta  
recibe la luz y respira.

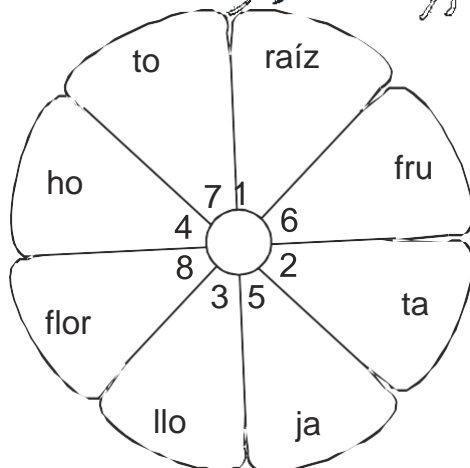
¡Hola! Yo soy la \_\_\_\_\_  
8  
y me convierto en fruto.

Yo soy el \_\_\_\_\_  
6  
dentro de mí e  
las semillas.

Yo soy el \_\_\_\_\_  
2 3  
Llevo el agua  
hasta las hojas.



Yo soy la \_\_\_\_\_  
1  
Sin mí, la planta no podría  
tomar el agua y los minerales  
que hay en la tierra.



# Mis hábitos de higiene

1. Colorea los hábitos correctos que debes tener en cuenta en tu vida diaria.





- Recorta del periódico figuras en donde las personas NO están cuidando su cuerpo.

