



TALLER # 6

NUCLEO: Humanístico (sociales, cívica, ética)

DOCENTE:	Astrid Guarín Ocampo	WHATSAPP:	3014724105		
E-MAIL:	astridguarinocampo@gmail.com	GRUPO:	2°1	AÑO:	2020
DOCENTE:	Johan Alexis Correa	WHATSAPP:	3003682700		
E-MAIL:	Johan2514@hotmail.com	GRUPO:	2°2	AÑO:	2020
DOCENTE:	Mary Chaverra Ortiz	WHATSAPP:	3206214700		
E-MAIL:	Marychaverra28@gmail.com	GRUPO:	2°3	AÑO:	2020

NOMBRE COMPLETO DEL ESTUDIANTE:	
NUCLEO:	
TALLER #:	
GRUPO:	
PROFESOR(A) DEL GRUPO:	

TEMA: Las señales de tránsito

INDICADOR DE DESEMPEÑO:

1. El estudiante identifica el significado de cada señal.
2. El estudiante actúa según las señales de tránsito.

1. DESARROLLO TEÓRICO DE LA TEMÁTICA.

Leer y analizar la siguiente información. (NO es necesario escribirla en el cuaderno)

Las señales de tránsito

Las señales de tránsito transmiten información a los conductores y peatones que circulan por las vías públicas. Tienen el objetivo de garantizar una circulación eficiente y segura. En Colombia existen tres tipos de señales.

Señales reglamentarias

Tienen la función de indicar las limitaciones, prohibiciones o restricciones en las vías. Son de forma circular, con borde rojo, símbolos negros y fondo blanco.



Señales informativas

Tienen la función de identificar las vías y proporcionar información que puedan necesitar los conductores y peatones. La mayoría tienen forma de rectángulo, con un marco azul, un fondo blanco y símbolos negros.



Señales preventivas


Tienen la función de advertir sobre un riesgo o peligro en la vía. Tienen forma de rombo, el fondo es de color amarillo, mientras que el marco y el símbolo son de color negro.




2. ENLACES Y/O TEXTOS PARA PROFUNDIZAR LA TEMÁTICA.

Lee y selecciona o escribe la respuesta correcta en tu cuaderno.


1. El conductor de un bus se acaba de dar cuenta que una de sus llantas está pinchada y ve esta señal informativa, ¿qué significa?

<p>a. Que hay una iglesia cerca. b. Que hay un aeropuerto cerca. c. Que hay un taller cerca.</p>	
--	--

2. Un motociclista se encuentra en su camino con esta señal de tránsito, ¿qué indica la señal?

<p>a. La señal indica que está permitido el paso de motos. b. La señal indica que está prohibida la circulación de motocicletas. c. La señal indica que hay un taller de motocicletas cerca.</p>	
--	--

1. El conductor de una camioneta se encuentra con esta señal de tránsito en la vía, ¿qué debe hacer?

<p>a. Manejar con precaución porque puede haber peatones en la vía. b. Manejar más despacio porque la superficie de la vía está resbalosa. c. Manejar con cuidado porque se encuentra en una zona escolar</p>	
---	--

3. EJERCICIOS DE REPASO

Este es el semáforo del comportamiento. Piensa y escribe en que color esta tu comportamiento en **casa** y argumenta el por qué.

Verde: indica que el comportamiento está muy bien.

Amarillo: indica que el comportamiento es regular.

Rojo: indica que se debe mejorar el comportamiento.



Dibuja las señales de tránsito y escribe si la señal de tránsito es reglamentaria, informativa o preventiva.

