



NOMBRE DEL DOCENTE: BETY MELENDEZ, LILIANA MORENO, LINA MARIA PALACIOS  
ÁREA O ASIGNATURA: NUCLEO ANALITICO (MATEMATICAS, GEOMETRIA, TECNOLOGIA) GRADO 1°  
GRUPO (S): 1°1, 1°2, 1°3  
TALLER #3  
ALUMNO \_\_\_\_\_  
TEMA(S): SUMAS Y RESTAS

**INDICADOR(ES) A DESARROLLAR:**

solucionar problemas matemáticos utilizando la adición o suma

Reconoce aparatos tecnológicos y los clasifica

Resuelve problemas matemáticos sencillos utilizando la sustracción o resta.

1. DESARROLLO TEÓRICO DE LA TEMÁTICA CON SUS RESPECTIVOS EJEMPLOS

Observa el ejemplo de sumas y restas.



2. ENLACES Y/O TEXTOS PARA PROFUNDIZAR LA TEMÁTICA

<https://es.khanacademy.org/math/mx-math-by-grade/eb-1-primaria/eb-sumas-y-restas>

Trabajar pagina 30 y 31 del libro vamos aprender

3. EJERCICIOS DE REPASO

completa estas operaciones con + o - según corresponda.

$$4 \bigcirc 3 = 7$$

$$1 \bigcirc 8 = 9$$

$$6 \bigcirc 2 = 4$$

$$5 \bigcirc 1 = 6$$

$$8 \bigcirc 4 = 4$$

$$7 \bigcirc 2 = 5$$

Soluciona los problemas utilizando sumas y restas

1 Hay 3 arañas y llegan 2. ¿Cuántas hay en total?



2 Hay 5 sombreros y se rompen 3. ¿Cuántos quedan?



3 Tenía 5 calabazas. Si traen 4, ¿cuántas hay en total?




4 Tengo 4 murciélagos y se va 1. ¿Cuántos quedan?



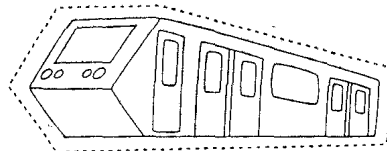


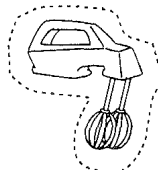
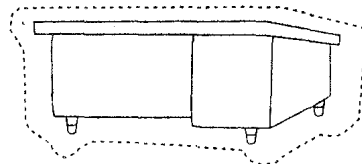
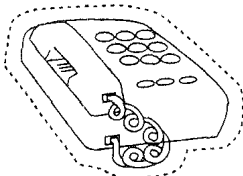
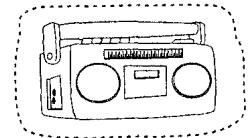
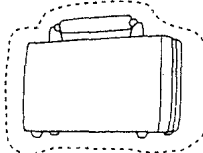
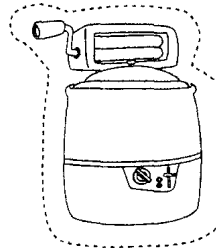
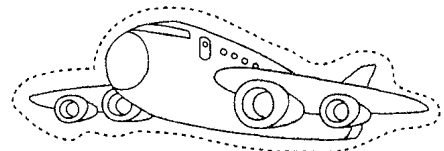
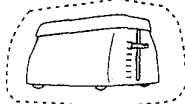
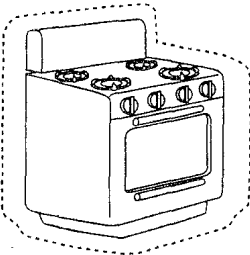
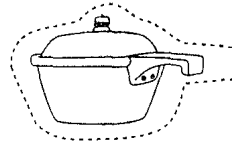
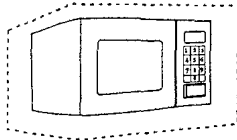
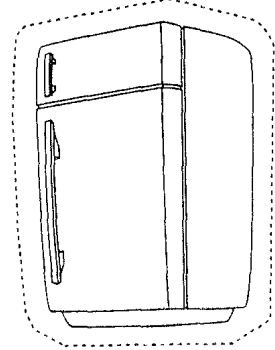
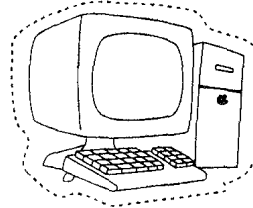
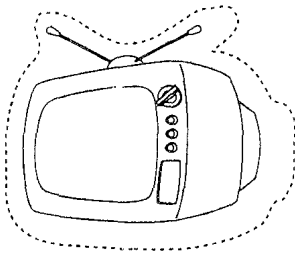
5 Veo 4 fantasmas y vienen 2 más. ¿Cuántos hay en total?



COLOREA LAS FLECHAS SEGÚN SU POSICIÓN: ARRIBA, ABAJO, IZQUIERDA O DERECHA



Recorta los aparatos y clasifícalos en tu libreta según corresponda.



Hogar

Trabajo

Transporte



Clasificación de Utensilios.  
Avances Tecnológicos en el Hogar.



Semana 13 Ficha 59

Colorea los dibujos.