



INSTITUCION EDUCATIVA REINO DE BELGICA

Planeación de actividades

Página 1 de 4

NOMBRE DEL DOCENTE: Juan Manuel Flórez WHATSAAP 315 308 50 94 Correo electrónico jhuarez2004@yahoo.es
TALLER NUMERO 5

ÁREA O ASIGNATURA: INTEGRADAS GRADO 5 GRUPO (S): 1,2

TEMA(S): Cuadriláteros

Semana del 16 al 26 de junio AÑO 2020

INDICADOR(ES) A DESARROLLAR: Identificar las propiedades de los cuadriláteros, incluyendo las medidas de los ángulos

CUADRILATEROS.

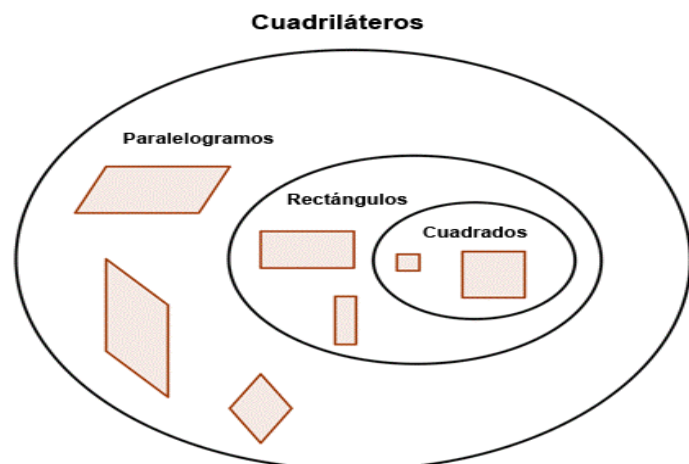
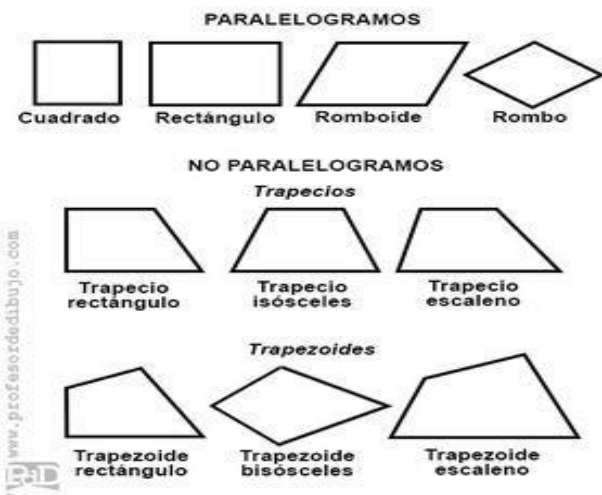
Los **cuadriláteros** son un tipo especial de polígonos. Del mismo modo que los triángulos y otros polígonos, los cuadriláteros tienen propiedades especiales y pueden clasificarse por las características de sus ángulos y sus lados. Entender las propiedades de los distintos cuadriláteros te pueda ayudar a resolver problemas que contienen éste tipo de polígono.

Definiendo un cuadrilátero

Si analizamos su nombre “cuadrilátero” podemos entender a qué se refiere. El prefijo “cuad-” significa “cuatro,” y “latero” se deriva de la palabra Latina “lado.” Entonces un cuadrilátero es un polígono de cuatro lados.

Como es un **polígono**, sabemos que es una figura de dos dimensiones hecha de lados rectos. Un cuadrilátero tiene cuatro ángulos formados por sus cuatro lados. Abajo se muestran algunos ejemplos de cuadriláteros. Observa que cada figura tiene cuatro lados rectos y cuatro ángulos. **ALGUNOS CUADRILATEROS**

CLASIFICACIÓN DE CUADRILÁTEROS




**PASO 2. ETICA Y VALORES.
EL VALOR DE LA TOLERANCIA.**

La **tolerancia** es una cualidad personal que se define como el respeto a las ideas, creencias o prácticas de los demás, aunque sean diferentes o contrarias a las nuestras. ... en definitiva, respetar las ideas y creencias y prácticas de los demás aunque no sean como las nuestras.

Observe el siguiente acróstico sobre la tolerancia.




**Paso tres emprendimiento y tecnología.
OBSEVA LAS SIGUIENTES IMÁGENES.**



Mi comunidad tiene servicios que nos benefician y nos proporcionan lo que necesitamos para vivir.

Clasifica los servicios de acuerdo a los letreros.



Servicios Educativos

Servicios de Seguridad

Servicios Públicos

Servicios de Salud



Bienes y Servicios de Mi Localidad



Semana 20 Ficha 91

Enlaces en youtube . <https://youtu.be/tEeSvfvEUu4>

Ahora vamos a trabajar.

1. ¿cómo se clasifican los cuadriláteros?
2. ¿Qué es un cuadrilátero?
3. ¿Cuántos ángulos y cuantos lados tiene un cuadrilátero?
4. ¿realiza cinco dibujos donde utilices solo cuadriláteros?
5. En el cartel aparece un acróstico sobre la tolerancia. ¿realiza una historia o cuento donde se aplique el valor de la tolerancia?
6. ¿Ubica el mensaje en cada uno de los servicios que se muestran en el dibujo, por ejemplo el servicio educativo pertenece a las escuelas?
7. ¿Qué servicios públicos hay en tu hogar?
8. ¿A qué servicios tienes derecho y quienes te lo deben proporcionar?



INSTITUCION EDUCATIVA REINO DE BELGICA

Planeación de actividades

Página 4 de 4