



INSTITUCIÓN EDUCATIVA REINO DE BELGIC

Página 1 de 4

NOMBRE DEL DOCENTE: Juan Manuel Flórez WHATSSAP 315 308 50 94. Correo electrónico jhuarez2004@yahoo.es

TALLER NUMERO 5

ÁREA O ASIGNATURA: INTEGRADAS GRADO 4 GRUPO (S): 1,2

TEMA(S): CUADRILATEROS

SEMANA DEL 16 AL 26 DE JUNIO AÑO 2020

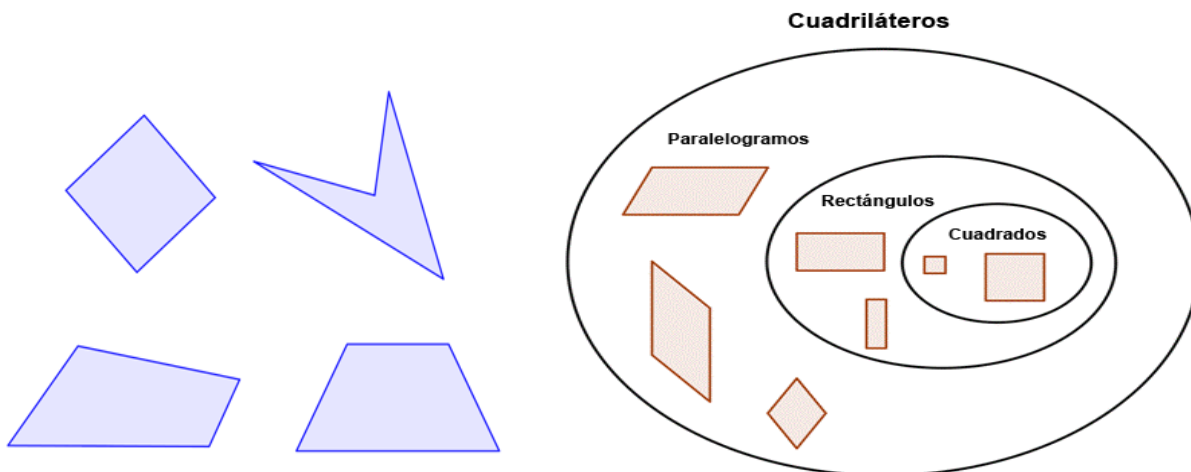
INDICADOR(ES) A DESARROLLAR: Identificar las propiedades de los cuadriláteros, incluyendo las medidas de los ángulos

Los **cuadriláteros** son un tipo especial de polígonos. Del mismo modo que los triángulos y otros polígonos, los cuadriláteros tienen propiedades especiales y pueden clasificarse por las características de sus ángulos y sus lados. Entender las propiedades de los distintos cuadriláteros te pueda ayudar a resolver problemas que contienen éste tipo de polígono.

Definiendo un cuadrilátero


Si analizamos su nombre “cuadrilátero” podemos entender a qué se refiere. El prefijo “cuad-” significa “cuatro,” y “latero” se deriva de la palabra Latina “lado.” Entonces un cuadrilátero es un polígono de cuatro lados.

Como es un **polígono**, sabemos que es una figura de dos dimensiones hecha de lados rectos. Un cuadrilátero tiene cuatro ángulos formados por sus cuatro lados. Abajo se muestran algunos ejemplos de cuadriláteros. Observa que cada figura tiene cuatro lados rectos y cuatro ángulos. **ALGUNOS CUADRILATEROS**



PASO 2. TECNOLOGIA


La rueda permitió **la evolución de los medios de transporte** terrestre y la llegada del hombre a lugares tan lejanos en cada vez menos **tiempo**. ... Más tarde, surgieron otros métodos de **transporte** terrestre como la bicicleta, que fue el origen de la motocicleta y esta, a su vez, del automóvil.



Observa las dos figuras: en la primera se muestra la evolución de los medios de transporte, en la segunda


observamos los medios de transporte modernos.

PASO 3. EMPRENDIMIENTO
LOS SERVICIOS PUBLICOS.



Mi comunidad tiene servicios que nos benefician y nos proporcionan lo que necesitamos para vivir.

Clasifica los servicios de acuerdo a los letreros.



Servicios Educativos

Servicios de Seguridad

Servicios Públicos

Servicios de Salud



Bienes y Servicios de Mi Localidad



Semana 20 Ficha 91

Enlaces en youtube . <https://youtu.be/tEeSvfvEUu4>

AHORA VAMOS A TRABAJAR.

1. ¿Qué es un cuadrilátero?
2. ¿Cómo se dividen los cuadriláteros?
3. ¿Realiza cinco dibujos donde utilices todos los cuadriláteros mencionados?
4. ¿Por qué la rueda juega un papel importante en la evolución del transporte?
5. ¿Qué diferencia hay entre los medios de transporte antiguos y los modernos?
6. ¿dibuja tres medios de transporte antiguo y tres modernos?
7. ¿en la imagen de los servicios, ubica al frente de cada figura el correspondiente aviso, si son servicios educativos, servicios de seguridad y así sucesivamente?
8. En ética, ¿escribe una forma de cómo se resuelven los conflictos en tu familia?



INSTITUCION EDUCATIVA REINO DE BELGIC