

NOMBRE DEL DOCENTE: LINA MARIA PALACIOS, LILIANA MORENO Y BETTY MELENDEZ

ÁREA O ASIGNATURA: NUCLEO ANALITICO (MATEMATICAS) GRADO 1° GRUPO (S): 1°1,1°2,1°3
TEMA(S): LA SUSTRACCION O RESTA.

SEMANA DEL 27 DE ABRIL AL 1 DE MAYO AÑO 2020 TALLER #2

ALUMNO. _____

TALLER # 2

INDICADOR(ES) A DESARROLLAR:

Resuelve problemas matemáticos sencillos utilizando la sustracción o resta.

1. DESARROLLO TEÓRICO DE LA TEMÁTICA CON SUS RESPECTIVOS EJEMPLOS

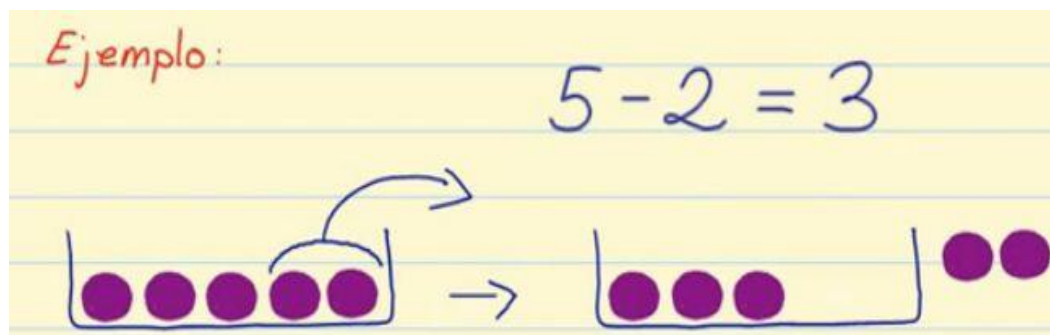
2. DESARROLLO TEÓRICO DE LA TEMÁTICA CON SUS RESPECTIVOS EJEMPLOS

Tema: la sustracción o resta


En este post vamos a **aprender la resta**.

Lo primero de todo, vamos a ver qué es la resta: **Restar** es quitar una cierta cantidad a otra que ya teníamos.

Por ejemplo: Si tenemos en una caja 5 bolas moradas, y sacamos de ésta 2 bolas, nos quedan dentro de la caja 3 bolas. Por lo tanto: $5 - 2 = 3$



Otro ejemplo de resta: Si tenemos 7 pasteles y nos comemos 1, ¿cuántos pasteles tendremos? $7 - 1 = 6$



3. ENLACES Y/O TEXTOS PARA PROFUNDIZAR LA TEMÁTICA



<https://www.smartick.es/blog/matematicas/recursos-didacticos/la-resta/>

https://contenidosparaaprender.colombiaaprende.edu.co/G_1/M/SM/SM_M_G01_U01_L06.pdf<https://juegosinfantiles.bosquedefantasias.com/juegos/matematicas/resta-hasta-5/index.html>

los 30 estudiantes que se les entregó la cartilla de matemáticas del programa vamos aprender deben trabajar de la página 28,29

4. EJERCICIOS DE REPASO

Escribe los resultados de las restas y colorea los animales

 -  = 2

 -  =

 -  =

 -  =


 -  =

www.edufichas.com

Resuelve las restas


9 - 1 =


8 - 2 =


9 - 4 =


5 - 2 =


3 - 2 =

T 4-8

Resuelvo problemas



Resuelvo.



Hay **5** bananos. Luis y María comen **3** bananos.
¿Cuántos bananos quedan?

Planteamiento:

Respuesta:

bananos

Hay **4** mangos y **6** melones.
¿Cuántos melones más hay?

Planteamiento:

Respuesta:

melones

Resuelvo.

a) Tengo **9** dulces. Le doy
5 dulces a mi amiga.
¿Cuántos dulces me quedan?



Planteamiento:

Respuesta:

dulces

b) Hay **7** helados, **4** helados son de chocolate
y el resto de fresa.
¿Cuántos helados son de fresa?



Planteamiento:

Respuesta:

helados

Observa y dibuja en tu cuaderno 3 objetos redondos del hogar y coloréalos de amarillos, 3 objetos cuadrados y coloréalos de rojo, 3 objetos con forma rectangular y coloréalos de azul, 3 objetos con forma de triángulo y colóralos de verde. Escribe los nombres de los objetos.