


	<b>MUNICIPIO DE MEDELLIN</b>	
	<b>SECRETARÍA DE EDUCACIÓN MUNICIPAL</b>	
	<b>I.E. RODRIGO CORREA PALACIO</b> Aprobada por Resolución 16218 de Noviembre 27 de 2002 <b>DANE 105001006483 - NIT 811031045-6</b>	

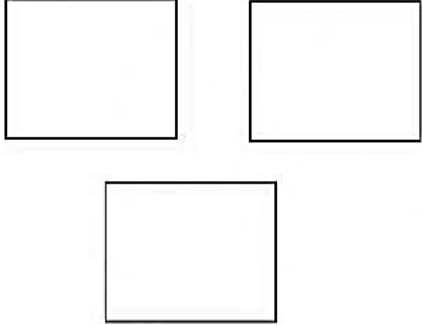
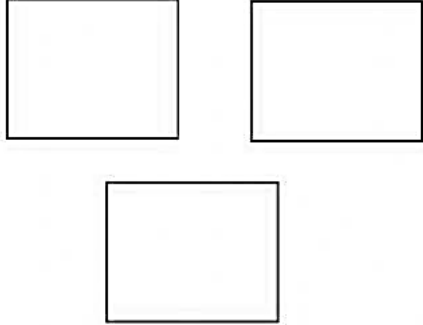
### TALLERES DE RECUPERACION

<b>NOMBRE ESTUDIANTE:</b>		
<b>DOCENTE: BEATRIZ AMARILES</b>		<b>AREA: CIENCIAS SOCIALES</b>
<b>GRADO: SEGUNDO</b>	<b>PERIODO: III</b>	<b>INTENSIDAD SEMANAL: 5 HORAS</b>
<b>FECHA DE ENTREGA: 25 DE AGOSTO</b>		<b>FECHA DEVOLUCION: NOVIEMBRE 22 DE 2024</b>
<b>CONTENIDOS</b>		
<p>Símbolos patrios.  Clasificación de los recursos naturales.  Hidrografía de Colombia.  Relieve colombiano.  Clima colombiano.  Regiones naturales  Las normas de tránsito.  Las señales de tránsito.</p>		
<b>METODOLOGÍA</b>		
Las actividades se proponen con base en los contenidos del plan de área de Lengua Castellana y los derechos básicos de aprendizaje.		
<b>ACTIVIDADES</b>		
<ol style="list-style-type: none"> <li>1. Realizar los ejercicios con letra del estudiante, de forma clara y con manejo del renglón.</li> <li>2. Preparar la sustentación.</li> <li>3. Entregar los talleres en el tiempo estipulado</li> </ol>		








<b>FIRMAS</b>	
PADRE FAMILIA	
ESTUDIANTE	
DOCENTE	

## SÍMBOLOS PATRIOS DE COLOMBIA

Realiza los dibujos correspondientes de acuerdo a la tabla.

Símbolos Patrios	Emblemas Nacionales
	

## RECURSOS NATURALES

No Renovable	Renovable
Son los que la naturaleza no recupera con rapidez, sino que tardan mucho tiempo en formarse.	Son los que la naturaleza recupera con rapidez. Son aquellos que si no los cuidamos pueden desaparecer.
  	   
Colorea los recursos naturales renovable. Marca con X los recursos naturales NO renovable.	

## HIDROGRAFÍA DE COLOMBIA



## RELIEVE COLOMBIANO.

1. Escribe el nombre de cada relieve



2. Une cada definición con la forma de relieve

Montaña

Nevado

Volcán

Cordillera

Llanura

Valle

Cadena de montañas unidas entre si

Territorio plano rodeado de montañas

Elevación de la tierra, está compuesta por tres partes, cima falda y pie

Superficies planas de terreno con vegetación

Montaña con un cráter que lanza lava, ceniza y rocas

Montaña que tiene en su pico extensas capas de hielo

## CLIMA COLOMBIANO.

ACTIVIDAD: 1-Busca en la sopa de letras los factores que determinan el clima. Escribe los en el recuadro.

T	E	M	P	E	R	A	T	U	R	A
E	V	A	J	Z	H	G	O	V	D	R
G	I	B	L	L	U	V	I	A	S	E
R	E	S	O	A	M	H	P	X	E	S
D	N	U	P	B	E	I	S	A	F	O
I	T	N	R	C	D	K	T	B	I	B
C	O	L	U	E	A	C	L	I	M	A
U	S	O	V	F	D	L	U	C	A	S


2- Observa las imágenes, colorea las y escribe el tipo de clima, ( templado, frío, cálido) según la actividad que realizan allí las personas.



Clima: \_\_\_\_\_

clima: \_\_\_\_\_

Clima: \_\_\_\_\_

- Consulta los climas de Colombia

## DIVISION POLITICA DE COLOMBIA

Consulta las capitales de los departamentos de Colombia.

DEPARTAMENTO	CAPITAL	DEPARTAMENTO	CAPITAL
Amazonas		Antioquia	
Arauca		Atlántico	
Bolívar		Caquetá	
Caldas		Cauca	
Casanare		Córdoba	
Cesar		Choco	
Cundinamarca		Guajira	
Guainía		Magdalena	
Guaviare		Nariño	
Huila		Putumayo	
Meta		Risaralda	
N. de Santander		Santander	
Quindío		Tolima	
San Andrés		Vaupés	
Sucre		Valle del Cauca	
Boyacá		Vichada	

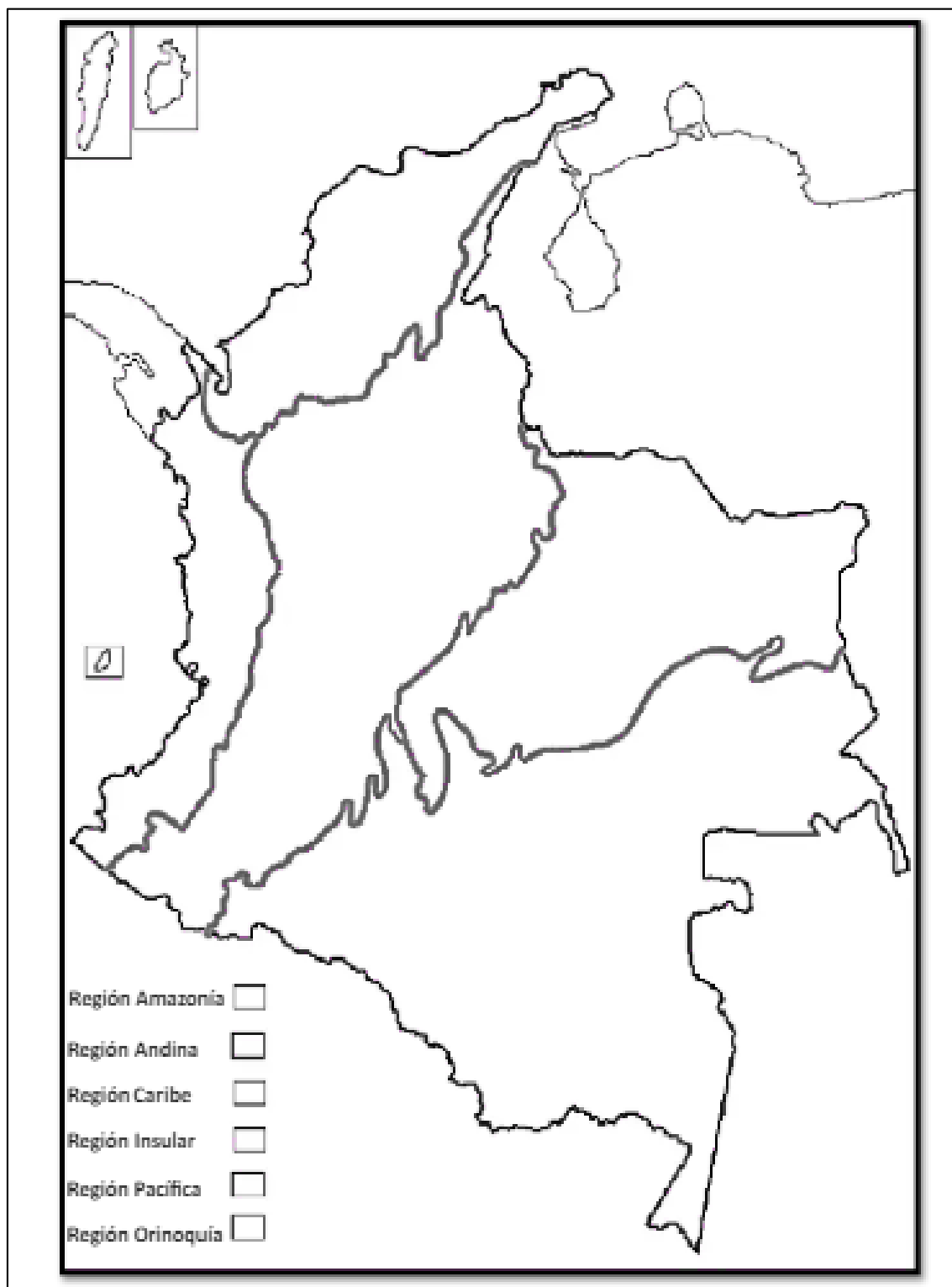
¿Cuántos departamento tiene Colombia?

Colorea el mapa de la división política de Colombia.



## REGIONES NATURALES DE COLOMBIA

En el cuadro de convenciones utiliza un color diferente para cada región, luego en el mapa colorea cada región de acuerdo a las convenciones.





**1. Símbolos patrios**



**¿Cómo se llama el símbolo que narra la historia de Colombia?**

- a. Bandera
- b. Himno
- c. Escudo
- d. Animal emblemático

**2. Hidrografía de Colombia**



**Nombre del río del municipio donde vives.**

\_\_\_\_\_

**3. Observa la imagen. ¿Qué aspecto de Colombia muestra el mapa?**



- a. La hidrografía
- b. El clima
- c. El relieve
- d. Los departamentos

**4. ¿El oso de anteojos es representante de la fauna de cuál país?**



- a. Colombia
- b. Venezuela
- c. México
- d. Panamá

**5. ¿Cuál es el nombre del departamento representado el día de los talentos?**

- a. Antioquia
- b. San Andrés y Providencia
- c. San Andrés
- d. Atlántico