

INSTITUCIÓN EDUCATIVA YERMO Y PARRES



GUIA DE SOCIALES GRADO QUINTO



NOMBRE: _____

GRUPO: _____

SABERES CONCEPTUALES

- Situación geográfica de Colombia.
- El relieve colombiano.
- Las actividades económicas.
- Regiones económicas de Colombia.

INDICADORES DE DESEMPEÑO

- Saber Reconocimiento de los aspectos básicos de la ubicación geográfica de Colombia.
- Identificación de las diversas acumulaciones de agua en el territorio colombiano.
- Explicación de la importancia de los sectores económicos y sus actividades productivas.
- Reconocimiento de las principales regiones económicas del país.

POSICIÓN GEOGRAFICA FE COLOMBIA

Una de las características más importantes del territorio colombiano es la diversidad de formas del suelo. Unas partes son altas y con mucha pendiente, otras son onduladas y otras son planas.

Al conjunto de estas variadas formas de la superficie, con diferentes niveles de altura sobre el nivel del mar, se le llama relieve.

La gran variedad de relieve, combinada con los diferentes elementos del clima, como la temperatura, los vientos y la lluvia, hacen que en Colombia haya una enorme variedad de vegetación y de vida animal.

Colombia cuenta con dos grandes tipos de formaciones del relieve: el montañoso y el plano.

El relieve montañoso en Colombia está formado, principalmente, por la gran cordillera de los Andes, que recorre todo el continente suramericano y que en Colombia se ramifica en tres cordilleras:

Las tres grandes ramificaciones de la Cordillera de los Andes	
Parte de la Cordillera	Características
Occidental	Es las más cortas, estrechas y bajas de las tres cordilleras andinas. Inicia en el Nudo de los Pastos y sus ramales finales llegan hasta Antioquia y Córdoba. Esos tres ramales son las serranías de Abide, San Jerónimo y Ayapel. Al occidente de esta cordillera está la Llanura Pacífica y al oriente el río Cauca.
Central	Se extiende desde el denominado Nudo de los Pastos, en el departamento de Nariño, hasta Antioquia. Al sur es angosta y al norte se amplía y disminuye su altura. En esta cordillera se encuentran la mayoría de los volcanes colombianos, como los nevados de Huila, Tolima y Ruíz..
Oriental	Es la más larga y ancha. Se extiende desde el denominado Macizo Colombiano, localizado entre los departamentos de Huila y Cauca, hasta la frontera con Venezuela en los departamentos de Cesar, Norte de Santander y Boyacá. De las tres cordilleras es la más larga y amplia. La zona más alta corresponde a la Sierra Nevada del Cocuy, con alturas mayores a los 5.400 metros. En esta cordillera se encuentra el altiplano Cundiboyacense, donde habita la mayor parte de la población del país. Cerca de Cúcuta se divide en dos ramales: la cordillera de Mérida, que se interna en Venezuela, y la Serranía del Perijá, que va hacia el norte del país.

Aparte de las cordilleras hay otras dos montañas aisladas principales: la Serranía de la Macarena, al oriente de la cordillera Oriental, y la Sierra Nevada de Santa Marta, al norte del país.

Actividad 1


1. Representa en el mapa de Colombia de manera colorida y creativa:

- La Cordillera Occidental de los Andes.
- La Cordillera Central de los Andes.
- La Cordillera Oriental de los Andes.
- El valle del Cauca.
- La serranía de La Macarena.
- La Sierra Nevada de Santa Marta.

2. Consulta y responde:

- ¿Cuál es la cordillera más larga y ancha?
- ¿Cuál es la zona más poblada de Colombia y que otras características tiene?
- ¿En idioma quechua que quiere decir Andes?
- ¿Cómo se llaman la serranía en las que se abre en 3 ramales?
- ¿Qué ríos nacen en el macizo Colombia?
- ¿Cuáles son las ciudades más habitadas de Colombia?
- ¿cuáles son los nevados que existentes en el Parque Nacional de los Nevados?

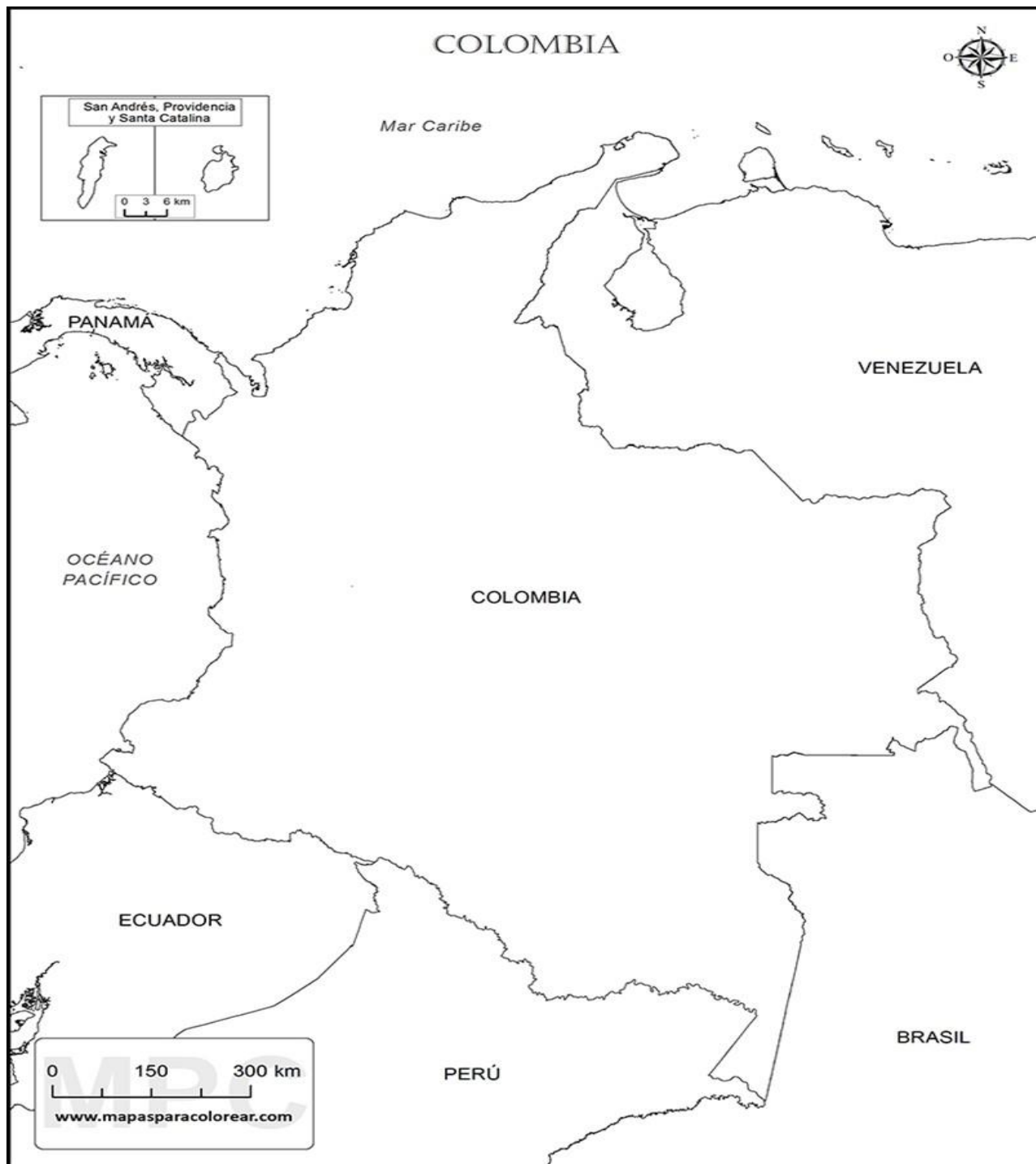
3. Dibuja el animal emblema de los Andes



FRONTERAS DE COLOMBIA

Actividad 2

Colorea las fronteras de Colombia



DIVISIÓN POLITICA DE COLOMBIA

Colombia está dividida territorialmente por departamentos, municipios y distritos. Tiene también otras divisiones especiales como las provincias, las entidades territoriales indígenas y los territorios colectivos.

CUENTA CON 32 DEPARTAMENTOS, 1123 MUNICIPIOS Y 5 DISTRITOS

Los departamentos, estos son encabezados por un gobernador y una asamblea de diputados elegidos en elecciones populares por un periodo de 4 años.

Los municipios son entidades territoriales organizadas administrativa y jurídicamente. El alcalde es el encargado de gobernar junto con un concejo municipal; ambas figuras son elegidas por voto popular por un periodo de 4 años. Actualmente Colombia cuenta con 1123 municipios.

Un distrito es una entidad territorial con una administración especial. Por su importancia nacional, en Colombia hay 5 distritos que son Bogotá, Cartagena, Barranquilla, Santa Marta y Buenaventura.

También existen las entidades territoriales indígenas que son gobiernos locales indígenas que ocupan alguna porción departamental o municipal.

Otros como los territorios colectivos han sido adjudicados a la población afrocolombiana que predomina mayormente en la zona Pacífico, permitiéndole organizarse de formas asociativas comunitaria y empresarial.

Actividad 3

Colorea de una manera muy bonita el mapa de Colombia y resalta cada uno de sus departamentos y capitales. Señala de forma diferente los 5 distritos



HIDROGRAFÍA COLOMBIANA

Colombia es uno de los países con mayor número de recursos hídricos en el mundo. En él se pueden encontrar seis tipos de aguas, incluyendo aguas lluvias, aguas superficiales, aguas subterráneas, aguas termo minerales, aguas marinas y oceánicas y aguas de alimentación glacial.

La riqueza hídrica del país se ve representada en la extensa red superficial de aguas que cubre el territorio, en las favorables condiciones que permiten el almacenamiento de aguas subterráneas y en la existencia de un importante número de cuerpos de agua lénticos (aguas estancadas como lagos y pantanos) y enormes extensiones de humedales.

La presencia de altas montañas, extensas sabanas y húmedas selvas que caracterizan nuestro territorio, además de la presencia de grandes reguladores y reservorios como los páramos junto con la ubicación estratégica del país en la zona tropical hacen que Colombia tenga un potencial hídrico único.

Aguas Oceánicas - Hidrografía De Colombia

El mar Caribe y el océano Pacífico constituyen las aguas oceánicas de Colombia. El caribe colombiano cubre 1.600 Km de costa, desde el Cabo Tiburón al occidente, hasta el Cabo Casquilletes al nororiente del país, abarcando territorios de los departamentos de Chocó, Antioquia, Córdoba, Sucre, Bolívar, Atlántico, Magdalena, y La Guajira.

Por su parte, el océano Pacífico baña 1.300 Km de costa abarcando los departamentos de Chocó, Valle del Cauca, Cauca y Nariño, desde las puntas de Ardita y Cocalito, hasta la desembocadura del río Mataje. En el Pacífico el litoral es alto y escarpado en su parte norte, mientras que en su parte sur es bajo y se inunda frecuentemente.

Entre los accidentes costeros más destacados se encuentra los cabos Corrientes y Manglares, los golfos de Cúbica y Tortugas, las ensenadas de Utría y Tumaco y las bahías de Buenaventura, Humboldt, Málaga, Octavia y Solano.

CENTROS HIDRICOS

Los centros hidrográficos o estrellas fluviales son aquellos lugares de las montañas donde se forman varios ríos, los cuales aumentan sus caudales con las aguas que provienen de sus afluentes. En Colombia los principales centros hidrográficos son:

Macizo Colombiano también se le conoce como Nudo de Almaguer además del calificativo de Estrella fluvial y "La Esponja Hídrica de Colombia", está situado en la cordillera Central en el departamento del Cauca. Es el más importante de todos los centros hidrográficos del país, ya que en él tienen sus fuentes cuatro de los más notables ríos colombianos: el Magdalena, el Cauca, el Patía y el Caquetá.

El Nudo de los Pastos o de Huaca, se halla ubicado al sur del departamento de Nariño, al sur del país. En él, se inicia la cordillera Andina de Colombia, con sus derivaciones Occidental y Central. En este lugar, tiene su nacimiento el río Putumayo y el río Mira, así como algunos afluentes del río Patía.

El Cerro de Caramanta, en esta altura de la cordillera Occidental tienen su origen los ríos San Juan chocoano, el San Juan antioqueño y el Risaralda, así como también algunos afluentes del Atrato (éste nace en el cerro Plateado).

El Nudo de Paramillo, está ubicado en los departamentos Antioquia y Córdoba donde la cordillera Occidental se divide en tres ramales para penetrar en la costa del Atlántico. En este sitio tienen su origen los ríos Sinú, León, San Jorge y Riosucio.

El Páramo de Sumapaz, situado en el departamento de Cundinamarca, forma parte de la cordillera Oriental. En este sitio nacen varios afluentes de los ríos Meta y Guaviare, así como los ríos, como el Cabrera y el Sumapaz afluentes del Magdalena.

El Páramo de Guachaneque, está ubicado en la cordillera Oriental, al norte del departamento de Cundinamarca y allí nacen los ríos Bogotá, Upía, Sogamoso, Blanco, Guatiquía, Negro, Opón y otros.

El Nudo de Santurbán, también se halla situado en la cordillera Oriental, entre los departamentos de Santander y Norte de Santander, donde se originan dos ramales cordilleranos. En este nudo nacen los ríos Zulia, Lebrija y otros afluentes del Catatumbo y afluentes del Arauca como el Margua.

La Sierra Nevada de Santa Marta, ubicada entre los departamentos de Cesar, Magdalena y Guajira, es la máxima altura del territorio nacional colombiano. Es un sistema independiente que da origen a ríos como el Cesar, el Ranchería, el Aracataca, el Fundación, el Ariguaní y otros de menor importancia.

Vertientes Hidrográficas de Colombia

Las vertientes hidrográficas son grandes unidades que agrupan los sistemas de drenajes (ríos), que vierten sus aguas en un mismo destino, el cual puede ser un océano, el mar, un lago o un río.

El relieve hace que los ríos de Colombia corran en distintas direcciones: unos hacia el Pacífico, otros hacia el Caribe y algunos pocos hacia el golfo de Maracaibo, en Venezuela. Los ríos más largos corren por las llanuras orientales hasta desaguar en el Orinoco y en el Amazonas.

Esta distribución permite distinguir en Colombia cinco grandes vertientes: el Caribe, el Pacífico, el Amazonas, el Orinoco y la vertiente del Catatumbo.

Cada una de estas vertientes tiene características propias en cuanto a área, dirección en la cual drenan sus aguas, clima, vegetación, longitud y caudal de los ríos que la forman.

Actividad 4

1. Busca en la sopa de letras todo lo relacionadas con la hidrografía de Colombia

HIDROGRAFÍA DE COLOMBIA



MAGDALENA

GUAVIARE

VAUPES

CAQUETÁ

RANCHERÍA

PATÍA

FÚQUENE

AYAPEL

CAUCA

META

APAPORIS

SINÚ

ATRATO

SAN JUAN DE MICAY

GUATAVITA

SAN SILVESTRE

AMAZONAS

ARAUCA

YARÍ

SAN JORGE

SAN JUAN

MIRA

SUESCA

CIÉNAGA GRANDE

PUTUMAYO

VICHADA

CAGUÁN

CESAR

BAUDÓ

LAGUNA DE LA COCHA

ZAPATOSA

2. Encuentra las palabras sobre el tema hidrografía de colombiana en la sopa de letras.
3. Escribe cuales son las vertientes hidrográficas de Colombia
4. Escribe por qué el rio magdalena es tan importante para Colombia.
5. Calca y colorea el mapa hidrográfico de Colombia señalando sus principales vertientes y centros hídricos, pégalo en el cuaderno.

LAS ACTIVIDADES PRODUCTIVAS.

El hombre tiene muchas necesidades: alimentación vestido salud recreación educación entre otras.

Para satisfacer cada una de estas necesidades se requiere que las personas trabajen. Todas las actividades que el hombre realiza para obtener bienes, como alimento y vestido, o servicios como la salud y la educación, se llaman actividades productivas. Las actividades productivas se pueden agrupar en tres sectores.



Actividad 5

1. En una revista busca imágenes y clasifícalas en el sector primario, secundario y terciario de la economía, pégalas en tu cuaderno designando una hoja para pegar las imágenes de cada sector por separado.
2. En los anuncios clasificados de trabajo de algún periódico, busca un anuncio del sector primario, uno del secundario y otro del terciario, luego pégalos en tu cuaderno. Averigua y responde:
3. ¿Cuáles son las actividades económicas que se desarrollan en tu región?
4. ¿Cómo han incidido estas actividades en las costumbres de los habitantes?
5. ¿Cómo han influido estas actividades en los recursos naturales de tu región?

REGIONES ECONÓMICAS DE COLOMBIA

Son extensos territorios que no poseen, necesariamente, una producción económica uniforme. Cada región económica está conformada por centros de producción y centros de distribución, que son ciudades importantes encargadas de distribuir productos y servicios.

Las regiones económicas de Colombia son: la región del norte, la región noroccidental, la región nororiental, la región central, la región del viejo caldas y la región suroccidental. La región suroccidental, por ejemplo, se caracteriza por el desarrollo de la agroindustria de la caña de azúcar y de la harina. Yumbo, una ciudad ubicada en el departamento del Valle del Cauca, es el centro de distribución de esta región. Es una región de un país definida por una economía específica predominante: región petrolera, ganadera, agrícola, agropecuaria, industrial, etc.

Son regiones cuyas condiciones climáticas y del relieve permiten la producción de grandes cantidades de recursos naturales, alimentos o manufacturas, que luego son comercializados con otras regiones.

ACTIVIDADES PRODUCTIVAS POR DEPARTAMENTOS

Otra clasificación regional agrupa los departamentos que se dedican a las mismas actividades productivas.

Departamentos industrializados: Son aquellos que tiene una infraestructura industrial avanzada y competitiva, es decir, que cuentan con medios técnicos, servicios e instalaciones necesarias para el desarrollo de la industria. Estos departamentos son: Cundinamarca, Atlántico, Antioquia y Valle del Cauca.

Departamentos con economías en crecimiento: Son aquellos que basan su progreso en el desarrollo de actividades relacionadas con el cultivo de café y la explotación del petróleo. Estos departamentos son: Risaralda, Caldas, Bolívar, Santander, Arauca y Meta.

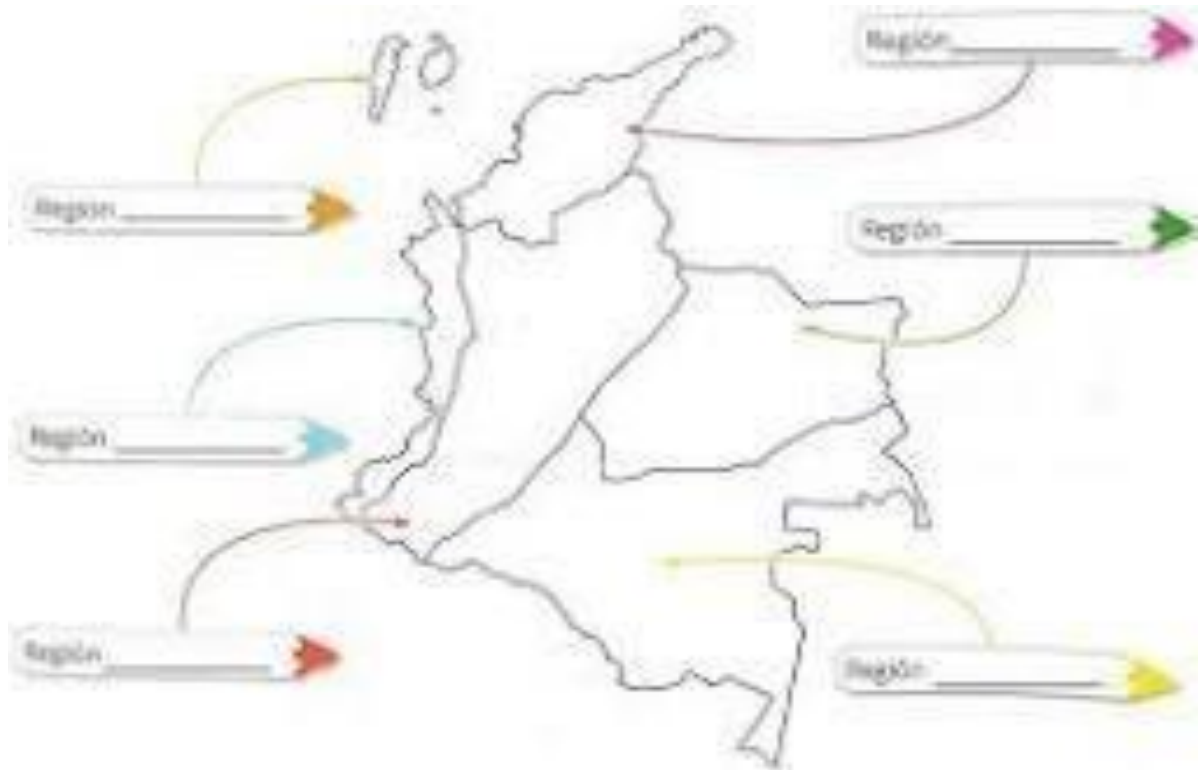
Departamentos con economías basadas en el sector primario: Son aquellos que se dedican especialmente a la agricultura, la ganadería y la agroindustria. Estos departamentos son: Tolima, Huila, Cesar, Quindío, Córdoba, Norte de Santander, Boyacá y Nariño.

Departamentos de economías fundamentadas en el agro y la minería: Son los departamentos en los que más del 50% de su producción económica se basa en la explotación de productos agrícolas y extracción de minerales: La Guajira, Magdalena, Sucre, Cauca, Casanare y Caquetá.

Departamentos con bajo nivel de desarrollo económico: Estos departamentos basan su desarrollo económico en la explotación forestal, la caza y la pesca: Chocó, Vichada, Guainía, Vaupés, Putumayo, Guaviare y Amazonas

Actividad 6

1. Colorea cada región económica e identifica cual es la actividad económica principal de la región



2. A qué actividad productiva se dedica tu departamento. Representalo con un dibujo.

LOS PROBLEMAS QUE ENFRENTA LA ECONOMÍA COLOMBIANA

Nuestro país ha logrado mantener una economía estable durante los últimos años. Sin embargo, el crecimiento de nuestra economía se ha visto frenado por problemas como el desempleo, la pobreza y la falta de incentivos para el campo y los pequeños industriales.

El desempleo: Es aquella circunstancia en la cual un ser humano que está en condiciones de trabajar no cuenta con un empleo. Para calcular el nivel de desempleo de un país se tiene en cuenta a la población activa, es decir, el grupo de personas que están en capacidad de realizar actividades laborales. Sin embargo, el desempleo no debe confundirse con la población inactiva, o sea, aquellas personas que, debido a su edad, a su condición física o a que están en edad estudiantil, no pueden realizar ningún trabajo.

En Colombia el Departamento Administrativo Nacional de Estadísticas, DANE, es el organismo encargado de medir el desempleo. Según el DANE, el desempleo de nuestro país llegó al 12.2%

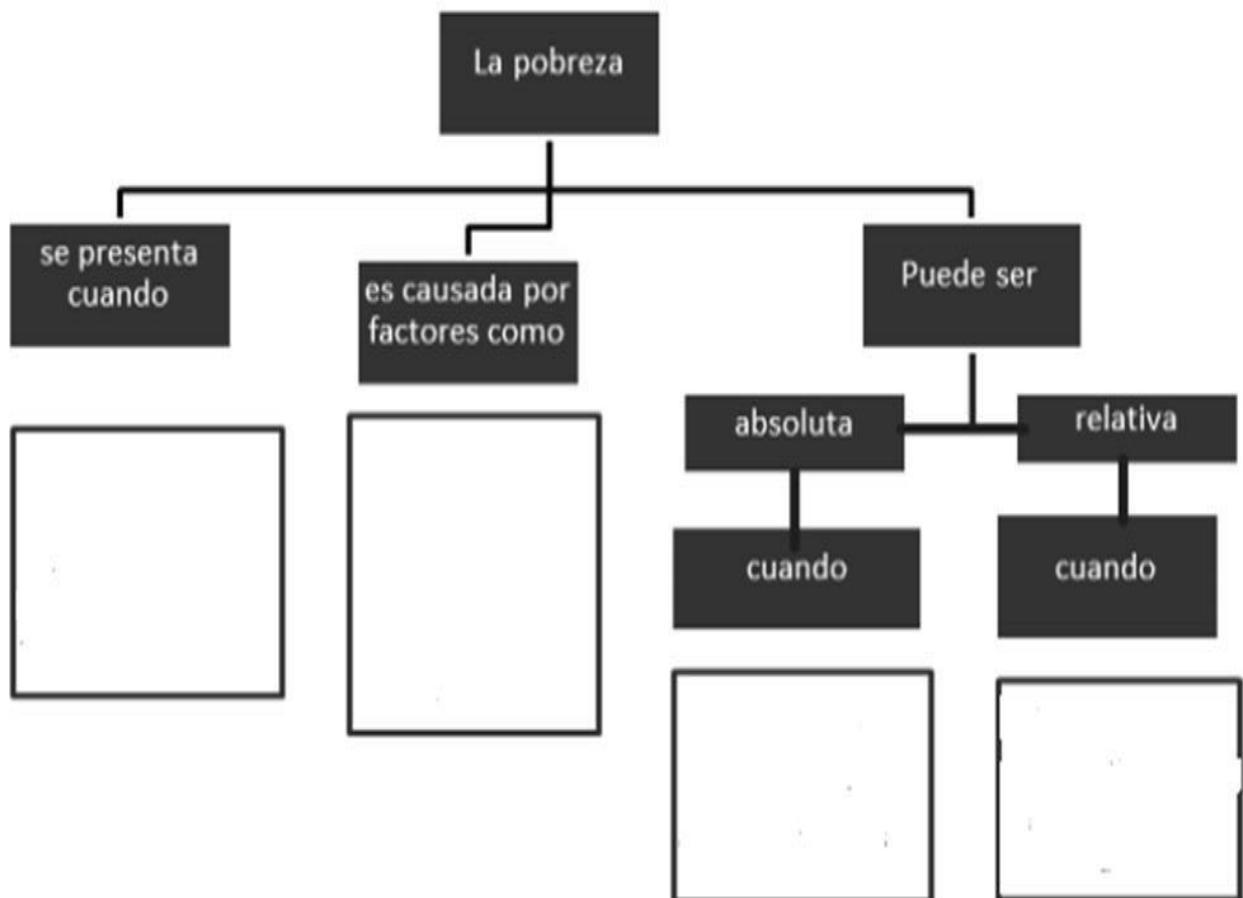
En la primera mitad de 2010, lo que significa que aproximadamente dos y medio millones de colombianos no tiene un empleo estable.

La pobreza: es una situación económica que se presenta cuando las personas no cuentan con recursos para satisfacer sus necesidades básicas, como el alimento, la salud, la educación o la vivienda. La pobreza es causada por diversos factores como la falta de empleo, el escaso valor del trabajo, la segregación social y la marginación.

La pobreza puede ser relativa, cuando el ingreso que reciben las personas está por debajo del ingreso promedio de la sociedad, o absoluta, cuando su ingreso no es suficiente para comprar los alimentos diarios. En Colombia, los niveles de pobreza siguen siendo muy altos. En el año 2009, por ejemplo, esta cifra llegó al 45% lo que quiere decir que aproximadamente 20 millones de colombianos son pobres.

ACTIVIDAD 7

1. Complete el siguiente mapa conceptual.



2. Une, con una línea, cada concepto con su definición.

Centros de distribución	Grupo de personas que no pueden realizar actividades laborales
Población inactiva	Son aquellos con una infraestructura industrial avanzada
Segregación	Ciudades encargadas de distribuir productos o servicios
Departamentos industrializados	Política que excluye a ciertas minorías

3. Completa la siguiente tabla

Tipo de departamento	Características
Departamentos industrializados	
Departamentos con economías en crecimiento	
Departamentos con economías basadas en el sector primario	
Departamentos con economías fundamentadas en el agro y la minería	
Departamentos con bajo nivel de desarrollo económico	

Actividad 8

ANÁLISIS DE LECTURA

Lee el siguiente texto, responde:

La Contaminación es la impregnación del aire, el agua o el suelo con productos que afectan a la salud del ser humano, así como de la flora y la fauna del planeta. Estos daños pueden ser causados por falta de medidas de seguridad durante el empleo de dichas sustancias, este tipo de problemas hoy en día son los principales causantes del deterioro ambiental y por ello la modificación de los procesos naturales e incluso genéticos, de igual manera la destrucción de los ecosistemas entre los cuales los ecosistemas más afectados, son los ecosistemas marinos, derramando grandes cantidades de barriles del llamado “crudo” ha destruido gran parte de la vida marina y ha puesto en peligro especies silvestres. Como sabemos, las asociaciones que protegen el medio ambiente han condenado estos actos de contaminación ambiental, con sanciones y se han creado medidas para reducir estos daños, aunque muchas veces resulte algo difícil de revertir. La extracción de petróleo se lleva a cabo con una compleja maquinaria que extrae el petróleo desde aguas muy profundas, debido a la presión atmosférica de los mares, son más propensas las maquinas a sufrir daños que provoquen anomalías en la explotación de este importante recurso natural. Extraer petróleo no es una tarea fácil, es un asunto muy delicado que debe tratarse cuidadosamente para de este modo poder evitar un DETERIORO AMBIENTAL.

- ¿Qué título le colocarías al texto?
- ¿Cuál es la idea principal del texto?
- La contaminación es:
- ¿Cuáles son los principales causantes del deterioro ambiental?
- ¿Qué consecuencias perjudiciales representa la extracción de petróleo?

AUTOEVALUACIÓN	
Escucho con atención a mis profesores y compañeros	
Expreso mis opiniones sin agredir a los demás	
Soy responsable con mis compromisos escolares	
Participo con entusiasmo y apporto nuevas ideas	
Aprovecho el tiempo en clase y termino las actividades propuestas	
NOTA	

