



INSTITUCIÓN EDUCATIVA YERMO Y PARRES
SECCION GUILLERMO VALENCIA




GUIA DIDÁCTICA DE CIENCIAS SOCIALES
GRADO 3° - PERIODO 2
DOCENTE: SOL ASTRID BENITEZ



NOMBRE DEL ESTUDIANTE: _____

GRUPO: _____

SABERES CONCEPTUALES	INDICADORES DE DESEMPEÑO
<ul style="list-style-type: none"> ➤ Reconocimiento de Medellín ➤ Paisaje Natural y Cultural ➤ Medios de transportes ➤ Formación ciudadana ➤ Generalidades de Antioquia 	<ul style="list-style-type: none"> ➤ Reconocimiento de la ubicación de Medellín, sus límites, formas del paisaje clima y recursos naturales. ➤ Diferencias de actividades Económicas del municipio y los diferentes servicios que presta a la comunidad. ➤ Identificación de los lideres y autoridades municipales ➤ Distingue medios de transporte del municipio de Medellín



APODOS POPULARES DE LA CIUDAD DE MEDELLIN



ACTIVIDAD

- *Delinea los bordes de los mapas, cada mapa con un color distintos
- * Observa cada mapa y escríbeles el nombre
- * ubica la ciudad de Medellín y dibuja el río que lo atraviesa
- * Observa las imágenes, colócales el nombre a los sitios correspondan según el punto



Responde

Medellín es la capital del departamento de _____ su
temperatura es de _____ Medellín se encuentra en el centro del
_____ en la cordillera
central de los andes, y es atravesada de sur a norte por el río

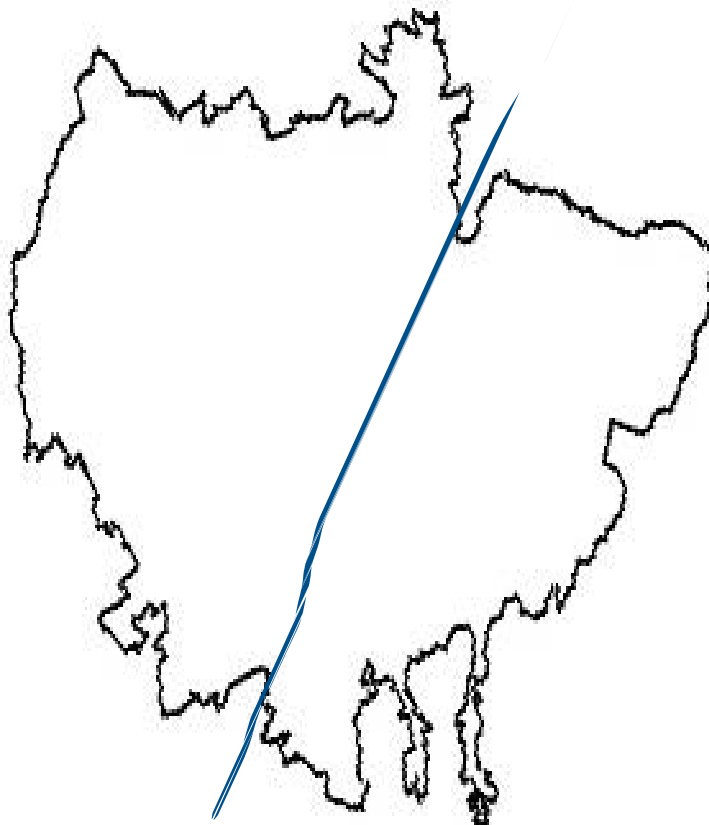
ACTIVIDAD

Escribe el nombre del municipio o ciudad de: _____

Esta atravesada por el río: _____

Escribe los apodos populares que ha tenido Medellín: _____

_____, _____, _____,



ACTIVIDAD

*La imagen nos muestra los puntos cardinales, ubícalos en el mapa

* ubica los límites



Al norte: limita con los municipios de Bello, Copacabana y San Jerónimo

Sur: limita con Envigado, Itagüí, La Estrella y el Retiro

Oriente: por el oriente con Guarne y Rionegro

Occidente: Angelópolis, Ebéjico y Heliconia.

Reconoce los Mandatarios

ACTIVIDAD

Colócale el respetivo nombre y el lugar que dirige

1. _____ de _____

2. _____ de _____

3. _____ de _____



MEDIOS DE TRANSPORTES DE MEDELLÍN

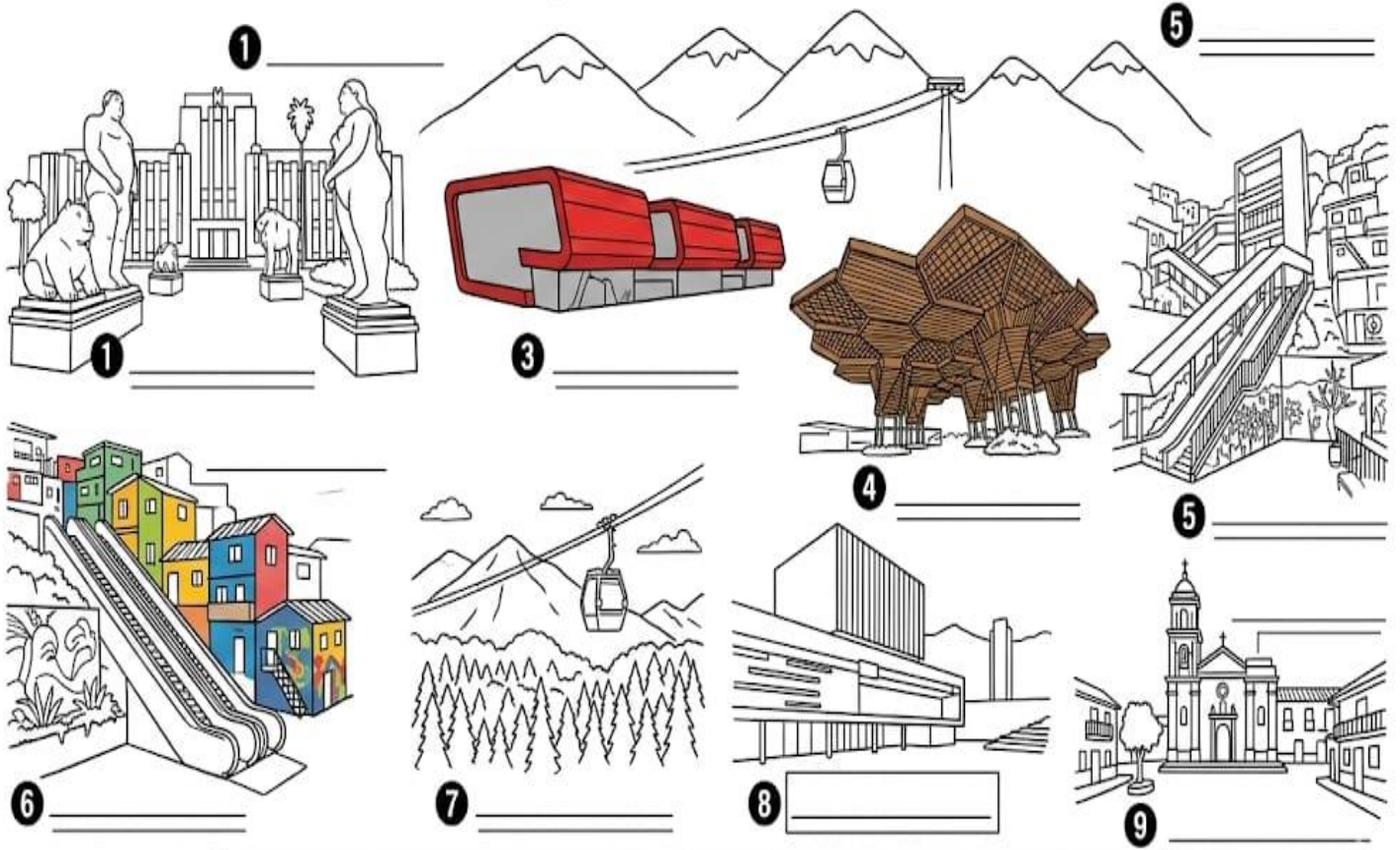
ACTIVIDAD

Observa las Imágenes de algunos medios de transporte y colócales
enumerados y colócales el nombre



DESCUBRE MEDELLÍN: LUGARES DE INTERÉS

Identifica y escribe el nombre de cada sitio.



- | | | | | |
|-----------------|----------------|--------------------|----------------|-----------------------|
| Plaza de Botero | Parque Explora | Museo Orquideorama | Parque Explora | Círculo Poblito Paisa |
|-----------------|----------------|--------------------|----------------|-----------------------|

ACTIVIDAD

Medellín como capital de Antioquia: Escríbelos:

_____	_____
_____	_____
_____	_____
_____	_____



ELEMENTOS NATURALES:

.....

.....

ELEMENTOS ARTIFICIALES:

.....

.....

Tema: Paisaje natural y paisaje cultural.


Objetivo: Conocer las características del paisaje natural y del paisaje cultural.

Paisaje natural y paisaje cultural

El paisaje cultural es el resultado de la acción del ser humano en un lugar.



El paisaje natural es aquel que no ha sido intervenido por el ser humano.



Actividad

Escribe tres características del paisaje cultural y tres características del paisaje natural.

Natural

- _____

- _____

- _____

Cultural

- _____

- _____

- _____

AUTO EVALUACION

MATERIA:-----

NOMBRE: ----- **GRUPO:**-----

Realizas tus trabajos a tiempo y puntualmente	Si -----	No-----	Alguna veces -----
Eres respetuoso con tus compañeros y docentes	Si -----	No-----	Algunas veces -----
Dejas dar la clase y contribuyes con el orden	Si-----	No-----	Algunas veces -----
Cuando terminas tus actividades de clase te quedas en el puesto colaborando con la disciplina esperando a que los compañeros terminen	Si-----	No-----	Algunas veces -----
Escuchas atentamente las instrucciones dadas en el aula de clase	Si-----	No-----	Algunas veces -----
Entregas puntualmente las actividades que se envía para desarrollar en casa	Si-----	No-----	Algunas veces-----
Traes tu material de trabajo	Si-----	No-----	Algunas veces-----