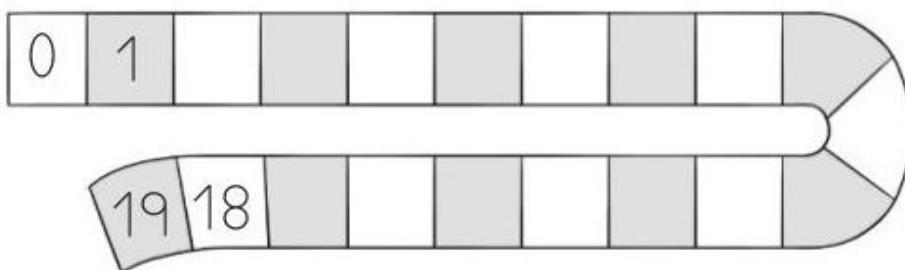


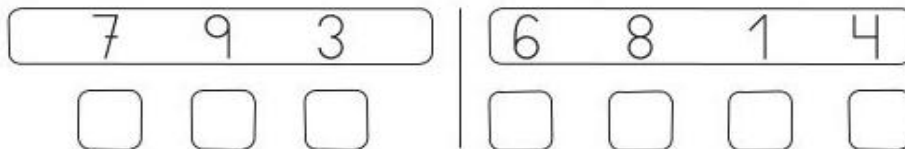
ESTRATEGIAS DE APOYO

COMPLEMENTARIAS		PLAN DE MEJORAMIENTO	X	PROMOCIÓN ANTICIPADA	
ESTUDIANTE				GRUPO	
DOCENTE	MARLY CERVANTES				
ÁREA	MATEMÁTICAS			PERÍODO	1
GRADO	1°3	FECHA DE ENVÍO			
Estimado estudiante de Fe y Alegría San José, la actividad programada en este formato deberá ser realizada pensando en tu formación personal y en el desarrollo de tus competencias. Presentar el taller con los puntos aquí señalados es parte obligatoria del proceso, para poder presentar la evaluación de sustentación. La evaluación será programada desde Coordinación.					
ACTIVIDAD	Taller 30%		Evaluación escrita 70 %		
Fecha de entrega	Abril 23 - 2026		Pendiente programación de Coordinación		

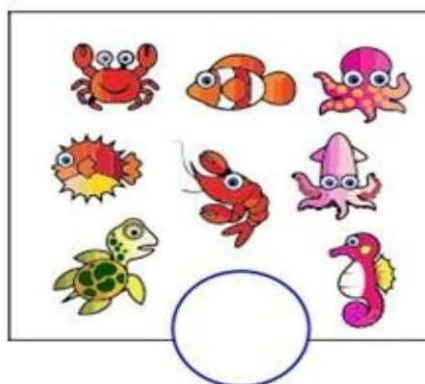
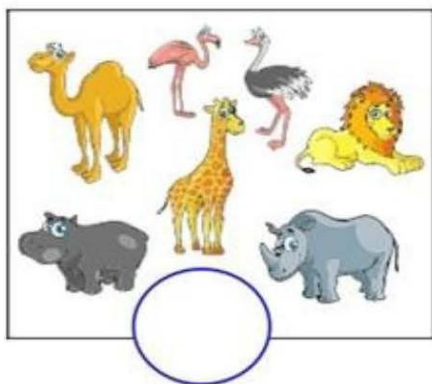
1. COMPLETA LA SERIE.



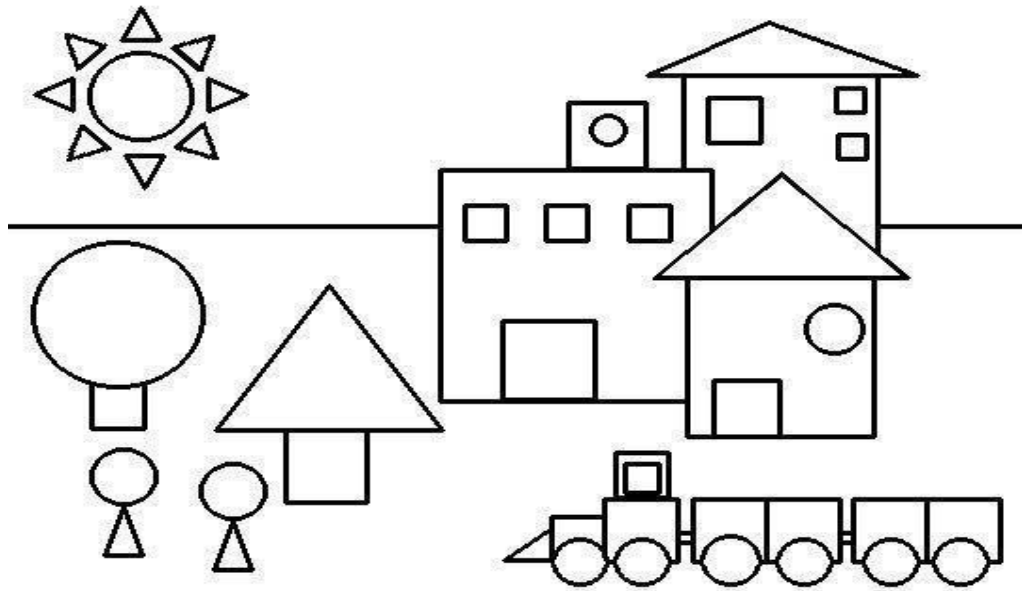
2 Ordena de mayor a menor.



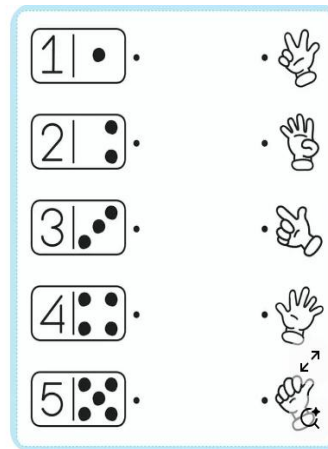
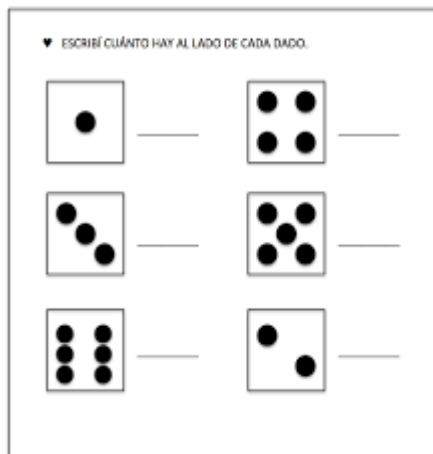
2 CUENTA LOS ANÍMALES Y COLOCA EL RESULTADO DEN EL CÍRCULO



- DIBUJA 2 COSAS CON FORMAS DE CUADRADO, 2 CON FORMAS DE CIRCULO Y 2 CON FORMAS DE TRIANGULO.
(Al respaldo de la hoja)
- EN LA IMAGEN COLOREA LOS TRIANGULOS DE AMARILLO, LOS RECTÁNGULOS DE ROJO, LOS CUADRADOS DE ROJO Y LOS CÍRCULOS DE ANARANJADO**



- CUENTA LOS PUNTOS DE LOS DADOS Y ESCRIBE LA CANTIDAD.**




UNE CON UNA LINEA SEGÚN EL NÚMERO QUE MUESTRAN LOS DEDOS.

- ESCOGE LOS ELEMENTOS SIMILARES PARA CADA CONJUNTO Y DIBUJALOS EN LOS INDICADOS.

Conjuntos

Observa las figuras e identifica las características comunes. Arrastra las imágenes y forma 3 conjuntos. Empieza arrastrando las figuras de izquierda a derecha



A

Frutas


B

Útiles escolares

C

Animales

7. ESCRIBE LOS NÚMEROS DEL 0 AL 30, EN LA PARTE DE ATRÁS DE LA ESTA HOJA.
8. COLOREA DE AZUL LAS COMETAS CON NUMEROS PARES Y DE VERDE LOS IMPARES, COLOCA EL VALOR ACADA LADO DE LA COMETA



9. UNE CON LA LÍNEA

8	
5	
7	
4	
6	