

ESTUDIANTE _____ GRUPO _____



INSTITUCIÓN EDUCATIVA FE Y ALEGRÍA SAN JOSÉ



ESTRATEGIAS DE APOYO

COMPLEMENTARIAS		PLAN DE MEJORAMIENTO	X	PROMOCIÓN ANTICIPADA	
-----------------	--	----------------------	---	----------------------	--

DOCENTE MARIA GRACIELA GÓMEZ PÉREZ

ÁREA MATEMÁTICAS **PERÍODO** 1

GRADO PRIMERO 1 **FECHA DE ENVÍO**

Estimado estudiante de Fe y Alegría San José, la actividad programada en este formato deberá ser realizada pensando en tu formación personal y en el desarrollo de tus competencias. Presentar el taller con los puntos aquí señalados es parte obligatoria del proceso, para poder presentar la evaluación de sustentación. La evaluación será programada desde Coordinación.

ACTIVIDAD	Taller 30%	Evaluación escrita 70 %
------------------	------------	-------------------------

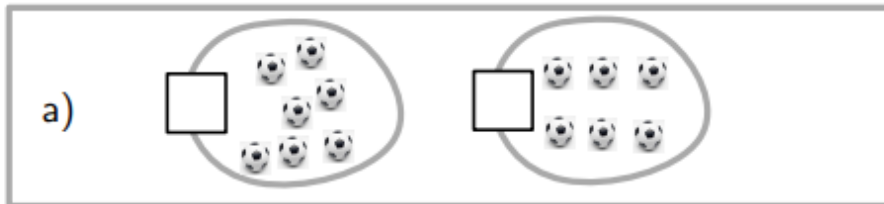
Fecha de entrega	Abril 23 - 2026	Pendiente programación de Coordinación
-------------------------	-----------------	--

TALLER


TENER EN CUENTA

- El taller se realiza en la casa.
- Lo entrega el día de la presentación de la evaluación.
- Realizar el taller completo.

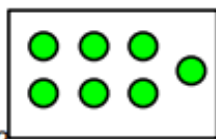
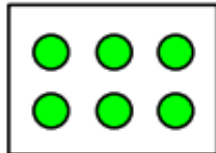


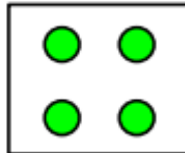
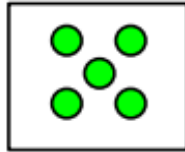

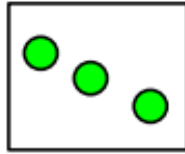
1. Cuenta los objetos de cada conjunto y señala el conjunto con más objetos.



2. Cuenta los objetos y señala el conjunto con menos objetos.



3. Une con una línea y escribe el número.



1

uno

2

dos

3

4

5


6

7

8

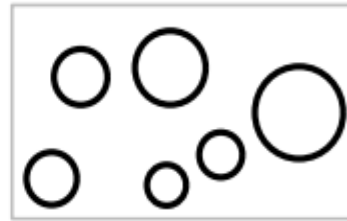
9

4. Cuenta y colorea.



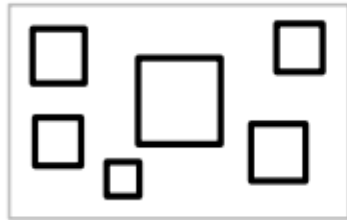
¿Cuántos triángulos hay?

Colorea 3 de azul y 2 de rojo



¿Cuántos círculos hay?


Colorea 4 de rojo y 2 de azul



¿Cuántos cuadrados hay?

Colorea 3 de azul y 3 de rojo

9



¿Cuántos triángulos hay?

Colorea 2 de rojo y 4 de azul

5. Une con una línea los números que sumen 8

3	4
7	6
4	1
2	5

A dotted line connects the number 4 in the first row, left column to the number 4 in the second row, right column.

5	2
6	7
3	3
1	5


6. Cuenta y escribe el resultado, luego colorea.

5 bottles + 5 sharpeners =

3 flowers + 4 stars =

6 oranges + 2 strawberries =



5 chicks + 1 cat =





www.materialparamaestros.com


7. Realiza las restas y luego colorea.

7. Realiza las restas y luego colorea.







www.materialparamaestros.com