

	INSTITUCIÓN EDUCATIVA FE Y ALEGRÍA SAN JOSÉ				
	ESTRATEGIAS DE APOYO				
	COMPLEMENTARIAS		PLAN DE MEJORAMIENTO	X	PROMOCIÓN ANTICIPADA
DOCENTE	LISETH ORTEGA				
ÁREA	MATEMATICAS			PERÍODO	2
GRADO	1-1	FECHA DE ENVÍO			
ACTIVIDAD	Taller			Evaluación escrita 100 %	
TENER EN CUENTA					
<ul style="list-style-type: none"> <input type="checkbox"/> Leer muy bien las indicaciones que se dan y tener muy presente la fecha de presentación <input type="checkbox"/> Los niños deberán traer el taller en blanco e impreso el día de la presentación, se realizará en el tiempo estipulado para tal fin. <input type="checkbox"/> Para el día del examen escrito: traer el taller en blanco impreso y el cuaderno al día <input type="checkbox"/> La información sobre los temas a desarrollar está en el cuaderno 					

Números ordinales

1. Escribe debajo de los elefantes el número ordinal correspondiente:



2. Colorea los carros según se indica

- Tercero : amarillo
- Cuarto: azul
- Primero: verde
- Quinto: morado
- Séptimo: rojo



Pensamiento espacial

• Colorea la pelota que está encima de la mesa:



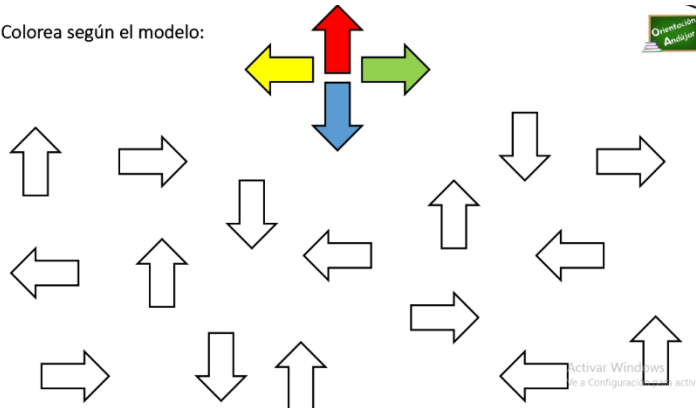
• Colorea la pelota que está debajo de la mesa:



• Colorea la pelota que está entre las mesas:



4. Colorea según el modelo:



Comparación de conjuntos

5. Encierra el grupo que tiene menos elementos

Two groups of paper clips: a group of 2 and a group of 4.

Two groups of teddy bears: a group of 3 and a group of 1.

Two groups of butterflies: a group of 2 and a group of 3.

Two groups of baby figures: a group of 2 and a group of 1.

6. Encierra el grupo que tiene mas elementos

Two groups of pushpins: a group of 6 and a group of 3.

Two groups of trapezoidal blocks: a group of 3 and a group of 4.

Two groups of pencils: a group of 4 and a group of 5.

Two groups of folders: a group of 4 and a group of 1.

Orden Numérico

7. Ordena los números del mayor al menor

Row 1: 0, 5, 9, 8, 3, 1. Below: 6 empty circles with arrows pointing right.

Row 2: 5, 10, 0, 7, 3, 4. Below: 6 empty circles with arrows pointing right.

Row 3: 6, 7, 3, 10, 9, 2. Below: 6 empty circles with arrows pointing right.

8. Ordena del menor al mayor

Problem 1: A box with numbers 4, 5, 3, 1, 0, 2. A cartoon rabbit is next to it. Below: 6 empty boxes.

Problem 2: A box with numbers 8, 7, 9, 6, 10. A cartoon woman is next to it. Below: 6 empty boxes.

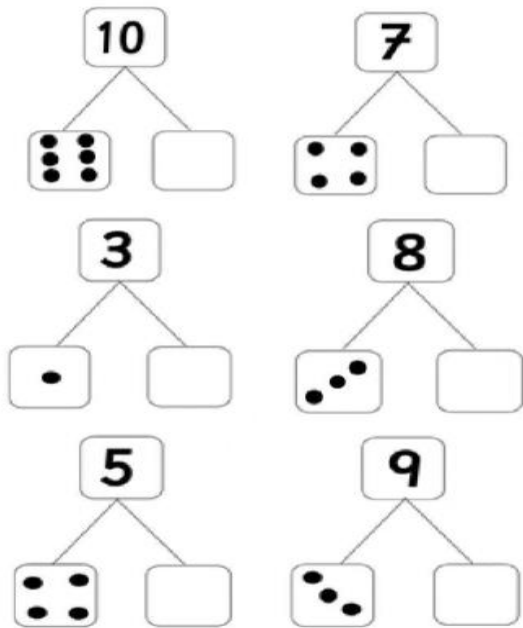
Problem 3: A box with numbers 6, 9, 7, 8, 10. A cartoon boy is next to it. Below: 6 empty boxes.

Problem 4: A box with numbers 6, 8, 9, 10, 7, 5, 4, 11. A cartoon girl is next to it. Below: 6 empty boxes.

Problem 5: A box with numbers 5, 2, 3, 1, 0, 4. A cartoon man with a basketball is next to it. Below: 6 empty boxes.

Descomposición de números

9. Descomponer los siguientes números



10. Escribe en cada casilla el numero correcto

