
	<b>INSTITUCIÓN EDUCATIVA FE Y ALEGRÍA SAN JOSÉ</b>				
	<b>ESTRATEGIAS DE APOYO</b>				
	COMPLEMENTARIAS		PLAN DE MEJORAMIENTO	X	PROMOCIÓN ANTICIPADA
<b>DOCENTE</b>	CARMEN T. SERNA MORENO				
<b>ÁREA</b>	MATEMÁTICAS			<b>PERÍODO</b>	2
<b>GRADO</b>	1°3		<b>FECHA DE ENVÍO</b>		
Estimado estudiante de Fe y Alegría San José, la actividad programada en este formato deberá ser realizada pensando en tu formación personal y en el desarrollo de tus competencias. Presentar el taller con los puntos aquí señalados es parte obligatoria del proceso, que consiste en la presentación de una evaluación escrita equivalente al 100% de la nota de recuperación. La evaluación será programada desde Coordinación.					
<b>ACTIVIDAD</b>	Taller		Evaluación escrita 100 %		
<b>Fecha de entrega</b>			Pendiente programación de Coordinación		
<b>TALLER</b>					
<b>TENER EN CUENTA</b>					
<ul style="list-style-type: none"> <li>➤ <u>No</u> se hace el taller en la casa, se resuelve en clases con la profesora.</li> <li>➤ Presentarse con el taller impreso el día que le corresponde realizar el plan de mejoramiento.</li> </ul>					

**INSTITUCIÓN EDUCATIVA FE Y ALEGRIA SAN JOSE**  
**PLAN DE MEJORAMIENTO DE MATEMÁTICAS**

**GRADO:** 1°3


**PERIODO:** 2

**NOMBRE DEL ESTUDIANTE:**

---

**ACTIVIDAD #1.**

Resuelve las siguientes adiciones o sumas con 1 dígito o cifra:



$$\begin{array}{r} 4 \\ + 5 \\ \hline \end{array}$$

$$\begin{array}{r} 2 \\ + 7 \\ \hline \end{array}$$

$$\begin{array}{r} 3 \\ + 6 \\ \hline \end{array}$$

$$\begin{array}{r} 7 \\ + 1 \\ \hline \end{array}$$

$$\begin{array}{r} 5 \\ + 1 \\ \hline \end{array}$$

$$\begin{array}{r} 3 \\ + 4 \\ \hline \end{array}$$

$$\begin{array}{r} 6 \\ + 1 \\ \hline \end{array}$$

$$\begin{array}{r} 5 \\ + 2 \\ \hline \end{array}$$

$$\begin{array}{r} 4 \\ + 3 \\ \hline \end{array}$$

$$\begin{array}{r} 3 \\ + 3 \\ \hline \end{array}$$

$$\begin{array}{r} 3 \\ + 4 \\ \hline \end{array}$$

$$\begin{array}{r} 9 \\ + 1 \\ \hline \end{array}$$

$$\begin{array}{r} 5 \\ + 2 \\ \hline \end{array}$$


$$\begin{array}{r} 3 \\ + 2 \\ \hline \end{array}$$

$$\begin{array}{r} 2 \\ + 2 \\ \hline \end{array}$$

$$\begin{array}{r} 4 \\ + 1 \\ \hline \end{array}$$

**ACTIVIDAD #2.**

Escribe el resultado:



$$\begin{array}{r} 8 \\ + 1 \\ \hline \end{array}$$

$$\begin{array}{r} 3 \\ + 5 \\ \hline \end{array}$$

$$\begin{array}{r} 1 \\ + 4 \\ \hline \end{array}$$

$$\begin{array}{r} 3 \\ + 4 \\ \hline \end{array}$$

$$\begin{array}{r} 3 \\ + 6 \\ \hline \end{array}$$

$$\begin{array}{r} 4 \\ + 4 \\ \hline \end{array}$$

$$\begin{array}{r} 2 \\ + 3 \\ \hline \end{array}$$

$$\begin{array}{r} 1 \\ + 7 \\ \hline \end{array}$$

$$\begin{array}{r} 4 \\ + 4 \\ \hline \end{array}$$

$$\begin{array}{r} 2 \\ + 8 \\ \hline \end{array}$$

$$\begin{array}{r} 6 \\ + 3 \\ \hline \end{array}$$

$$\begin{array}{r} 5 \\ + 2 \\ \hline \end{array}$$

$$\begin{array}{r} 3 \\ + 4 \\ \hline \end{array}$$

$$\begin{array}{r} 5 \\ + 4 \\ \hline \end{array}$$

$$\begin{array}{r} 1 \\ + 7 \\ \hline \end{array}$$

$$\begin{array}{r} 7 \\ + 2 \\ \hline \end{array}$$

ACTIVIDAD #3.

Encierra de rojo la familia del número 110, azul la familia del 200 y verde la familia del número 270:

1	2	3	4	5	6	7	8	9	10
11	12	13	14	15	16	17	18	19	20
21	22	23	24	25	26	27	28	29	30
31	32	33	34	35	36	37	38	39	40
41	42	43	44	45	46	47	48	49	50
51	52	53	54	55	56	57	58	59	60
61	62	63	64	65	66	67	68	69	70
71	72	73	74	75	76	77	78	79	80
81	82	83	84	85	86	87	88	89	90
91	92	93	94	95	96	97	98	99	100
101	102	103	104	105	106	107	108	109	110
111	112	113	114	115	116	117	118	119	120
121	122	123	124	125	126	127	128	129	130
131	132	133	134	135	136	137	138	139	140
141	142	143	144	145	146	147	148	149	150
151	152	153	154	155	156	157	158	159	160
161	162	163	164	165	166	167	168	169	170
171	172	173	174	175	176	177	178	179	180
181	182	183	184	185	186	187	188	189	190
191	192	193	194	195	196	197	198	199	200
201	202	203	204	205	206	207	208	209	210
211	212	213	214	215	216	217	218	219	220
221	222	223	224	225	226	227	228	229	230
231	232	233	234	235	236	237	238	239	240
241	242	243	244	245	246	247	248	249	250
251	252	253	254	255	256	257	258	259	260
261	262	263	264	265	266	267	268	269	270
271	272	273	274	275	276	277	278	279	280
281	282	283	284	285	286	287	288	289	290
291	292	293	294	295	296	297	298	299	300

ACTIVIDAD #4.

Resuelve las siguientes **sustracciones** o **restas** con 1 dígito o cifra:

$$\begin{array}{r} 8 \\ - 4 \\ \hline \end{array}$$

$$\begin{array}{r} 9 \\ - 3 \\ \hline \end{array}$$

$$\begin{array}{r} 5 \\ - 1 \\ \hline \end{array}$$

$$\begin{array}{r} 6 \\ - 2 \\ \hline \end{array}$$

$$\begin{array}{r} 7 \\ - 6 \\ \hline \end{array}$$

$$\begin{array}{r} 8 \\ - 5 \\ \hline \end{array}$$

$$\begin{array}{r} 3 \\ - 1 \\ \hline \end{array}$$

$$\begin{array}{r} 4 \\ - 2 \\ \hline \end{array}$$

edufichas.com

$$\begin{array}{r} 9 \\ - 7 \\ \hline \end{array}$$

$$\begin{array}{r} 5 \\ - 3 \\ \hline \end{array}$$



$$\begin{array}{r} 8 \\ - 6 \\ \hline \end{array}$$

$$\begin{array}{r} 6 \\ - 5 \\ \hline \end{array}$$

$$\begin{array}{r} 6 \\ - 4 \\ \hline \end{array}$$

$$\begin{array}{r} 9 \\ - 3 \\ \hline \end{array}$$

$$\begin{array}{r} 8 \\ - 1 \\ \hline \end{array}$$

$$\begin{array}{r} 7 \\ - 6 \\ \hline \end{array}$$

$$\begin{array}{r} 9 \\ - 8 \\ \hline \end{array}$$

$$\begin{array}{r} 4 \\ - 2 \\ \hline \end{array}$$

$$\begin{array}{r} 7 \\ - 4 \\ \hline \end{array}$$

$$\begin{array}{r} 9 \\ - 1 \\ \hline \end{array}$$

$$\begin{array}{r} 6 \\ - 5 \\ \hline \end{array}$$

$$\begin{array}{r} 7 \\ - 1 \\ \hline \end{array}$$

$$\begin{array}{r} 9 \\ - 5 \\ \hline \end{array}$$

$$\begin{array}{r} 8 \\ - 6 \\ \hline \end{array}$$

$$\begin{array}{r} 9 \\ - 4 \\ \hline \end{array}$$

$$\begin{array}{r} 5 \\ - 2 \\ \hline \end{array}$$

$$\begin{array}{r} 7 \\ - 3 \\ \hline \end{array}$$

$$\begin{array}{r} 5 \\ - 4 \\ \hline \end{array}$$

ACTIVIDAD #5.

Resuelve las siguientes **adiciones** o **sumas** con 2 dígitos o cifras:

$$\begin{array}{r} 38 \\ + 41 \\ \hline \end{array}$$

$$\begin{array}{r} 66 \\ + 10 \\ \hline \end{array}$$

$$\begin{array}{r} 45 \\ + 23 \\ \hline \end{array}$$

$$\begin{array}{r} 26 \\ + 11 \\ \hline \end{array}$$

$$\begin{array}{r} 22 \\ + 31 \\ \hline \end{array}$$

$$\begin{array}{r} 65 \\ + 7 \\ \hline \end{array}$$

$$\begin{array}{r} 47 \\ + 31 \\ \hline \end{array}$$

$$\begin{array}{r} 14 \\ + 62 \\ \hline \end{array}$$

$$\begin{array}{r} 84 \\ + 11 \\ \hline \end{array}$$

$$\begin{array}{r} 47 \\ + 12 \\ \hline \end{array}$$

$$\begin{array}{r} 16 \\ + 22 \\ \hline \end{array}$$

$$\begin{array}{r} 78 \\ + 11 \\ \hline \end{array}$$

$$\begin{array}{r} 63 \\ + 26 \\ \hline \end{array}$$

$$\begin{array}{r} 44 \\ + 54 \\ \hline \end{array}$$

$$\begin{array}{r} 76 \\ + 21 \\ \hline \end{array}$$

$$\begin{array}{r} 23 \\ + 51 \\ \hline \end{array}$$

$$\begin{array}{r} 76 \\ + 23 \\ \hline \end{array}$$

$$\begin{array}{r} 34 \\ + 22 \\ \hline \end{array}$$

$$\begin{array}{r} 67 \\ + 12 \\ \hline \end{array}$$

$$\begin{array}{r} 73 \\ + 15 \\ \hline \end{array}$$

$$\begin{array}{r} 55 \\ + 42 \\ \hline \end{array}$$

$$\begin{array}{r} 45 \\ + 31 \\ \hline \end{array}$$

$$\begin{array}{r} 63 \\ + 22 \\ \hline \end{array}$$

$$\begin{array}{r} 63 \\ + 21 \\ \hline \end{array}$$

$$\begin{array}{r} 24 \\ + 63 \\ \hline \end{array}$$

$$\begin{array}{r} 34 \\ + 34 \\ \hline \end{array}$$

$$\begin{array}{r} 27 \\ + 71 \\ \hline \end{array}$$

$$\begin{array}{r} 31 \\ + 34 \\ \hline \end{array}$$

$$\begin{array}{r} 65 \\ + 13 \\ \hline \end{array}$$

$$\begin{array}{r} 47 \\ + 22 \\ \hline \end{array}$$

$$\begin{array}{r} 22 \\ + 56 \\ \hline \end{array}$$

$$\begin{array}{r} 45 \\ + 43 \\ \hline \end{array}$$

$$\begin{array}{r} 55 \\ + 11 \\ \hline \end{array}$$

$$\begin{array}{r} 78 \\ + 11 \\ \hline \end{array}$$

$$\begin{array}{r} 27 \\ + 11 \\ \hline \end{array}$$

$$\begin{array}{r} 22 \\ + 52 \\ \hline \end{array}$$

$$\begin{array}{r} 42 \\ + 54 \\ \hline \end{array}$$

Escribe el signo **mayor >** o **menor <** o **igual =**:

$1 \bigcirc 7$

$5 \bigcirc 10$


$4 \bigcirc 5$

$10 \bigcirc 11$

$26 \bigcirc 20$

$12 \bigcirc 14$

$5 \bigcirc 6$



$2 \bigcirc 3$

[www.edufichas.com](http://www.edufichas.com)

$14 \bigcirc 21$

$7 \bigcirc 6$

$31 \bigcirc 29$

$3 \bigcirc 1$

$9 \bigcirc 8$

$4 \bigcirc 5$

$2 \bigcirc 6$

$6 \bigcirc 7$

$8 \bigcirc 1$



$7 \bigcirc 2$

$3 \bigcirc 4$

$3 \bigcirc 9$

$4 \bigcirc 8$

**ACTIVIDAD #7.**

Resuelve las siguientes **sustracciones** o **restas** con 2 dígitos o cifras:

$$\begin{array}{r} 47 \\ - 22 \\ \hline \end{array}$$

$$\begin{array}{r} 78 \\ - 11 \\ \hline \end{array}$$

$$\begin{array}{r} 39 \\ - 12 \\ \hline \end{array}$$

$$\begin{array}{r} 58 \\ - 15 \\ \hline \end{array}$$

$$\begin{array}{r} 22 \\ - 11 \\ \hline \end{array}$$

$$\begin{array}{r} 77 \\ - 36 \\ \hline \end{array}$$

$$\begin{array}{r} 19 \\ - 13 \\ \hline \end{array}$$

$$\begin{array}{r} 66 \\ - 26 \\ \hline \end{array}$$

$$\begin{array}{r} 95 \\ - 34 \\ \hline \end{array}$$

$$\begin{array}{r} 89 \\ - 19 \\ \hline \end{array}$$

$$\begin{array}{r} 57 \\ - 23 \\ \hline \end{array}$$

$$\begin{array}{r} 35 \\ - 34 \\ \hline \end{array}$$

#### ACTIVIDAD #8.

Escribe el número que va antes y el que va después:

	8	
--	---	--

	1	
--	---	--

	5	
--	---	--

	6	
--	---	--

	7	
--	---	--

	2	
--	---	--

	4	
--	---	--

	3	
--	---	--

	9	
--	---	--

	10	
--	----	--

	12	
--	----	--

	13	
--	----	--

	14	
--	----	--

	11	
--	----	--

#### ACTIVIDAD #9.

Escribe el número que sigue contando de 10 en 10:



10		30	
	60		
			120
		150	
170	180		
210		230	
	260		

**ACTIVIDAD #10.**

Escribe el número con la cantidad exacta:

