



Institución Educativa Ciudadela las Américas

Docentes: Maristella Valencia, Jorge A. Barrera, Ary Geovany Zape
Área o asignatura: GEOMETRÍA

ACTIVIDADES DE APOYO
Periodo Dos
Grado: 2°
Año 2022

Cálculo el área de la región rectangular mostrada debajo.



Cuenta cuántas veces está contenido la unidad cuadrada en la región.


1	2	3	4
5	6	7	8
9	10	11	12



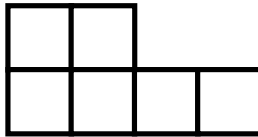
1 Unidad cuadrada

ÁREA = Unidades cuadradas

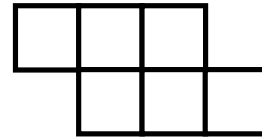
1. **Hallo el ÁREA de cada región poligonal.**




Área =
unidades cuadradas




Área =
unidades cuadradas




Área =
unidades cuadradas



Área =
unidades cuadradas



Área =
unidades cuadradas




Área =
unidades cuadradas

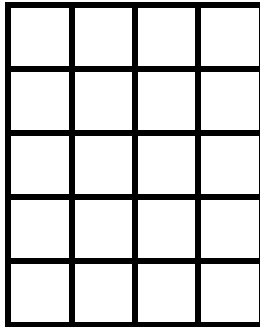
2. **Dibujo una región poligonal que tenga:**



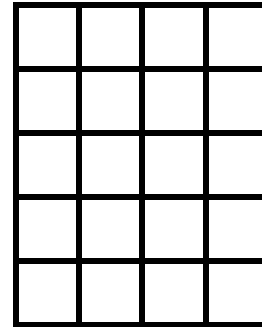
13 unidades cuadradas




9 unidades cuadradas



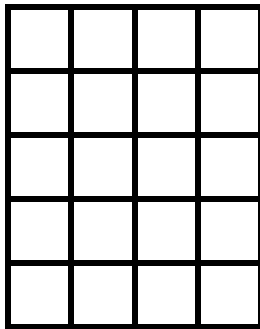
14 unidades cuadradas



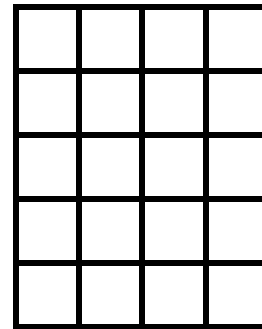
8 unidades cuadradas



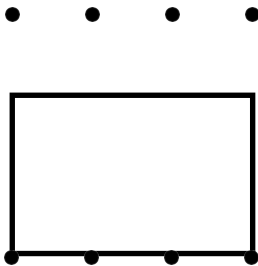
4 unidades cuadradas



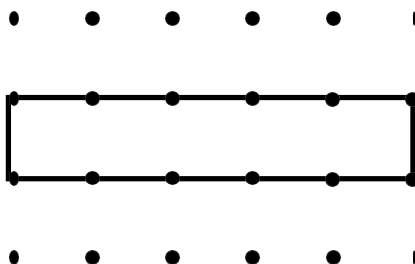
6 unidades cuadradas



3. Halla el perímetro de los siguientes polígonos.




Perímetro = u



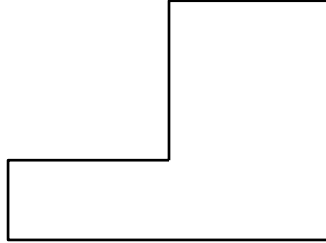
Perímetro = u



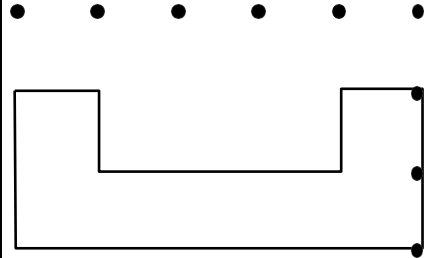
Perímetro = u



Perímetro = u




Perímetro = u



Perímetro = u

4. Observa adecuadamente y organiza los datos

La mamá de Oscar ha planeado preparar una rica causa rellena para almorzar el domingo en familia, por lo que ha comprado los siguientes ingredientes.



a. Completa la tabla de datos para organizar los ingredientes y responde:



Institución Educativa Ciudadela las Américas

Docentes: Maristella Valencia, Jorge A. Barrera, Ary Geovany Zape
Área o asignatura: GEOMETRÍA

ACTIVIDADES
DE APOYO
Periodo Dos
Grado: 2°
Año 2022

Ingrediente	Cantidad
Atún 	<input type="text"/>
Papa 	<input type="text"/>
Ají 	<input type="text"/>
Aceite 	<input type="text"/>
Huevo 	<input type="text"/>

1.- ¿Qué ingrediente se compró en mayor cantidad?

2.- ¿Qué ingrediente se compró en menor cantidad?

3.- ¿Cuántas papas más que ajíes se compraron?

4.- ¿Cuántos ajíes más que huevos se compraron?

5. Observa los siguientes animales, realiza el conteo de cada especie y consígnala en la siguiente tabla

ACTIVIDAD

¿Cuántos animales hay?








The image shows a collection of 20 animals scattered across the page. There are 5 dolphins, 4 octopuses, 2 ostriches, 4 deer, and 5 frogs.



Institución Educativa Ciudadela las Américas

Docentes: Maristella Valencia, Jorge A. Barrera, Ary Geovany Zape
Área o asignatura: GEOMETRÍA

ACTIVIDADES
DE APOYO
Periodo Dos
Grado: 2°
Año 2022

Animal	Conteo	Total
		
		
		
		
		

a. Realiza la tabla de frecuencias de la información de los animales