






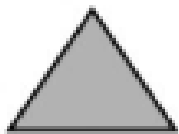
Docente: Sandra Milena Peláez Correa _ Grado: 4 Área o Asignatura: Geometría y Estadística

Período: Uno Año:2022

Escribe debajo *recta*, *semirrecta* o *segmento* según corresponda.



Cuenta el número de lados de cada polígono y relaciona.



Triángulo

Hexágono

Octógono


Decágono

Pentágono

Cuadrilátero


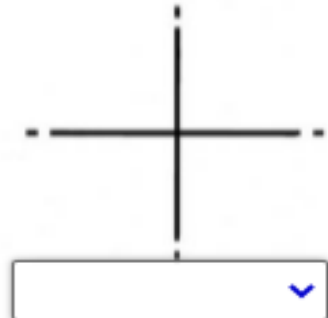
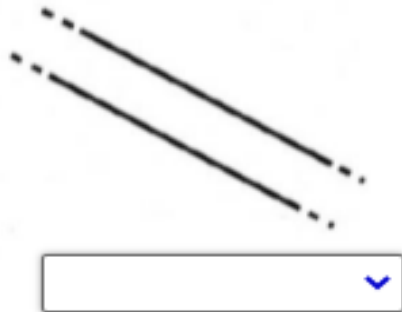
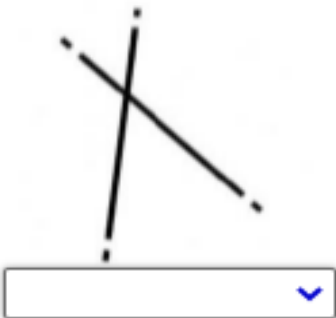


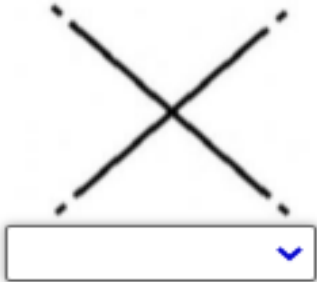
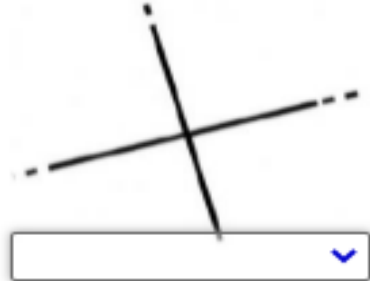
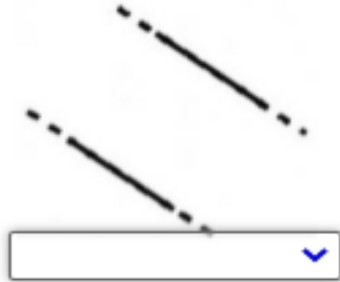
Heptágono

Ennégono





■ Observa los dibujos y selecciona para cada uno de ellos: rectas paralelas, rectas secantes o rectas perpendiculares.





Institución Educativa Ciudadela las Américas

ACTIVIDADES ESPECIALES DE APOYO CÁTEDRA DE LA PAZ

Completa la tabla siguiente (haz el dibujo en una hoja antes para contar mejor sus partes).

polígono	número de lados	número de diagonales	número de vértices
triángulo	<input type="text"/>	<input type="text"/>	<input type="text"/>
cuadrado	<input type="text"/>	<input type="text"/>	<input type="text"/>
pentágono	<input type="text"/>	<input type="text"/>	<input type="text"/>
hexágono	<input type="text"/>	<input type="text"/>	<input type="text"/>